

—ВШЕНІЯ ЗАДАЧЪ
ЭЛЕМЕНТАРНОЙ ГЕОМЕТРІИ

А КИСЕЛЕВА.

(На построение).

Составилъ

[студ. техн. В. И. Храбровицкій.

(Дказательства теоремъ, геометрическія мѣста и задачи на построение)



П. И. БОНАДУРЕФЪ,
влад. Южно-Русск. Книгоиздательства Ф. А. Юганс
КІЕВЪ—ПЕТРОГРАДЪ—ОДЕССА.
1915.

П. И. БОНАДУРЕРЪ

влад. Южно-Русск. К-ва Ф. А. Югансонъ.

В НЫЙ СКЛАДЪ: Кіевъ, Татарская ул. д. № 35/37

СОБРАНИЯ СОЧИНЕНІЙ.

Полное собраніе сочиненій А. С. Пушкина, богато иллюстр., *подъ редак.* и съ историко-литер. коммент. къ пьсам, прозв., поэмамъ, примѣч. къ текстѣ и вступ. статей Г. В. Александровскаго (автора «Чтеній по новейшей русской литературѣ»). Въ перепл. Ц. 3 р.

Учен. Комит. М. Н. П. допущенъ въ ученич. библ.

Полное собраніе сочиненій Н. В. Гоголя, богато иллюстр., *подъ ред.* и съ ист. лит. ком. къ вѣн. прозв., поэм., примѣч. къ текстѣ и вступ. статей Г. В. Александровскаго Въ перепл. Ц. 3 р.

Полное собраніе сочиненій М. Ю. Лермонтова, богато иллюстрировано., съ вступительной статьей профессора Араб-янна, провѣренное по Академическому изданію. Въ пер. 2 р. 50 к.

В. Г. Вѣликии, 4 больш. тома. Ц. 3 р.
Г. Ф. Квятка-Осоловьяненко, въ 2-хъ томахъ 1 р. 35 к.

Т. Шевченко, Полный Кобзарь, въ редакціи Доманицкаго, съ илл., съ матер. по полн. илл. Ц. 85 к. Въ папкѣ 1 р. 10 к. Въ переплетѣ. Ц. 1 р. 35 к. На лучшей бумагѣ. Ц. 1 р. 25 к. Въ папкѣ 1 р. 50 к. Въ переплетѣ Ц. 2 р.

Н. А. Крыловъ. Полное собр. басенъ Ц. 35 к. Въ папкѣ. Ц. 50 к. На лучш. бум. въ роск. пер. Ц. 1 р. Миниатюрн. издан. Ц. 15 к.

Учен. Комит. М. Н. П. допущенъ въ ученич. библ.

КОЛЛЕКЦІЯ КАРМАННЫХЪ СЛОВАРЕЙ въ колонокорыхъ переплетѣхъ.

- 1) Французско-Русскій карманный словарь. Составилъ Е. Яковлевъ. Одобрень Ученымъ Комитетомъ. Ц. 75 к.

2) Нѣмецко-Русскій карманный с. Одобрень Ученымъ Комитетомъ Л. Д. Фопъ-Циглеръ. Ц. 75 к.

3) Англійско-русскій карманный с. Одобрень Ученымъ Комитетомъ. виль Э. Гоквнсъ. Ц. 75 к.

4) Латинско-русскій карманный с. Состав. Фоминскій. Одобрень Ученымъ Комитетомъ. Ц. 75 к.

5) Русско-латинскій словарь. Мал. та. Въ перепл. Ц. 45 к.

6) Русско-французскій карман. с. Составилъ П. Г. Сиварковъ. Одобрень Ученымъ Комитетомъ. Ц. 75 к.

7) Русско-измеченій карманный с. Составилъ Левенсонъ. Одобрень Ученымъ Комитетомъ. Ц. 75 к.

8) Русско-англійскій карманный с. Состав. Д. Селвинтъ. Одобрень Ученымъ Комитетомъ. Ц. 75 к.

9) Словарь иностранныхъ словъ. С. Н. Гавриль. Ц. 85 к.

10) Итальяно-русскій карманный с. Ц. 1 р.

безъ переплетовъ на 16 коп. дешевѣе

11) Словарь иностранныхъ ищсателе портретами биографими и критик. извѣд. Въ 2-хъ томахъ. Ц. 1 р. 50 к.

12) Д. Н. Селвинтъ. Карманная энциклопедия и словотолкователь по разнымъ источникамъ, безъ пер. Ц.

КОЛЛЕКЦІЯ МИНИАТЮРНЫХЪ ВАРЕВЪ «ЛИЛИПУГЪ»

Нѣмецко-русскій, русско-нѣм. франц.-русскій, русско-франц. по 2 Латинско-русск., русско-латинск., русско-чешск., греческо-русскій по 45 к.

РѢШЕНІЯ ЗАДАЧЪ
ЭЛЕМЕНТАРНОЙ ГЕОМЕТРІИ

А. КИСЕЛЕВА.
(На построение).

Составилъ
студ. техн. В. И. Храбровицкій.

Доказательства, теоремъ, геометрическихъ задачъ на построение).

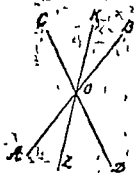


П. И. БОНАДУРЕРЪ,
влад. Южно-Русск. Книгоиздательства Ф. А. Югансонъ.
КИЕВЪ — ПЕТРОГРАДЪ — ОДЕССА.
1915.

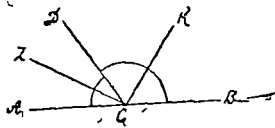
1. Пусть OK и OZ суть биссектрисы; требуется, что KOZ есть прямая линия. $\angle COB + \angle BOD = 2d$, как смежные, а $\angle KOC = \angle DOZ$, как половины вертикальных углов, след., вместо $\angle COB$ можно вставить: $\angle COK + \angle KOB = \angle DOZ + \angle KOB$, и равенство 1-е обратится в: $\angle DOZ + \angle KOB + \angle BOD = 2d$, значит, на основании обратной теоремы о смежных углах KO и OZ составляют прямую линию.

2. Пусть CK и CZ будут биссектрисами смежных углов ACD и DCB ; требуется доказать, что $ZCK = d$; угол ZCK составлен из двух углов ZCD и DCK , которые = половине смежных углов, и в совокупности составляют полусумму смежных углов, т. е. $= \frac{2d}{2} = d$.

3. По условию $\angle AOD = \angle BOC$; $\angle AOD + \angle DBO = 2d$, как смежные, подставим в это равенство, вместо $\angle AOD = \angle BOC$, получим $\angle BOC + \angle DOB = 2d$, что на основании обратной теоремы о смежных углах доказывает теорему.



зад. 1.



зад. 2.



зад. 3.

4. По условию: $\angle AOC = \angle DOB$ (см. предыдущ. чертеж) и $\angle AOD = \angle COB$; $\angle AOD + \angle DOB + \angle COB + \angle AOC = 2\angle AOD + 2\angle DOB = d$, как сумма углов вокруг одной точки; след., сократив последнее равенство на 2, получим: $\angle AOD + \angle DOB = \frac{d}{2}$, что на основании обратной теоремы о смежных углах доказывает, что AO есть продолжение OB .

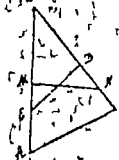
5. 1) AM и AN суть медианы; въ $\triangle AMC$ и $\triangle ANC$ есть общая сторона AC , $\angle ACM = \angle CAN$, какъ углы при основани равнобедреннаго $\triangle ABC$, стороны MC и NA равны, какъ половины равныхъ боковыхъ сторонъ, итакъ $\triangle AMC$ и $\triangle ANC$ равны слѣд. и $AM = CN$; 2) AK и CZ — биссектрисы: $\triangle AKC = \triangle AZC$ (AC — общая, $\angle ACK = \angle CAZ$, по упомянутому и $\angle KAC = \angle ZCA$ какъ половины равныхъ угловъ), изъ равенства $\triangle AKC = \triangle AZC$ слѣдуетъ что $AK = CZ$; 3) AD и CE — высоты, $\triangle ADC = \triangle AEC$, какъ прямоугольные, имѣюще общую гипотенузу и острый угол $\angle DCA = \angle CAE$; значить $AD = CE$.

6. $DE \perp BC$, $MN \perp AB$, $AM = MB$, $BD = DC$ по условию, $MN = DE$? $\triangle BDE = \triangle BMN$ (катеты BD и BM равны, какъ половины равныхъ боковыхъ сторонъ равнобедреннаго $\triangle ABC$, $\angle B$ — общий слѣд. $DE = MN$).

7. Согласно условию $AZ = AK$, $KM \perp AC$ и $MZ \perp AB$; требуется доказать, что $\angle CAM = \angle BAM$? \triangle -ки AKM и AZM имѣютъ общую гипотенузу AM и катетъ $AK = AZ$, значить \triangle -ки равны $\angle KAM = \angle MAZ$.



зад 5



зад 6



зад 7

8. По условию $\angle 1 = \angle 2$, и $KZ \perp AM$; значить \triangle -ки $AKE = \triangle AEZ$ по общему катету AE и по равному острому углу, слѣд. $AK = AZ$.

9. По условию $AE = EC$, требуется доказать, что $BE < \frac{AB + BC + CA}{2}$. изъ \triangle -ки ABE имѣемъ: $BE < AB + AE$, и изъ \triangle -ки EBC , $BE < BC + CE$ складывая почленно эти два неравенства, получимъ: $2BE < AB + AE + BC + CE$ или $2BE < AB + BC + AC$, откуда $BE < \frac{AB + BC + CA}{2}$.

10. Четыреугольникъ $ABCD$ есть параллелограммъ, такъ какъ диагонали AC и BD дѣлятся пополамъ въ точкѣ E ($AE = EC$ по