

—ВШЕНІЯ ЗАДАЧЪ
ЭЛЕМЕНТАРНОЙ ГЕОМЕТРІИ

А КИСЕЛЕВА.

(На построение).

Составилъ

[студ. техн. В. И. Храбровицкій.

(Дказательства теоремъ, геометрическія мѣста и задачи на построение)



П. И. БОНАДУРЕФЪ,
влад. Южно-Русск. Книгоиздательства Ф. А. Юганс
КЛЕВЪ—ПЕТРОГРАДЪ—ОДЕССА.
1915.

П. И. БОНАДУРЕРЪ

влад. Южно-Русск. К-ва Ф. А. Югансонъ.

В НЫЙ СКЛАДЪ: Кіевъ, Татарская ул. д. № 35/37

СОБРАНИЯ СОЧИНЕНІЙ.

Полное собраніе сочиненій А. С. Пушкина, богато иллюстр., *подъ редак.* и съ историко-литер. коммент. къ пьесамъ, прозв., пояснит. примѣч. къ тексту и вступ. статей Г. В. Александровскаго (автора «Чтеній по новейшей русской литературѣ»). Въ перепл. Ц. 3 р.

Учен. Комит. М. Н. П. допущенъ въ ученич. библ.

Полное собраніе сочиненій Н. В. Гоголя, богато иллюстр., *подъ ред.* и съ ист. лит. ком. къ вѣн. прозв., поясн. прим. къ тексту и вступ. статей Г. В. Александровскаго Въ перепл. Ц. 3 р.

Полное собраніе сочиненій М. Ю. Лермонтова, богато иллюстрировано., съ вступительной статьей профессора Араб-янна, просмотренное по Академическому изданію. Въ пер. 2 р. 50 к.

В. Г. Вѣликии, 4 больш. тома. Ц. 3 р.
Г. Ф. Квятка-Осоловьяненко, въ 2-хъ томахъ 1 р. 35 к.

Т. Шевченко, Полный *Кобзарь*, въ редакціи Доманицкаго, съ илл., съ матер. по полн. илл. Ц. 85 к. Въ папкѣ 1 р. 10 к. Въ переплетѣ. Ц. 1 р. 35 к. На лучшей бумагѣ. Ц. 1 р. 25 к. Въ папкѣ 1 р. 50 к. Въ переплетѣ Ц. 2 р.

Н. А. Крыловъ. Полное собр. басенъ Ц. 35 к. Въ папкѣ. Ц. 50 к. На лучш. бум. въ роск. пер. Ц. 1 р. Миниатюрн. издан. Ц. 15 к.

Учен. Комит. М. Н. П. допущенъ въ ученич. библ.

КОЛЛЕКЦІЯ КАРМАННЫХЪ СЛОВАРЕЙ въ колонокорыхъ переплетѣхъ.

- 1) Французско-Русскій карманный словарь. Составилъ Е. Яковлевъ. Одобрень Ученымъ Комитетомъ. Ц. 75 к.

2) Нѣмецко-Русскій карманный с. Одобрень Ученымъ Комитетомъ Л. Д. Фопъ-Циглеръ. Ц. 75 к.

3) Англійско-русскій карманный с. Одобрень Ученымъ Комитетомъ. Виль Э. Гоквнсъ. Ц. 75 к.

4) Латинско-русскій карманный с. Состав. Фоминскій. Одобрень Ученымъ Комитетомъ. Ц. 75 к.

5) Русско-латинскій словарь. Мал. та. Въ переп. Ц. 45 к.

6) Русско-французскій карман. съ составилъ П. Г. Сивяковъ. Одобрень Ученымъ Комитетомъ. Ц. 75 к.

7) Русско-измечій карманный с. Составилъ Левенсонъ. Одобрень Ученымъ Комитетомъ. Ц. 75 к.

8) Русско-англійскій карманный с. Состав. Д. Селвинтъ. Одобрень Ученымъ Комитетомъ. Ц. 75 к.

9) Словарь иностранныхъ словъ. С. Н. Гавриль. Ц. 85 к.

10) Итальяно-русскій карманный с. Ц. 1 р.

безъ переплетовъ на 16 коп. дешевѣе

11) Словарь иностранныхъ ищателей портретами биографими и критик. извѣд. Въ 2-хъ томахъ. Ц. 1 р. 50 к.

12) Д. Н. Селвинтъ. Карманная энциклопедия и словотолкователь по разнымъ источникамъ, безъ пер. Ц.

КОЛЛЕКЦІЯ МИНИАТЮРНЫХЪ ВАРЕВЪ «ЛИЛИПУГЪ»

Нѣмецко-русскій, русско-нѣм. франц.-русскій, русско-франц. по 2 Латинско-русск., русско-латинск., русско-чешск., греческо-русскій по 45 к.

РѢШЕНІЯ ЗАДАЧЪ
ЭЛЕМЕНТАРНОЙ ГЕОМЕТРИИ

А. КИСЕЛЕВА:
(На построение)

Составилъ
студ. техн. В. И. Храбровицкій

Доказательства, теоремъ, геометрическихъ задачъ
(на построение)

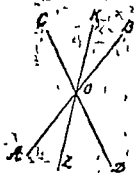


П. И. БОНАДУРЕРЪ,
влад. Южно-Русск. Книгоиздательства Ф. А. Югансонъ.
КИЕВЪ — ПЕТРОГРАДЪ — ОДЕССА:
1915.

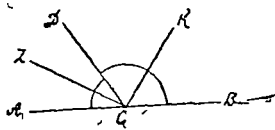
1. Пусть OK и OZ суть биссектрисы; требуется, что KOZ есть прямая линия. $\angle COB + \angle BOD = 2d$, как смежные, а $\angle KOC = \angle DOZ$, как половины вертикальных углов, след., вместо $\angle COB$ можно вставить: $\angle COK + \angle KOB = \angle DOZ + \angle KOB$, и равенство 1-е обратится в: $\angle DOZ + \angle KOB + \angle BOD = 2d$, значит, на основании обратной теоремы о смежных углах KO и OZ составляют прямую линию.

2. Пусть CK и CZ будут биссектрисами смежных углов ACD и DCB ; требуется доказать, что $ZCK = d$; угол ZCK составлен из двух углов ZCD и DCK , которые = половине смежных углов, и в совокупности составляют полусумму смежных углов, т. е. $= \frac{2d}{2} = d$.

3. По условию $\angle AOD = \angle BOC$; $\angle AOD + \angle DBO = 2d$, как смежные, подставим в это равенство, вместо $\angle AOD = \angle BOC$, получим $\angle BOC + \angle DOB = 2d$, что на основании обратной теоремы о смежных углах доказывает теорему.



зад. 1.



зад. 2.



зад. 3.

4. По условию: $\angle AOC = \angle DOB$ (см. предыдущ. чертеж) и $\angle AOD = \angle COB$; $\angle AOD + \angle DOB + \angle COB + \angle AOC = 2\angle AOD + 2\angle DOB = d$, как сумма углов вокруг одной точки; след., сократив последнее равенство на 2, получим: $\angle AOD + \angle DOB = \frac{d}{2}$, что на основании обратной теоремы о смежных углах доказывает, что AO есть продолжение OB .

5. 1) AM и AN суть медианы; въ $\triangle AMC$ и $\triangle ANC$ ест общая сторона AC , $\angle ACM = \angle CAN$, какъ углы при основани равнобедреннаго \triangle -ка, стороны MC и NA равны, какъ половины равныхъ боковыхъ сторонъ, итакъ $\triangle AMC$ и $\triangle ANC$ равны слѣд. и $AM = CN$; 2) AK и CZ — биссектрисы: $\triangle AKC = \triangle AZC$ (AC — общая, $\angle ACK = \angle CAZ$, по упомянутому и $\angle KAC = \angle ZCA$ какъ половины равныхъ угловъ), изъ равенства \triangle -овъ слѣдуетъ что $AK = CZ$; 3) AD и CE — высоты, $\triangle ADC = \triangle AEC$, какъ прямоуглыя, имѣюще общую гипотенузу и острый уголъ $\angle DCA = \angle CAE$; значить $AD = CE$.

6. $DE \perp BC$, $MN \perp AB$, $AM = MB$, $BD = DC$ по условию, $MN = DE$? $\triangle BDE = \triangle BMN$ (катеты BD и BM равны, какъ половины равныхъ боковыхъ сторонъ равнобедреннаго \triangle -ка, $\angle B$ — общий слѣд., $DE = MN$).

7. Согласно условию $AZ = AK$, $KM \perp AC$ и $MZ \perp AB$; требуется доказать, что $\angle CAM = \angle BAM$? \triangle -ки AKM и AZM имѣютъ общую гипотенузу AM и катетъ $AK = AZ$, значить \triangle -ки равны $\angle KAM = \angle MAZ$.



зад 5



зад 6



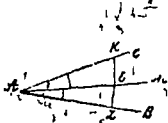
зад 7

8. По условию $\angle 1 = \angle 2$, и $KZ \perp AM$; значить \triangle -ки $AKE = \triangle AEZ$ по общему катету AE и по равному острому углу, слѣд. $AK = AZ$.

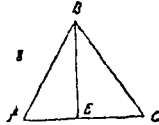
9. По условию $AE = EC$, требуется доказать, что $BE < \frac{AB + BC + CA}{2}$. изъ \triangle -ка ABE имѣемъ: $BE < AB + AE$, и изъ \triangle -ка EBC , $BE < BC + CE$ складывая почленно эти два неравенства, получимъ: $2BE < AB + AE + BC + CE$ или $2BE < AB + BC + AC$, откуда $BE < \frac{AB + BC + CA}{2}$.

10. Четыреугольникъ $ABCD$ есть параллелограмъ, такъ какъ диагонали AC и BD дѣлятся пополамъ въ точкѣ E ($AE = EC$ по

условия $BE=ED$ по построению): из \triangle -ка BDC имеем $BD < BC + CD$ (или $2BE < BC + AB$ (т. е. $CD=AB$, какъ противоположные стороны параллелограмма) откуда получим $BE < \frac{AB+BC}{2}$.



зад. 8

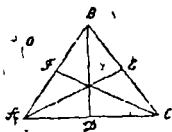


зад. 9.

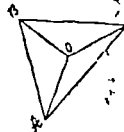


зад. 10.

10а. Согласно предыдущей теореме $BD < \frac{AB+BC}{2}$, $AE < \frac{AB+AC}{2}$, $CF < \frac{CB+CA}{2}$, складывая эти три неравенства, получим: $AE + BD + CF < \frac{2AB + 2BC + 2AC}{2}$, откуда $AE + BD + CF < AB + BC + AC$; чтобы доказать вторую половину теоремы, мы рассмотрим \triangle -ки: ABD , BCF , AEC , из которых имеем: $BD > BC - CD$, $AE > AB - BE$, $CF > AC - AF$, складывая почленно, получим $BD + AE + CF > BC - CD + AB - BE + AC - AF$; или $BD + AE + CF > AB + BC + AC - \frac{AB}{2} - \frac{BC}{2} - \frac{AC}{2}$, или: $BD + AE + CF > \frac{AB + BC + AC}{2}$.



зад. 10а



зад. 11.

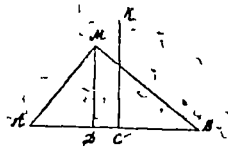
11. $AO + OB + OC < AB + BC + AC$? Зная что объемлемая меньшая меньше объемлющей, мы можем написать $AO + OC < AB + BC$, $AO + OB < AC + CB$, $OB + OC < AC + AB$, складывая почленно эти неравенства, получим: $2(AO + OB + OC) < 2(AB + BC + AC)$, откуда имеем: $AO + OB + OC < AB + BC + AC$; кроме того, надо доказать $AO + OB + OC > \frac{AB + BC + AC}{2}$, из \triangle -овъ AOB , BOC и AOC

имеем: $AO + OC > AC$, $AO + OB > AB$, $BO + OC > BC$; складывая почленно, получим: $2(AO + OC + OB) > AB + AC + BC$, сократить на 2, получим: $AO + OC + OB > \frac{AB + AC + BC}{2}$.

11а. $AC + BD < AB + BC + CD + DA$. Изб. Δ -овъ ABD , BDC имеем: $BD < AB + AD$, $BD < BC + CD$, складывая получим $2BD < AB + AD + BC + CD$; точно такъ же изъ Δ -овъ ABC и AD получим: $2AC < AB + BC + CD + DA$; складывая это неравенство съ прежнимъ, получимъ: $2BD + 2AC < 2(AB + BC + CD + DA)$ откуда имеемъ: $BD + AC < AB + BC + CD + DA$; кроме того, надо доказать, что $AC + BD > \frac{AB + BC + CD + DA}{2}$; изъ Δ -овъ AOB , BOC , COB имеемъ: $AO + OB > AB$, $BO + OC > BC$, $CO + OD > DC$, складывая почленно получимъ: $2(AO + OB + OC + OD) > AD + AB + BC + DC$; откуда имеемъ: $2(AC + BD) > AD + AB + BC + DC$, или $AC + BD > \frac{AD + AB + BC + DC}{2}$.



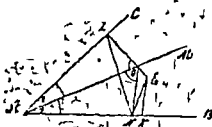
зад. 11.



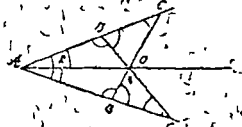
зад. 11а.

12. Точка M не лежит на перпендикулярѣ къ среднѣй AB (этотъ перпендикуляръ есть линия KC), следовательно, если черезъ точку M провести $MD \perp$ къ отрезку AB , то $AD < DB$ и наклонная MA ; какъ менѣе удаленная отъ перпендикуляра MD , $< MB$.

13. Задано точка E , лежащая внѣ биссектрисы AM ; $EK \perp AB$, $EZ \perp AC$; нужно доказать, что $EZ > EK$; изъ пересѣченія ZE съ биссектрисой, точки O , проводимъ перпендикуляръ ON къ AB ; соединяемъ Z съ N и получаемъ Δ -къ OZN равнобедренный, т. е. $OZ = ON$; MA будетъ служить \perp къ среднѣй ZN ; точка E не лежитъ на этомъ \perp (доказательство, что биссектриса $MA \perp ZN$ въ среднѣй Δ -ки AOZ и AON равны по гипотенузѣ AO и $\angle 1 = \angle 2$, слѣд. $\angle ZO A = \angle NO A$ и линия MA есть биссектриса равнобедреннаго Δ -ка ZON , слѣд. $MA \perp ZN$ въ среднѣй), значитъ на основаніи предыдущей теоремы $EZ > EN$, а такъ какъ $EN > EK$, такъ наклонная по отношенію къ \perp , то $EZ > EK$.



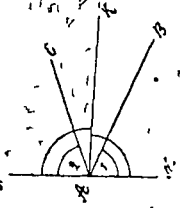
зад. 13



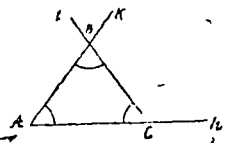
зад. 13а

13а. По условию $AB_1=AB$, $AC_1=AC$; вычтя первое равенство из второго, получим: $AC_1-AB_1=AC-AB$ или $B_1C_1=BC$; $\triangle AB_1C=\triangle AC_1B$ (общ. $\angle A$ и по две равны заключающия стороны); слѣд., $\angle C_1=C$; далѣе $\angle AB_1C=\angle BC_1A$ (изъ равенства тѣхъ же \triangle -овъ AB_1C и AC_1B); $\angle CB_1C_1=\angle C_1BC$ какъ дополненія до 2д равныхъ угловъ; $\triangle OB_1C_1=\triangle OBC$ ($BC=BC_1$ и два прилежащихъ угла); слѣд., $OB=OB_1$ и $\triangle AOB=\triangle AOB_1$ (AO общая сторона, $AB=AB_1$ и $OB=OB_1$); слѣд., $\angle 1=\angle 2$ и линия AO , проведенная, чрезъ прѣсѣченіе BC_1 и B_1C , есть биссектриса $\angle A$.

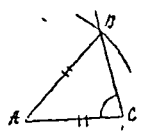
18. По условию $\angle 1=\angle 2$; возставимъ въ точкѣ I къ NM ; $\angle NAK=\angle MAK=d$, вычтя изъ второго первое равенство, получимъ $\angle NAK-\angle 2=\angle MAK-\angle 1$, или $\angle CAK=\angle BAK$, т. е. KA есть биссектриса $\angle BAC$; теперь ясно построение: нужно провести биссектрису $\angle BAC$ и провести $NM \perp AK$. тогда $\angle 1=\angle 2$.



зад. 18



зад 19 а).




зад. 19 с).

19. а) Даны: AC , AB и $\angle A$; построить \triangle ; откладываемъ на произвольной прямой AN линію, равную AC и при точкѣ A строимъ $\angle = \angle A$, потомъ на линіи AK откладываемъ отръзокъ $=$ сторонѣ AB и точку B соединимъ съ C , получимъ искомый \triangle ; б) даны: сторона AC , $\angle \angle A$ и C , построить \triangle ; откладываемъ на AN отръзокъ $= AC$, при точкахъ A и B строимъ данные $\angle \angle$ и въ прѣсѣченіи AK CZ получимъ третью величину B ; с) Даны: AC , AB и $\angle C$ (т. е. $AB > AC$); откладываемъ AC тропиъ $\angle C$ при

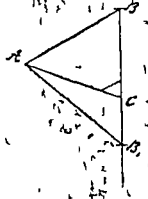
точки C , проводимъ изъ точки A дугу радиусомъ, равнымъ большей сторонѣ AB и находимъ въ пресѣченіи точку C_1 . Исследованіе. I. Углы C — тупой. Такъ какъ дуга, проведенная изъ точки A радиусомъ, равнымъ AB пересѣчетъ линию BC и ея продолженіе въ двухъ точкахъ B и B_1 , то получится два треугольника: ABC и ACB_1 , изъ которыхъ второй не соответствуетъ условию ($\angle ACB_1$ — острый); въ этомъ случаѣ — одно рѣшеніе.

II. Углы C — острый. Въ этомъ случаѣ, какъ легко убѣдиться изъ чертежа, имѣемъ опять таки одно рѣшеніе, т. е. $\triangle ACB_1$ не соответствуетъ условию ($\angle ACB_1$ — тупой).

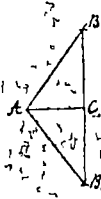
III. Углы C — прямой; въ этомъ случаѣ имѣемъ два рѣшенія, т. е. $\triangle ABC$ и $\triangle AB_1C$ удовлетворяютъ одновременно условию ($\angle \angle ACB$ и $\angle ACB_1$ каждый въ отдѣльности $= d$).



наслѣд. I



наслѣд. II



наслѣд. III

20. а) Откладываемъ отрезокъ, равный основанію AC , затѣмъ изъ точки радиусомъ, равнымъ боковой сторонѣ дѣлаемъ дужку, изъ точки C тѣмъ же радиусомъ проводимъ дугу, и въ пресѣченіи дугъ находимъ вершину B .

б) Откладываемъ сначала отрезокъ, равный основанію AC , затѣмъ при точкахъ A и C строимъ $\angle \angle$ равные, заданному по условию и въ пресѣченіи двухъ линий AB и CB находимъ вершину B .

в) Здѣсь приходится строить треугольникъ по двумъ сторонамъ и углу между ними.

г) Здѣсь приходится строить по двумъ сторонамъ и углу противъ одной, изъ нихъ, что уже извѣстно.

21. а) Такъ какъ \angle между катетами $= d$, то задача сводится къ построению \triangle -ка по двумъ сторонамъ и углу между ними.

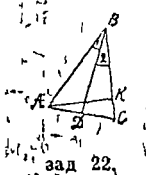
б) Углы $\angle d$ между катетами извѣстенъ; слѣдъ, задача сводится къ построению \triangle -ка по двумъ сторонамъ и углу противъ большей изъ нихъ, см. № 19; здѣсь два рѣшенія.

Если $\angle C$ известен, то задача сводится к построению $\triangle ABC$ по стороне и двум прилежащим \angle .

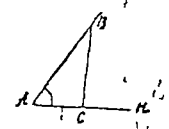
22. а) Биссектриса BD делит равнобедр. \triangle на 2 равных прямоугольных \triangle -ка: ABD и DBC , зная высоту BD и боковую сторону AB легко построить на основании № 21 в) $\triangle ABD$ и по-том из точки B радиусом, равным BC пересечь основание AC .

б) $\triangle ABD$ легко построить на основании № 21 с), т.к. $\angle B$ известен, кроме того $\angle ADB = d$ и BD дана.

в) $\triangle AKC$ ($AK \perp BC$) легко построить на основании № 21 б) и AC и AK даны по условию; далее, чтобы получить искомый $\triangle ABC$ надо продолжить CK до пересечения с BD , перпендикулярной к средней AC , и на пересечении найдем точку B , которую соединим с A .



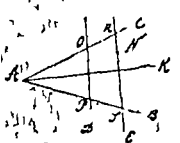
зад. 22.



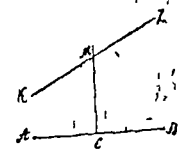
зад. 23.

23. Проводим бесконечную линию AH , при точке A строим $\angle CAH$, равный данному, затем на стороне этого угла AB откладываем отрезок, равный гипотенузы и из конца его B опускаем $BC \perp AH$, получим $\triangle ABC$ искомый.

24. Через точку M (вне угла BAC) или через точку N (внутри $\angle BAC$), проведены линии MD или NE так, что $AO = AP$ и $AR = AS$; $\triangle AOP$ и ARS равнобедренны таким образом; проведем AK биссектрису $\angle BAC$; она $\perp OP$ и $\perp RS$ (по свойству биссектр. равнобедрен. \triangle -ка), откуда вытекает построение линий MD и NE , проводим биссектрису $\angle BAC$, это будет AK ; затем через точки M и N проводим $MD \perp AK$ и $NE \perp AK$, тогда $AO = AP$ и $AR = AS$.



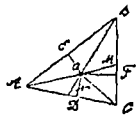
зад. 24.



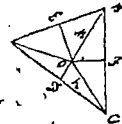
зад. 27.

27. Для нахождения искомой точки соединимъ А и В, середины отръзка АВ возставимъ \perp СМ до пересѣченія съ прямой КZ (данной); точка М будетъ искомая, такъ какъ она лежитъ на прямой КZ и на \perp къ серединѣ АВ; точно такое же построение будетъ и тогда, когда точки А и В находятся по обѣ стороны отъ КZ.

30. Геометрическимъ мѣстомъ точекъ, равноудаленныхъ отъ сторонъ АС и АВ, будетъ биссектриса \angle САВ, т. е. линія АМ; точно такъ же говоримъ, что искомая точка должна лежать на биссектрисѣ \angle АВС, т. е. линіи ВN; искомая точка, находясь одновременно на АМ и ВN, будетъ лежать въ пересѣченіи ихъ: елико будетъ точка О, теперь докажемъ, что точка О будетъ также равноудалена отъ сторонъ СВ и СА \angle ВСА, для доказательства опустимъ изъ точки О перпендикуляры на всѣ стороны: ОЕ, ОF, ОD и докажемъ что $OD=OF$, известно, что $OD=OE$ и $OE=OF$, отсюда ясно, что $OD=OF$.



зад 30



зад 8

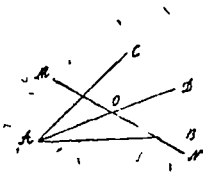
28. Геометрическимъ мѣстомъ точекъ, равноудаленныхъ отъ двухъ точекъ А и С будетъ $DM \perp AC$ въ серединѣ стороны АС на линіи DM должна находиться искомая точка; кромѣ того, она должна находиться на равномъ разстояніи отъ точекъ А и В; слѣдъ она должна лежать на $EK \perp AB$ въ ея серединѣ Е; значить, искомая точка, находясь одновременно на DM и EK, будетъ лежать въ ихъ пересѣченіи, это будетъ точка О; она будетъ равноудалена отъ точекъ А, В и С.

29. Искомая точка будетъ находиться на пересѣченіи биссектрисы \angle ВАС, т. е. линіи AD съ данною линіею MN; это будетъ точка о, т. е. по свойству биссектрисы она находится на равномъ разстояніи отъ сторонъ \angle ВАС.

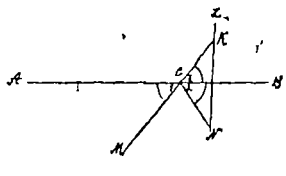
30. Рѣшеніе смъ равнѣе послѣ № 27.

31. Положимъ, искомая точка С найдена; опустимъ изъ точки N (данной по условию) $NZ \perp AB$ и продолжимъ MC до пересѣче-

ния в точки К, тогда по свойству точки С $\angle 1 = \angle 2$, и $\angle 1 = \angle 3$ по свойству вертикальных углов; отсюда $\angle 3 = \angle 2$ и Δ -ки СКД и СДN (прямоугольные) будут равны (общий катет CD и равные острые углы: $\angle 3 = \angle 2$), отсюда слѣдует, что $KD = DN$; теперь построение ясно: надо из точки N опустить $NZ \perp AB$, отложить $DK = DN$, и точка К соединить прямой линіей съ данной другой точкой М; на пересѣченіи КМ съ АВ будетъ лежать искома точка С; если мы теперь соединим С съ N, то $\angle 1 = \angle 2$

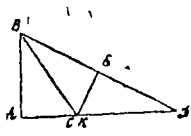


зад 29

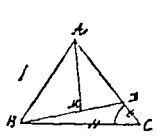


зад 31.

32. Строимъ сначала прямоугольный ΔABD , одинъ катетъ котораго = данному катету АВ, а другой $AD =$ суммѣ гипотенузы и катета искомаго Δ -ка; затѣмъ изъ точки Е, середины гипотенузы BD построеннаго Δ -ка ABD проводимъ $EK \perp BD$, и въ пересѣченіи съ AD находимъ точку С; ABC будетъ искомый Δ -къ, такъ какъ $BC = CD$, и $AC + BC = AC + CD =$ заданной суммѣ.



зад 32



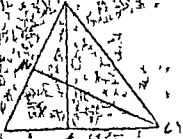
зад 33

33. I. $AC > AB$, отсюда: $\angle B > \angle C$; дано: основание BC , разность $AC - AB = DC$ и $\angle C$ меньшій чѣмъ $\angle B$; для построения отъ точки С откладываемъ на сторонѣ AC (большей) отрѣзокъ DC , равный разности боковыхъ сторонъ; т. е. опредѣляется ΔBDC (по двумъ сторонамъ и углу С между ними); построивъ ΔBDC по даннымъ изъ условия, мы изъ точки М, середины стороны BD , проводимъ $MA \perp BD$ и въ пересѣченіи этого перпендикуляра съ продолженіемъ DC находимъ точку А, которую соединимъ съ В и получимъ искомый ΔABC (по свойству $MA \perp BD$ въ серединѣ BD $AB = AD$ и $AC - AB = DC$ удовлетворяеть условию).

II. $AB > AC$ и $\angle C > \angle B$, для построения продолжим вниз и отложим $AB - AC = CD =$ данной разности; тогда получится $\triangle BCD$ (в нем известно: основание BC , $\angle BCD = 180^\circ - \angle C$ и $CD =$ данной разности $= AB - AC$); построим $\triangle BCD$ из точки M — середины стороны BD , проводим $MA \perp BD$ и пересечением с продолжением CD находим точку A , которую соединим с B и получим искомый $\triangle ABC$ (по свойству $MA \perp BD$ в ее средней $AB = AD$ и $AB + AC = DC =$ данной разности).

34. Сначала строим прямоугольный $\triangle DBA$, один катет которого $AB =$ данному, а $AD =$ разности между гипотенузой и катетом искомого \triangle -ка, чтобы от \triangle -ка ABD перейти к искомому, в середине M проводим $MC \perp BD$ и на пересечении продолжением катета DA находим искомую точку C ; $\triangle ABC$ удовлетворяет условию. $AB =$ данному катету, кроме того $BC = AC =$ данной разности DA , потому что по свойству MC (перпендик к средней BD) $BC = CD$, а $DC - AC = AD$, след. $BC - AC = AD$.

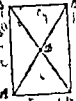
37. Пусть E — середина AB , F — середина BC и т. д., проведем диагональ BD ; рассмотрим \triangle -ки ABD и BDC ; линии EZ и KF соединяющие середины боковых сторон в этих \triangle -ках (считая BD за общее основание этих \triangle -ов) будут \parallel основанию и равны его половине, след., линии $EZ \parallel KF$, а потому и $EF \parallel ZK$; и фигура $EFKZ$ есть параллелограмм.



зад. 34



зад. 37



зад. 38

38. Давь прямоугольный $\triangle ABC$ и его медиана CD , след. $BD = DA$, продолжим CD и отложим $DE = DC$, соединив E с B , A получим прямоугольник $EBCA$, (так как диагонали EC и BA делятся пополам и $\angle C = 90^\circ$); отсюда следует, что $EC = AB$ и $EC = \frac{AB}{2}$, т. е. $DC = \frac{AB}{2}$.

39. Давь $\triangle ABC$, в котором медиана $DC = \frac{AB}{2} = AD$, продолжим DC и отложим $DE = DC$, соединим теперь E с B и A .

получить \square АЕВС, который есть прямоугольник, т. е. дарова. Итого ЕС и АВ равны (из условия имеем: $2DC = EC = 2 \frac{AB}{2} = AB$) и делятся пополам в точке D; след. $\angle C = d$.

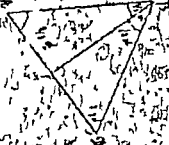
40. $CD \perp AB$ и $AC = BE$; $\angle DCE = \angle A = \angle B$. Заметим, что $\angle A = \angle BCD$, как углы с перпендикулярными сторонами ($AC \perp BC$ и $CD \perp AB$); кроме того, $\angle B = \angle DCA$ по той же причине ($BC \perp AC$ и $DC \perp BA$); на основании № 38 $\triangle BCE$ — равнобедренный и, следовательно, $\angle B = \angle BCE$, отсюда вытекает, что $\angle DCE = \angle DCB = \angle BCE$ или (т. е. $\angle BCE = \angle B = \angle DCA$) $\angle DCE = \angle DCB = \angle DCA$, или (т. е. $\angle DCB$ по доказанному $= \angle A$) $\angle DCE = \angle A = \angle B$.



зад. 39.



зад. 40.



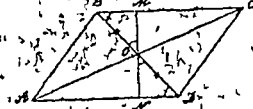
зад. 41.

41. Дать прямоугольный $\triangle ABC$, в котором $\angle B = \frac{1}{3}d$, требуется доказать, что $AC = \frac{AB}{2}$; для доказательства продолжим AC и отложим $CD = AC$, соединим D с B, получим $\triangle CBD = \triangle ABC$ (общий катет BC и катет $CD = AC$), след. $\angle ABC = \angle CBD = \frac{1}{3}d$ и $\angle ABD = \frac{1}{3}d + \frac{1}{3}d = \frac{2}{3}d$, кроме того, вследствие равенства $AB = BD$, $\triangle ABD$ равнобедренный, и $\angle A = \angle D = (2d - \frac{2}{3}d) : 2 = \frac{2}{3}d$; отсюда следует, что $\triangle ABE$ имеет все углы равные $\frac{2}{3}d$, т. е. что он равноугольный и равносторонний; значит, $AD = BD = AB$, и $\frac{AD}{2} = AC = \frac{AB}{2}$.

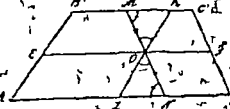
42. Из предыдущего чертежа видно, что если $AC = \frac{AB}{2}$, то $\angle ABC = \frac{1}{3}d$; в самом деле, продолжив AC и отложив $CD = AC$, получим $\triangle ABC = \triangle BCD$ (см. № 41) и $BD = 2AC = AD = AB$, т. е. $\triangle ABD$ — равносторонний или равноугольный; а потому $\angle A = \angle ABD = \angle D = 2d : 3 = \frac{2}{3}d$, и $\angle ABC = \frac{2}{3}d : 2 = \frac{1}{3}d$.

43. ABCD — параллелограмм; диагональ MN проходит через центр параллелограмма; требуется доказать, что $MO = ON$; для до

каждельсва вымылимъ, что $\triangle BOM = \triangle NOD$ ($BO = OD$, какъ поло-
 винныя диагонали BD , $\angle MOB = \angle NOD$, какъ вертикальныя,
 $\angle MBO = \angle NDO$, какъ внутреннiя, накрестъ-лежащiя); отсюда слѣ-
 дуетъ, что $MO = ON$.



зад. 43.

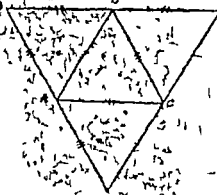


зад. 44.

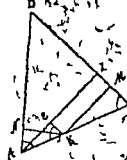
44. Дана линия KZ ; требуется доказать, что $KO = OZ$; через
 точку O проводимъ $MN \parallel CD$; тогда $\triangle MOK = \triangle ZON$, (т. е. $MO =$
 $= ZO$, $FO = ON$, какъ параллельныя между параллельными, $\angle MOK =$
 $= \angle ZON$, какъ вертикальныя, и, кромѣ того, $\angle KMO = \angle ONZ$,
 какъ внутреннiя, накрестъ-лежащiя); отсюда слѣдуетъ, что $KO = OZ$.

45. Сумма внѣшнихъ угловъ всякаго, многоугольника равна
 $4d$; если мы допустимъ, что многоугольникъ можетъ имѣть болѣе
 3-хъ острыхъ угловъ, т. е., напримѣръ, 4 острыхъ угла, то сумма
 соответствующихъ имъ внѣшнихъ угловъ будетъ равна 4 тупымъ
 угламъ, или болѣе $4d$, что противно теоремѣ о внѣшнихъ углахъ
 многоугольника.

46. $DE \parallel AC$, $FE \parallel AB$ и $DF \parallel BC$; требуется доказать, что
 $\triangle FDE = 4 \triangle ABC$ и что $AC = \frac{DE}{2}$, $AB = \frac{FE}{2}$, $BC = \frac{DF}{2}$; $AC =$
 $= DB = BE$, какъ параллельныя между параллельными; слѣд. $AC =$
 $= \frac{DE}{2}$; кромѣ того, по той же причинѣ $AB = EC = FC = \frac{FE}{2}$ и $BC =$
 $= AD = AF = \frac{DF}{2}$; отсюда слѣдуетъ, что $\triangle ADB = \triangle ABC = \triangle BEC =$
 $= \triangle ADC = \triangle ACF$, по 3-мъ равнымъ сторонамъ и $\triangle FDE = 4 \triangle ABC$.



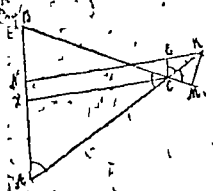
зад. 46.



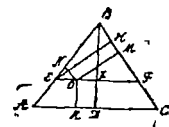
зад. 47.

47. $KM \perp BC$ и $KN \perp AB$; требуется доказать, что $KM + KN = AZ$; проведем $KE \perp AZ$; тогда $KM = EZ$ ($KM \parallel EZ$, как перпендикуляры к BC ; кроме того, $KE \parallel ZM$, как перпендикуляры к параллельным прямым KM и AZ), как параллельны между параллельными; кроме того, из рассмотрения \triangle -ов AEK и ANK , которые равны, (общая гипотенуза AK , $\angle AKE = \angle ANK$, как соответственные, и, след., равные острые углы: $\angle AKE = \angle ANK = \angle CAB$) получаем: $KN = AE$, след., $AZ = AE + EZ = KN + KM$.

48. $KM \perp BC$, $KN \perp AB$; требуется доказать, что между KM , KN и CZ (которое $\perp AB$) существует какая-нибудь аналогичная зависимости, изложенной в № 47; проведем $CE \perp KN$; тогда (см. № 47) $CZ = EN$; и из рассмотрения \triangle -ов ECK и CKM (общая гипотенуза CK , кроме того, $\angle MCK = \angle ECB = \angle BAC = \angle ECK$), которые равны, находим $KM = KE$, откуда следует, что $CZ = EN = KN - KE = KN - KM$.



зад 43



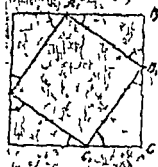
зад 48а

48а. Взята внутри равностороннего \triangle -ка ABC точка O , проведены $OK \perp AC$, $ON \perp AB$, $OM \perp BC$; требуется доказать, что $OK + ON + OM = BD$ (высота \triangle -ка ABC); для доказательства через точку O проводим $EF \parallel AC$; тогда $OK = ZD$ (как параллельны между параллельными); кроме того, получается $\triangle EBF$ — равносторонний, т. е. по равенству *): соответственных и равных этот \triangle — равноугольный и равносторонний; в этом \triangle -ку, как и в \triangle -ку ABC , по тому же $EB = BF$ применяется теорема № 47 и поэтому $ON + OM = EN$; а т. к. EN по свойству равностороннего \triangle -ка $= BZ$, то $ON + OM = BZ$, и $ON + OM + OK = BZ + OK = BZ + ZD = BD$.

49. По условию: $AB = BC = CD = DA$ и $AA_1 = BB_1 = CC_1 = DD_1$; следовательно путем вычитания этих равенств получим $AB - AA_1 = BC - BB_1 = CD - CC_1 = DA - DD_1$; след., $\triangle A_1BB_1 = \triangle B_1CC_1 = \triangle C_1DD_1 = \triangle D_1AA_1$ (они — равные катеты); откуда следует равенство гипоте-

*) $\angle BEF = \angle BAC = \angle BCA = \angle BFC = \angle FBE$
 $EF = CD - CC_1 = DA - DD_1 = A_1B = B_1C = C_1D = D_1A$

пусть $A_1B_1 = B_1C_1 = C_1D_1 = D_1A_1$; кроме того, $\angle AA_1D_1 = \angle BB_1$



т. е. и $\angle AD_1A_1 = \angle BA_1B_1$, и т. д. $\angle AA_1D_1 + \angle BA_1B_1 = d$ (какая сумма углов прямоугольного Δ -ка), и $\angle D_1A_1A_1 + \angle A_1B_1C_1 = \angle B_1C_1D_1 = \angle C_1D_1A_1 = 2d = d$; значит, фигура $A_1B_1C_1D_1$ имеет равные стороны и углы, прямые, следовательно, это квадрат.

49а. Для доказательства обращаемся к чертежу № 37. 1) Паралелограмм $EFKZ$ есть прямоугольник, то $EF \perp FK$, и $AC \parallel EF$, то $AC \perp FK$, а т. к. $FK \parallel BD$, то $AC \perp BD$, т. е. диагонали данного четырехугольника $ABCD$ должны быть перпендикулярны;

2) если $EFKZ$ есть ромб, то $ZE = EF$; отсюда следует что $EZ = \frac{BD}{2} = EF = \frac{AC}{2}$ и $BD = AC$, т. е. диагонали данного четырехугольника должны быть равны.

3) Т. к. квадрат соединяет в себе свойства прямоугольника и ромба, то в случае, если $EFKZ$ есть квадрат, то диагонали AC и BD должны быть равны и перпендикулярны.

50. Искомое геометрическое место будет линия RS , проходящая через E , середину линии MN , и параллельная линии AB ; линия RS будет делить все линии, всякая изъ точек M, MO, MP, MQ поведется в точках F, K, Z ; в этом можно убедиться следующим образом: проводим через точку F $ab \parallel MN$ и через M линию $Ma \parallel AB$; теперь $\triangle MFa = \triangle$




($Fb = EN = EM = aF$, $\angle bFo = \angle MFa$, как вертикальные, и $\angle Ma = \angle FbO$, как внутренние накрест-лежащие); отсюда следует, $MF = FO$, т. е. что линия RS делит MO пополам в точке F ; точно так же можно доказать, что $MK = KP$, $MZ = ZO$ и т. д.

51. Найти геометрическое место точек, равноотстоящих от двух параллельных прямых.

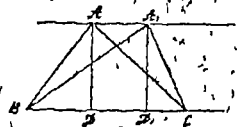
Пусть CD и EF будут две параллельные линии. Искомое место будет линия AB , параллельная этим прямым и проведенная через середину M общего перпендикуляра NP .

В самом деле, всякая точка на линии АВ находится в одинаковом расстоянии от параллельных линий, и всякая точка АВ не одинаково отстоит от тех же прямых.

170534



зад. 51



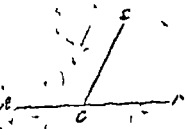
зад. 52

52. Найти геометрическое место вершин треугольников, имеющих общее основание и равные высоты.

Геометрическое место вершин приходится на прямую AA' , проведенной через вершину А треугольника ABC параллельно его основанию BC, ибо очевидно, что у всех треугольников ABC, $A'BC$... общее основание BC и одна и та же высота AD.

53. Даны два угла треугольника, построить третий.

На прямой АВ при точке С строим угол DCB, равный сумме двух данных углов (см. р-ш. зад. №14), тогда дополнительный угол до $2d$, т. е. $\angle DCA$ и будет искомым.



зад. 53.




зад. 54.

54. Даны острый угол прямоугольного Δ ; построить другой острый угол.

При одной из сторон прямого угла строим данный острый угол, тогда дополнение к нему до прямого угла и будет искомым, другим острым углом.

55. Провести прямую, параллельную данной прямой и находящуюся от нея на данном расстоянии.

Предположим, что дана прямая АВ и требуется провести прямую CD на расстоянии MN от АВ. Для этого из точки А восстанавливаем к прямой АВ перпендикуляр, откладываем на нем отрезок $AC = MN$ и через точку С проводим $CD \parallel AB$.



зад. 55.



зад. 56.

56. Разделить пополам угол, вершина которого не помещается на чертеж.

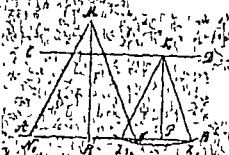
Когда вершина угла, составляемого прямыми AB и CD , помещается на чертеж, тогда для проведения прямой, делящей угол пополам, поступаем следующим образом. К прямой A проводим какой-нибудь перпендикуляр EF , а также к линии CD , в какой-нибудь ее точке G , перпендикуляр к ней GH . Берем $EF = GH$ и из точек F и H проводим параллельные к AB и CD ; пересечения их дадут точку M , лежащую на искомой линии, потому что расстояние точки M до сторон угла одинаково. Затем на тех же перпендикулярах берем другие два равных расстояния и определяем другую точку биссектрисы, после чего через полученные две точки проводим и биссектрису.

57. Через данную точку провести прямую под данным углом к данной прямой.

Положим, дана прямая AB ; требуется через точку M провести прямую под углом α к прямой AB . Для этого через точку M проведем прямую $CD \parallel AB$, при точке M построим угол $\angle NMD$, равный данному $\angle \alpha$, и сторону его NM продолжим до пересечения с AB в Z ; тогда $\angle NMD = \angle MZB$, но $\angle NMB = \angle \alpha$, следовательно, $\angle MZB = \angle \alpha$. Если при точке M построим $\angle N_1MC = \angle \alpha$, то тогда можем провести вторую прямую N_1Z , которая пересечет прямую AB под $\angle MZ_1A = \angle N_1MC = \angle \alpha$.



зад. 57.




зад. 58.

58. Через данную точку провести прямую так, чтобы отрезок ее, заключенный между двумя данными параллельными прямыми, равнялся данной длине.

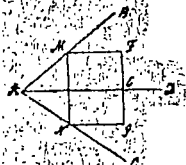
Даны две параллельныя прямыя AB и CD , точка M и длина m . Чтобы рѣшить данную задачу изъ какой-нибудь точки на прямой CD описываемъ дугу радиусомъ равнымъ данному отърезку m . Дуга эта пересѣчетъ прямую AB въ точкахъ Z и Z_1 . Если KZ и KZ_1 равны данному отърезку m . Затѣмъ черезъ точку M проводимъ $MN \parallel KZ$ и $MN_1 \parallel KZ_1$. Линіи MN и MN_1 будутъ искомы. Если $m > KP$, то дуга, описанная радиусомъ m , пересѣчетъ прямую AB въ двухъ точкахъ Z и Z_1 и получатся два рѣшенія MN и MN_1 , если $m = KP$, то дуга, описанная радиусомъ m , касается прямой AB въ точкѣ P и тогда получится одно рѣшеніе MN . Наконецъ, если $m < KP$, то дуга не пересѣчетъ прямой AB и эта задача невозможна такъ какъ очевидно, что нельзя провести прямой такой, чтобы ея отърезокъ между данными параллельными линіями меньше расстоянія между этими прямыми.

59. Между сторонами даннаго остраго угла помѣстить прямую данной длины такъ, чтобы она была перпендикулярна къ одной сторонѣ угла.

Дать уголъ BAC . Для того, чтобы рѣшить эту задачу на сторонѣ AC даннаго угла возстановляемъ изъ какой-нибудь точки перпендикуляръ DE , равный данной прямой, и черезъ точку E проводимъ прямую $ME \parallel AC$. Черезъ точку пересѣченія N второй стороной со стороной угла BA проводимъ прямую $NP \perp AC$, которая будетъ искомаея прямая.



зад. 59.



зад. 60.

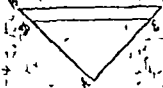
60. Между сторонами даннаго угла помѣстить прямую данной длины такъ, чтобы она отсѣкла отъ сторонъ угла равныя части.

Дать $\angle BAC$. Проведемъ биссектрису AD этого угла. Изъ какой-нибудь точки E прямой AD возстановляемъ перпендикуляръ EG равный половинѣ данной прямой. Затѣмъ на продолженіе этого перпендикуляра откладываемъ отърезокъ EG равный половинѣ той же данной прямой. Наконецъ въ точкахъ F и N со сторонами AB и AC угла BAC соединяемъ прямую. Прямая MN будетъ искомаея.

такъ какъ она равна EG и, будучи перпендикулярна къ биссектрисѣ AD угла BAC , отсѣкаетъ отъ сторонъ угла BA и AC равныя части AM и AN .

61. Построить прямоугольный Δ по данному острому углу и противолежащему катету.

На одной изъ сторонъ прямого угла A откладываемъ отръзокъ AC , равный данному катету, а на другой сторонѣ въ какой нибудь точкѣ D строимъ уголъ ADE , равный данному углу, на который черезъ точку C проводимъ прямую $BC \parallel DE$. Треугольникъ ABC будетъ искомымъ.



зад 61



зад 63

62. Построить Δ по двумъ угламъ и сторонѣ, лежащей между одного изъ нихъ.

Вопросъ сводится къ предыдущей задачѣ, при чемъ \angle можетъ быть $> 90^\circ$, $= 90^\circ$ и $< 90^\circ$.

63. Построить равнобедренный Δ по углу при вершинѣ и основанью.

Рѣшеніе 1-ое. Мы знаемъ, что сумма угловъ въ Δ равна 180° , а такъ какъ въ равнобедренномъ треугольникѣ углы при основаньи равны, то слѣдовательно, каждый изъ нихъ $= \frac{2d - m}{2}$ (гдѣ $m =$ уголъ при верш.) Зная основаніе и углы къ нему прилежащія, мы можемъ построить Δ . (Смъ рѣшъ зад. 19, в)

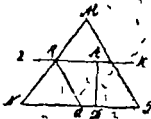
Рѣшеніе 2-ое. Раздѣлимъ данное основаніе BC пополамъ въ серединѣго D , восстанавливаемъ перпендикуляръ DE , затѣмъ раздѣляемъ уголъ при вершинѣ пополамъ при какой нибудь точкѣ F перпендикулярна DE , строимъ углы, равные половинѣ даннаго угла, и продолжаемъ ихъ стороны до пересѣченія ихъ съ прямой BC въ точкахъ M и N . Проведя, наконецъ, прямую $AB \parallel FM$, $AC \parallel FN$, получимъ искомый треугольникъ ABC .

64. Построить равнобедренный Δ по углу (при основании) и отрезку, опущенной на боковую сторону.

Дана угол $\angle ACB = \angle ABC$ и высота AD . Между сторонами этого угла $\angle ACB$ помещаем прямую BD , равную данной высоте, чтобы она была перпендикулярна к стороне AC (см. рѣш. 59) и затем при B строим $\angle ABC$, равный $\angle ACB$. Треугольник ABC будет искомым.



зад 64.



зад 66.

65. Построить Δ равнобедренный по боковой стороне и опущенной на нее.

Дана боковая сторона $AB = AC$ и высота BD . Прямоугольный треугольник ABD , в котором дана гипотенуза AB и катет BD знаем построить (см. зад. 21, b). Построив его продолжаем сторону AD и откладываем на ней от точки A отрезок $AB = AC$. Соединяя B и C прямой, получим искомый треугольник ABC .

66. Построить равносторонний Δ по его высоте.

Дана высота AD равносторонняго треугольника. Чтобы построить искомый треугольник, строим равносторонний треугольник MNP с произвольной стороной (по 3 сторонам, см. Кис. том. § 65, зад. 1), затем из какой-нибудь точки D на прямой NP восстанавливаем перпендикуляр, на котором откладываем отрезок, равный данной высоте AD и через точку A проводим прямую $LR \parallel NP$. Наконец, из точки R пересѣченія прямой LR с MN проводим прямую $RQ \parallel MP$. Треугольник NRQ будет искомым.

67. Разделить прямой \angle на 3 равныя части.

Построив равносторонний Δ , разделим одну из углов \angle пополам. Въ самомъ дѣлѣ въ равностороннемъ Δ всѣ три угла

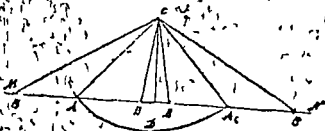
равны, почему каждый из них равен $\frac{2d}{3}$, разделив это на 2, получим $\frac{2d}{3} \cdot 2 = \frac{4}{3}d$.

68. Построить \triangle по основанию, высоте (проведенной к основанию) и к боковой стороне.

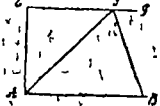
На произвольной прямой MN восстанавливаем перпендикуляр CD , равный высоте, и из точки C , радиусом AC , равным боковой стороне, описываем окружность. Пересечение окружности прямой MN в точках A и A_1 даст одну из вершин искомого треугольника. Откладывая на MN от точек A и A_1 вправо и влево от них отрезки AB и A_1B_1 , равные данному основанию, соединив точки B и B_1 с C , получим 4 треугольника, равносложных.

69. Построить \triangle по основанию, высоте и углу при основании.

Пусть ABC будет искомым треугольником. Даны $\angle A$, основание AB и высота $CD=h$. На прямой откладываем отрезок, равный основанию AB , в точке A строим $\angle CAB$, равный данному углу, а из точки A восстанавливаем $\perp AE=h$ к AB . Проводим линию $EF=AB$. Третья вершина находится, очевидно, на этой параллельной, следовательно, она будет в точке, в которой прямая EF пересекает AC . Наконец проводим CB .



зад. 68.

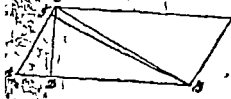


зад. 69.

70. Построить \triangle по углу и 2 высотам, опущенным стороны этого угла.

Пусть ABC будет искомым треугольником. Известны $\angle A$, высота $CD=h$ и высота $BF=h'$. Строим $\angle CAB$ равный данному углу, в расстоянии h от AB проводим параллельную линию, которая пересекая AC , определяет вершину C , а в расстоянии h' от AC проводим к этой прямой параллельную линию, которая, пересекая AB , определяет точку B ; таким образом получаем $\triangle ABC$, удовлетворяющий условиям задачи.

71. Построить \triangle по сторонам, суммъ двухъ другихъ сторонъ и высоте, опущенной на одну изъ этихъ сторонъ. Положимъ, что данный \triangle будетъ ABC . Въ немъ дано BC , $AB+AC=s$ и высота $CD=h$. На продолженіи стороны AB откладываемъ длину $AE=AC$ и соединяемъ E съ C ; получимъ $\triangle EBC$, въ которомъ даны $BE=s$, BC и CD . По этимъ даннымъ легко его построить. Въ равнобедренномъ $\triangle EAC$ проведемъ медиану AF ; мы замечаемъ, что въ треуголахъ AEF и AFC сторона AF общая, $AE=AC$ и $EF=FC$, следовательно эти \triangle -ни равны и потому $\angle AFC=\angle AFE=90^\circ$, следовательно, AF есть перпендикуляръ, восстановленный въ серединѣ прямой EC . И такъ, чтобы построить данный \triangle строимъ сначала $\triangle EBC$, изъ середины EC восстанавливаемъ перпендикуляръ AF до пересѣченія съ BE въ A и затѣмъ соединяемъ A съ C прямою. Т-никъ ABC искомымъ.

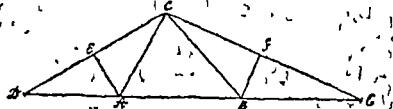


зад. 70



зад. 71

72. Построить \triangle по двумъ даннымъ угламъ и периметру. Предположимъ, что задача рѣшена, и пусть ABC будетъ треугольный \triangle . Если на противоположныхъ продолженіяхъ его стороны AB отложимъ отъ точекъ A и B части $AD=AC$ и $BE=BC$, то будемъ имѣть $DE=2p$, а изъ равенствъ $AD=AC$ и $BE=BC$, вы-

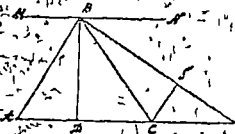


зад. 72.

видно, что \triangle -ни DAC и CBE равнобедренны и что углы у нихъ при основаніи определяются данными углами: $\angle D=\frac{1}{2}\angle CAB$ и $\angle E=\frac{1}{2}\angle CBA$, вмѣстѣ съ тѣмъ очевидно определяется мѣсто вершинъ A и B и задача разлагается на 2 слѣдующія: 1) построить

треугольнику, зная его сторону и прилежащие ей углы и 2) в становяты перпендикуляръ изъ среданы прямой. И такъ, на прямой $DE = \text{данному периметру } 2r$ строимъ \triangle -къ DEC , у котораго $\angle D = \frac{1}{2}\angle A$ и $\angle E = \frac{1}{2}\angle B$. Изъ середины E и G возстановляемъ перпендикуляры до встрѣчи съ DE въ точкахъ A и B , проводя прямыя AC и BC , получимъ требуемый $\triangle ABC$.

73. На какой-нибудь прямой AC при точкѣ A строимъ $\angle BAC$ равный данному углу, и затѣмъ изъ какой-нибудь точки D прямой AC , принявъ ее за основаніе искомага треугольнича, на разстояніи, т. е. на разстояніи, равномъ данной высотѣ, проводимъ прямую MN , параллельную AC , которая пересѣчетъ сторону AB у г. VAC въ точкѣ V . Эта прямая AV есть одна изъ сторонъ искомага \triangle -ка. Такимъ образомъ задача сводится къ задачѣ: Построить по данной сторонѣ по прилежащему углу и по суммѣ 2-хъ другихъ сторонъ.



зад. 73.



зад. 73.

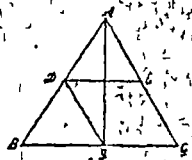
Предположимъ, что требуемый \triangle -къ построенъ, а именно $\triangle ADM$ есть искомый, въ которомъ $\angle MAD = \text{данному } \angle A$, сторона $AM = \text{данной сторонѣ } b$ и суммѣ сторонъ $AD + DM = s$. На продолженіи стороны AD откладываемъ часть $DN = \text{сторону } DM$; соединивъ точки M и N , прямую MN , получаемъ равнобедренный $\triangle MDN$. Если изъ середины E основанія MN равнобедреннаго \triangle -ка MDN проведемъ перпендикуляръ DE , который по свойству равнобедреннаго \triangle -ка, пройдетъ чрезъ его вершину D , то D будетъ третьей точкой искомага \triangle -ка. И такъ мы видимъ, что для построения искомага \triangle -ка по даннымъ s , b и A должно поступить такъ: на какой-нибудь произвольной прямой AB при точкѣ A строимъ $\angle BAC = \text{данному } \angle$ -у; затѣмъ на сторонахъ его AB и AC откладываемъ части $AM = \text{данной сторонѣ } b$, и AN , равную данной длинѣ s , соединивъ точки N и M прямую NM , получаемъ $\triangle ANM$. Если мы въ этой \triangle -кѣ изъ середины E стороны NM возстановимъ пер-

мануляр, который пересечет сторону AN в точке D , т.е. соединив эту точку с M прямой DM , получим искомый $\triangle ADM$.

74. Положим, что прямая DE искомая прямая, а $DF=DE=FE=EC$. Соединив точку F с B и C , получим 2 равнобедренные $\triangle BDF$ и FEC . Имеем $\angle ADF = \angle DBF + \angle DFB = 2\angle DBF$, откуда $\angle DBF = 1/2 \angle ADF = 1/2 \angle ABC$, т.е. линия BF будет биссектрисой угла ABC ; точно также FC будет биссектрисой $\angle ACB$, следовательно, точка F лежит в пересечении двух биссектрис BF и FC . Отсюда ясно построение.

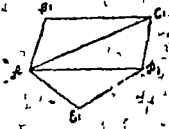
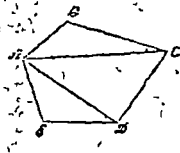


зад. 74.



зад. 75.

75. Положим, что задача и что искомая прямая DE найдена, тогда $AD=EC$. Проводим через точку D прямую $DF \parallel AC$; получим $DF=EC=AD$. Соединив точки A и F прямой, получим равнобедренный $\triangle ADF$, почему $\angle DAF = 1/2 \angle BDF = 1/2 \angle BAC$, т.е. линия AF будет биссектрисой $\angle BAC$. Из этого следует, что для решения задачи должно провести биссектрису $\angle A$, через F точку пересечения ее с основанием BC провести прямую $DF \parallel AC$ и через точку D прямую $DE \parallel BC$. Прямая DE будет искомая.



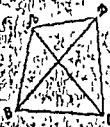
зад. 76.

76. Проводим в данном многоугольнике все диагонали AC, AD , выходящая из одной вершины A . Строим \triangle -ки $A_1B_1C_1, A_2C_1D_1, A_3D_1E_1$, соответственно равные тр-кам ABC, ACD, ADE . Полученный многоугольник $A_1B_1C_1D_1E_1$ будет требуемый, ибо составлен из \triangle -ков равного числа, одинаково расположенных и равных тр-кам данного многоугольника.

77. Положим, что даны $\angle A$, B , C и 2 стороны AD и CD образующая 4-й угол D . Мы знаем, что сумма внутренних углов n -угольника $= 2d$, умноженную на число сторон $- 2$, т. е. в данном случае $2d(4-2) = 2d \cdot 2 = 4d$, почему искомый $\angle D = 4d - (A+B+C)$. Построим $\angle D$, откладываем на его сторонах отрезки, равные сторонам AD и CD . Затем при точке A строим угол $\hat{=}$ данному $\angle A$ и при точке C угол $\hat{=}$ данному $\angle C$. Продолжая стороны $\angle A$ и C до пересечения в точке B найдем четвертую вершину искомого 4-ка $ABCD$.

78. Даны стороны AB , BC , CD и диагональ AC и BD . Строим сперва $\triangle ABC$ по 3 данным сторонам, затем на BC $\triangle BCD$ тоже по 3 данным сторонам. Наконец, соединив прямою вершины A и D , построивших \triangle -ов ABC и BCD , получим искомым 4-угольником $ABCD$.

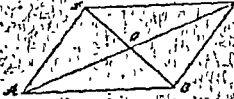
79. Положим, даны две стороны AB и AD и диагональ BD . Построим треугольник ABD по 3 данным сторонам, проводим через B прямую $BC \parallel AD$ и через D прямую $DC \parallel AB$. Пересечение прямых BC и DC в точке C определит четвертую вершину искомого параллелограмма.



Зад. 77.



Зад. 79.



Зад. 80.

80. Даны диагональ и сторона AB . Стало быть, все три стороны \triangle -ка AOB известны. Строить этот \triangle -к: продолжатъ длину AO на длину $OC=AO$ и OB на длину $OD=OB$, потомъ проводить AD , DC и BC .

81. Положим, даны диагонали AC и BD и $\angle AOB$. Строим $\triangle AOB$, въ которомъ известны $\angle O$ и стороны AO и BO , потомъ достраиваемъ параллелограммъ. (См. рѣш. зад. 80).

82. Дано основание AD , высота FE и диагональ AO . На прямой AD изъ какой-нибудь точки E восстанавливаемъ перпендикуляръ EF , равный данному, затемъ, чрезъ точку F проводимъ прямую $BC \parallel AD$, наконецъ изъ точки A описываемъ дугу радиусомъ равнымъ диагонали AC . Пересѣченіе этой дуги въ точкѣ C съ при-

мож BC определять одну из вершин параллелограмма. Соединив точку C и D , а затем проведем через точку A прямую $AB \parallel CD$ получим искомый параллелограмм $ABCD$.

83. Проводя прямые AB и CD под данным углом, и зная $\angle OAB = \angle OCB$, $\angle OCA = \angle ODA$ равными между собою и равными половине данной диагонали, находим в $ABCD$ искомый прямоугольник.



зад. 82



зад. 83

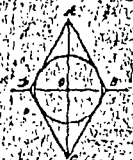
84. Решение то же, что и в зад. № 79; только $AB = AD$.

85. Эту фигуру построить легко, помня что в ромбе диагонали перпендикулярны и делятся пополам.

86. Дана высота BE и диагональ BD . Построим прямоугольный $\triangle BDE$ по катету BE и гипотенузе BD (см. р-ш. зад. 21, b) продолжим другой катет его ED влево и через вершину B проводим прямую $BC \parallel ED$. Затем из середины O гипотенузы BD восстановим перпендикуляр $AO \perp BC$. Точка пересечения этого перпендикуляра с прямыми AD и BC определят две другие вершины ромба. Таким образом искомый ромб будет $ABCD$.



зад. 86



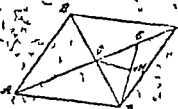
зад. 87

87. Зная один угол, знаем и остальные. Положим, что задача решена и пусть $ABCD$ искомый ромб. В прямоугольном $\triangle AOB$ известны $\angle ABO = \frac{1}{2} \angle B$ и сторона $BO = \frac{1}{2} BD$, и потому можно построить этот треугольник, а следовательно, и ромб.

88. Даны $\angle BAD$ и диагональ BD . Так как в $\triangle ABD$ сторона $AB = AD$, то он будет равнобедренным, в котором дано основание BD и $\angle A$ при вершине. Этот \triangle мы можем по-

строить (см. рѣш. зад. 63). Проведя чрезъ В прямую $BC \parallel AD$ чрезъ D прямую $DC \parallel AB$, найдемъ четвертую вершину С ромба ABCD (См. чертежъ зад. № 86).

89. Дана сумма диагоналей ромба $AC + BD = s$ и $\angle CAD$. Чтобы построить искомый ромбъ, построимъ сперва $\triangle AOD$, въ которомъ данъ $\angle OAD$, $\angle AOD = d$, и уголъ $ODA = d - \angle OD$ и кромѣ того $AO + OD = \frac{1}{2}AC + \frac{1}{2}BD = \frac{1}{2}s$. Чтобы построить его продолжимъ AO на длину $OE = OD$. $\triangle OED$ равнобедренный, вслѣдствіе этого $\angle OED = \frac{1}{2}\angle AOD = \frac{1}{2}d$ сверхъ того извѣстенъ $\angle OAD$ и сторона AE, поэтому $\triangle AED$ можетъ быть построенъ. Строимъ его и въ средней линіи ED возстаиваемъ перпендикуляръ OM, который опредѣлитъ вершину O $\triangle AOD$. Наконецъ проводимъ OD. Итакъ, мы построимъ $\triangle AOD$. Продолжая OD на длину $OB = OD$ и AO на длину $OC = AO$, опредѣлимъ вершины B и C ромба. Соединяя A съ B, B съ C, C съ D, прямыми, получимъ искомый ромбъ ABCD.



зад. 89.



зад. 90.

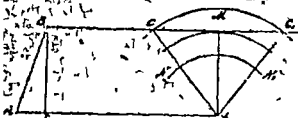
90. Эта задача сводится къ построенію равнобедреннаго \triangle въ которомъ даны основаніе BD и прямой уголъ при вершинѣ A (см. рѣш. зад. № 63). Построимъ $\triangle ABD$, проводя чрезъ точки D и B параллельныя къ AB и AD, которыя опредѣлятъ точку C.

91. Дано основаніе AD, параллельныя стороны AB и DC и $\angle BAD$. На прямой AD при точкѣ A строимъ $\angle BAD$, равный данному, а на сторонѣ AB откладываемъ одну изъ непараллельныхъ сторонъ. Чрезъ точку B проводимъ прямую $BC \parallel AD$ и, наконецъ изъ точки D описываемъ дугу радиусомъ, равнымъ второй непараллельной сторонѣ, DC. Точка пересѣченія C описанной дуги съ прямою BC опредѣлитъ четвертую вершину трапеціи.

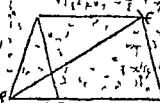
Если $CD > BE$ (гдѣ BE высота трапеціи) то дуга, описанная радиусомъ, равнымъ CD, пересѣчетъ прямую BC и въ двухъ точкахъ и тогда получимъ двѣ трапеціи ABCD и ABCD. Если $CD = BE$ то дуга коснется прямой BC въ точкѣ M и получимъ одну только

трапецию $ABMD$. Если $CD < BE$, то дуга NN_1 не может пересечься с прямой BC , и потому трапецию построить нельзя.

92. Даны две непараллельные стороны AB и CD и разность оснований $AD - BC = AE$. Строим $\triangle ABE$ по 3 данным сторонам, затем, через точку B проводим прямую $BC \parallel AE$. Из точки A описываем дугу радиусом, равным данной диагонали. Точка пересечения C этой дуги с прямой BC определяет третью вершину искомого трапеции. Проведя через точку C прямую $CD \parallel BE$, в точке D пересечения ее с продолжением AE найдем четвертую вершину искомого трапеции $ABCD$.

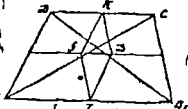


зад 91

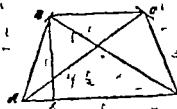


зад. 92.

92а) Предположим, что задача решена, и пусть $ABCD$ будет искомым трапеция, стороны которой AB, BC, CD, DA обозначим через a, b, c, d . Зная стороны трапеции, мы знаем длину линии EE' , соединяющей середины непараллельных сторон, именно $EE' = \frac{1}{2}(a+c)$ и длину отрезка gD' , захватываемого на линии EE' диагоналями трапеции, именно $gD' = \frac{1}{2}(a-c)$ (*). Построив на отрезке gD' $\triangle gD'K$, имеющий двумя другими сторонами $gK = \frac{1}{2}d$ и $D'K = \frac{1}{2}b$, и потом построив параллелограмм $gKD'Z$, проводим через его вершины K и Z параллельные линии $gD' \dots$ и проч.



зад 92а



зад. 93

93. Дано основание AD , высота BE и диагонали AC и BD . Из какой-нибудь точки E' основания AD восстанавливаем перпендикуляр, на котором откладываем отрезок, равный данной высоте BE . Через точку B проводим прямую $BC \parallel AD$. Из точки A описываем дугу радиусом, равным диагонали AC , а из точки

*) См. 1-е примечание в конце сборника.

1) Дуги радиусом, равным диагонали BD . Точки пересечения B и C этих дуг с прямой BC определят две другие вершины трапеции. Соединяя A с B и C с D , найдем искомого трапеции $ABCD$.

94. В искомого трапеции $ABCD$ даны: AC , AB , BD , DC . Проведем $DE \parallel AC$, видим, что $CE = AB$ и $DE = AC$, следовательно, $\triangle DBE$ можно построить по 3 сторонам, так как $DE = DC + CE = DC + AB$. Затем, проведем $AB \parallel DE$ и отложив на ней длину равную AB , получим 4-ую вершину трапеции A .

95. Пусть $ABCD$ будет искомого квадрат, т.е. такой, в котором сумма диагонали BD и сторона AD равна данной длине. Чтобы иметь эту данную длину на фигуре, продолжим сторону AD квадрата на расстояние $DE = DB$. Это равенство $DE = DB$ уже означает нам равнобедренный $\triangle DBE$, которого $\angle E = \frac{1}{2} \angle ADB = \frac{d}{2}$, следовательно, прямоугольный $\triangle ABE$ определить можем

его катет $AE = s$ и $\angle E = \frac{d}{2}$. Построим этот $\triangle ABE$, другой его катет AB будет стороной искомого квадрата.

Другой способ: Обозначив через x сторону y и через y диагональ искомого квадрата будем иметь $y + x = s$, $\frac{y}{x} = \frac{\sqrt{2}}{1}$, $\frac{y+x}{x} = \frac{\sqrt{2} + 1}{1}$, следов. $\frac{s}{x} = \frac{\sqrt{2} + 1}{1}$, т.е. сторона x искомого квадрата

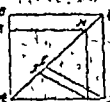
есть четвертая пропорциональная к 3-м линиям: s , $\sqrt{2} + 1$ и 1.



зад. 94.



зад. 95.

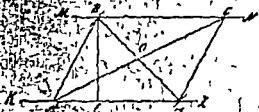


зад. 96.

96. Основываясь, как во II-м решении предыдущей задачи на том, что отношение диагонали квадрата к его стороне есть количество постоянное $\sqrt{2}$, даем следующее построение: На диагонали AC какого-нибудь кв-та $ABCD$ определяем отрезок $AE = AC - CD$ и на той же AC откладываем от точки A длину $AF = d$, данному избытку диагонали над стороной искомого квадрата; проводим линию ED и из точки F проводим параллельную

мом ED до встречи со стороной AD в точке G . Квадрат $KHRE$ будет искомым.

97. Даны 2 диагонали AC и BD и высота BE искомого параллелограмма. Проводим две параллельные линии KZ и MN разстояние между которыми = высота BE искомого параллелограмма. Из какой-нибудь точки A на прямой KZ описываем дугу радиусом, равным диагонали AC , до пересечения ее с прямой MN в точке C . Разделив диагональ AC пополам, из середины O радиусом, равным $1/2$ диагонали BD , описываем дуги. Точки B и D пересечения их с прямыми KZ и MN определят в других вершинах искомого параллелограмма $ABCD$.



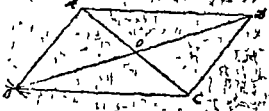
зад. 97.



зад. 98.

98. Чтобы решить эту задачу, мы построим $\triangle ABC$, в котором известны сторона BC , противолежащий $\angle A$ и сумма $AB + AC$. Продолжим AB на длину $AD = AC$. $\triangle DAC$ равнобедренный; вследствие этого, $\angle BAC = 2d$, откуда $D = 1/2 BAC$. Отсюда вытекает следующее построение: строить $\angle D = 1/2 BAC$; брать $DB = BA + AC$ и из точки B , как из центра радиусом BC описывать дугу, которая пересечет линию DC в точке C . Перпендикуляр EA , восстановленный из середины линии DC , определит вершину A . Проводим AC и BC и получим $\triangle ABC$. Продолжим AB на длину $AM = AB$ и AC на длину $AN = AC$, соединим точки M с C , M с N и N с B , тогда получим искомым параллелограмм $MNBC$.

99. Предположим, что $\triangle ABC$ искомым; в нем даны стороны AB и BC и медиана BO . Отложив на продолжении BO отрезок OD , равный BO , и соединив точку D с вершинами A и C , получим параллелограмм $ABCD$, в котором известны AB , BC и BD . Параллелограмм $ABCD$ легко построить; для этого должно из A и D радиусами, равными AB и $BD = 2BO$, опи-

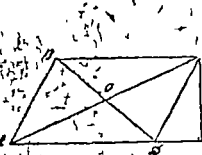


зад. 99.

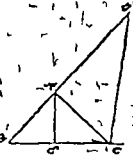
сать окружность и точку их пересечения В соединить с точкой А и С. Точка В будет третьей вершиной параллелограмма, так как через В проведем линию $BC \parallel AD$ и через D линию $DC \parallel AB$. Точка их пересечения С даст четвертую вершину параллелограмма. Соединив АС прямой, получим искомый $\triangle ABC$.

100. Положим $\triangle ACD$ искомым треугольником: в нем сторона AD , его высота CE и медиана OD . Отложив на продолжении OD отрезок $OB = OD$ и соединив точку В с вершинами А и С, получим параллелограмм, который, можем построить данными AD, BD, CE . Проведем диагональ АС, получим искомого $\triangle ACD$.

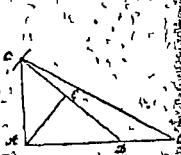
100а). Предположим, что задача решена, и пусть ABC будет искомым прямоугольным \triangle . В нем известны гипотенуза BC и сумма катетов $AB + AC$. Продолжим катет AB на длину $AD = AC$. $\triangle DAC$ равнобедренный, вследствие этого $\angle BAC = 2\angle ADC$. Откуда $\angle ADC = \frac{1}{2}\angle BAC$. Отсюда следует построение: строим $\angle ADC = \frac{1}{2}d$, берем $DB = BA + AC$ и из точки В, как центра, радиусом BC описываем дугу, которая пересечет линию DC в точке С. Перпендикуляр EA , восстановленный из середины DC , определит вершину А. Проводим AC и BC и задача будет решена.



зад 100



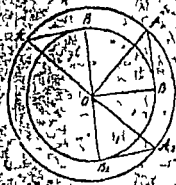
зад 100а



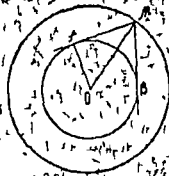
зад 100б

100б). Пусть ABC будет искомым треугольником. Дана гипотенуза BC и разность катетов $BA - AC$. Возьмем прямую AD $AD = AC$ и проведем DC . В равнобедренном $\triangle ADC$ $\angle ADC = \frac{1}{2}d$. Но $\angle CDB = 2d - \frac{1}{2}d = \frac{3}{2}d$. Отсюда следующее построение: строим $\angle CDB = \frac{3}{2}d$; берем $DB = BA - AC$ и из точки В, как центра, радиусом BC описываем дугу, пересекающую линию DC в точке С. Продолжаем BD и в средней DC восстанавливаем перпендикуляр, который определяет вершину А; наконец проводим AC , и задача решена.

101. Предположим, что несколько новых точек B, B_1 и B_2 выбраны, тогда $AB = A_1B_1 = A_2B_2 = a$. Так как $\triangle ABO, \triangle A_1B_1O, \triangle A_2B_2O$ прямоугольные, то имеем: $AO = \sqrt{AB^2 - BO^2} = \sqrt{a^2 - BO^2}$. Аналогично $A_1O = \sqrt{A_1B_1^2 - B_1O^2} = \sqrt{a^2 - B_1O^2}$, $A_2O = \sqrt{A_2B_2^2 - B_2O^2} = \sqrt{a^2 - B_2O^2}$. Отсюда заключаем, что A, A_1, A_2 лежат на одной окружности, которая имеет центр O и радиус $\sqrt{a^2 + r^2}$.



зад. 101.



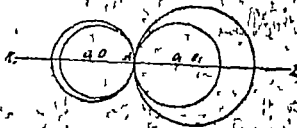
зад. 102.

102. Положим, что некоторая точка M удовлетворяет условию, таким образом, что $\angle AMB$, образованный касательными AM и BM , равен данному углу. Из центра O радиусом r проведем окружность, которая и будет симметричным местом искомых точек, т. е. для всякой точки A , расположенной на этой окружности, OM и OA остаются постоянными, почему и $\angle AMO$, равный половине данного $\angle AMB$, есть величина постоянная. Радиус OM мы найдем как гипотенузу прямоугольного треугольника, катетами которого суть радиус OA и касательная AM .

103. Искомое геометрическое место будет находиться на прямой, параллельной данной прямой в расстоянии данного радиуса от нее с обеих сторон.

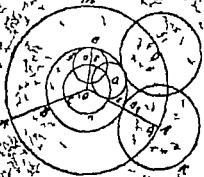
104. Через данную точку A и через O , центр данной окружности, проведем линию KZ ,

которая будет искомым геометрическим местом; на этой линии KZ будут лежать O_1, O_2, O_3 , центры всех касающихся окружностей.



105. Касание внешнее; искомое геометрическое место будет окружность ct (самая большая), радиус которой равен элементарной геометрии.

OA_1 , т. е. сумма радиусов OB_1 (данной окружности) и B_2A_1 (того радиуса); касающиеся окружности: K и L ;
 II. Касание внутреннее, искомое геометрическое место (местность «п»), радиус которой равен OC , т. е. разности радиусов $OB_1 - OB_2 = OA_1 - A_2B_1$; касающиеся окружности: f и e .



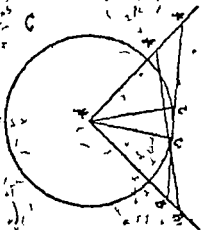
зад 105



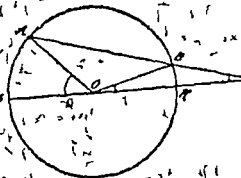
зад 106

106. Пусть O будет центр данной окружности, по которой движется прямая длины AA_1 ; A и B — два положения конца прямой на данной окружности; A_1 и B_1 — положения другого конца в пространстве, при чем $AA_1 \parallel BB_1$; проводим $OO_1 \parallel AA_1$ и соединим AO, OB_1, O_1A_1, O_1B_1 ; фигуры: OAA_1O_1, OBB_1O_1 — параллелограммы; откуда получаем: $OA = O_1A_1$ и $OB = O_1B_1$; след., $OA = OB$, как радиусы одной окружности, то $O_1B_1 = O_1A_1$, т. е. искомое геометрическое место есть окружность, радиус которой равен $AA_1/2$ и центр которой находится на $OO_1 \parallel AA_1$ на расстоянии $AA_1/2$ от данного центра.

107. AB и A_1B_1 — два положения одной и той же прямой; прямоугольных \triangle -ов AMB и A_1MB_1 находим: $MC = \frac{AB}{2} = \frac{A_1B_1}{2} = MC$; и искомое геометрическое место есть окружность, радиус которой равен $\frac{AB}{2}$.



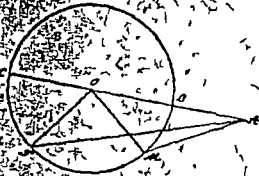
зад. 107.



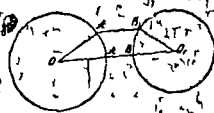
зад. 107a.

107. а) Так как $BC=BO$, то $\triangle OBC$ равнобедренный и $\angle BCO = \angle BOC$; $\angle BOC$ измывается BK , а $\angle BCO$ измывается AD — BK , откуда: $\frac{AD}{2} = \frac{BK}{2} = BK$, и $AD = BK = 2BK$, откуда $AD = 3BK$ и $\angle AOD = 3\angle BOK = 3\angle BCO =$

108. Дана точка A вне окружности, I- требуется доказать, что $AB < AM + MO$, откуда $AB < AM$; II требуется доказать, что $AC > AN$, или $AO + OC > AN$, или $AC > AN$.



зад. 108.



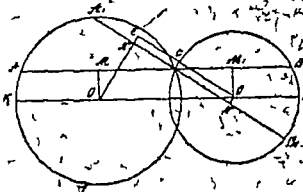
зад. 109.

109. Доказать, что $AB < A_1B_1$, проводим OA_1 и O_1B_1 , получим $OA + AB + BO_1 < OA_1 + A_1B_1 + B_1O_1$, откуда имеем: $AB < A_1B_1$.

110. Через данную точку M проходят две хорды AB и A_1B_1 ; доказать, что $AB < A_1B_1$; замечаем, что $AB \perp OM$, проведем OM и A_1N_1 , из $\triangle OMN$ имеем, что $ON < OM$, след. хорда A_1B_1 ближе к центру и поэтому $A_1B_1 > AB$.



зад. 110.

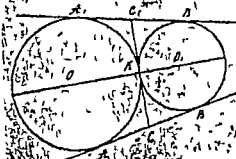


зад. 111.

111. Через точку C пересечения проведены хорды A_1B_1 и $AB \parallel KZ$; требуется доказать, что $AB > A_1B_1$; для этого опустим из центров O и O_1 перпендикуляры: OM, O_1M_1, ON и O_1N_1 ; $MC = \frac{BC}{2}$ и $M_1C = \frac{A_1C}{2}$, откуда $MC + CM_1 = MM_1 = \frac{BC}{2} + \frac{A_1C}{2} = \frac{AB}{2}$; точно также $NN_1 = \frac{A_1B_1}{2} = EO_1$; вместо того, чтобы доказы-

звать, что $AB > A_1B_1$, можно доказать, что $\frac{AB}{2} > \frac{A_1B_1}{2}$. Т. е. $OO' > O_1O_1'$, это очевидно из $\triangle OBO_1$.

112. Касательные, проведенные из одной точки к окружности равны, слѣд. $CB = CK = CA$ и $CA_1 = C_1K = C_1B_1$.



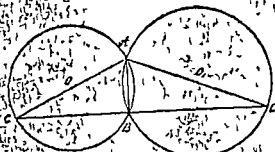
зад. 112.



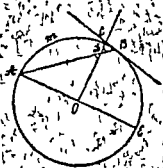
зад. 113.

113. Въ большей окружности хорда $AB =$ хорда A_1B_1 , значитъ они равно удалены отъ центра, т. е. $OC = OC_1$ и окружность, проведенная этимъ радиусомъ OC будетъ касаться хорды AB и A_1B_1 .

114. Соединимъ C съ B и C_1 съ B_1 ; кроме того, соединимъ A и B , $\angle ABC = d$, т. е. онъ опирается на диаметръ; точно такъ $\angle ABC_1 = d$, слѣдовательно $\angle ABC + \angle ABC_1 = 2d$ и линия BC_1 BC составляютъ продолженіе одна другой.



зад. 114.



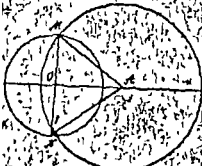
зад. 114а.

114. а. $\angle DBC$ измѣряется $\frac{AmB}{2}$; $\angle BDC = \angle ADO = d = \angle DAO$ (т. е. $\triangle ADO$ прямоугольный), $\angle DAO + \angle ADO = 90^\circ = d$, т. е. измѣряются полуокружностью EBA , дѣленной на $\angle DAO = \angle BAE$ измѣряется $\frac{BE}{2}$; слѣд. $\angle ADO = \angle BDC$ измѣряется $\frac{EBA - EB}{2} = \frac{AmB}{2}$, откуда слѣдуетъ, что $\angle DBC = \angle BDC$ и $\triangle BDC$ — равнобедренный, $BC = CD$.

114) $\angle DAC = \angle \frac{AO, C}{2}$, т.е. они опираются на одну и ту же дугу; по той же причине $\angle BAD = \angle \frac{AOB}{2}$; след. $\angle BAC = \angle \angle BAD + \angle DAC = \angle \frac{BOA + \angle AO, C}{2}$, а т.к. в четырехугольнике BOO, C $\angle \angle OBC$ и O, CB прямые, то $\angle BOA + \angle AO, C = 2d$, отсюда следует, что $\angle BAC = \angle \frac{BOA + \angle AO, C}{2} = \frac{2d}{2} = d$.



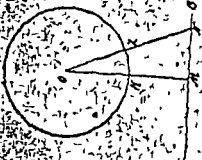
зад. 114



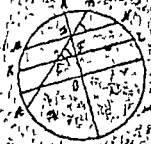
зад. 117

117) Проводимъ через данную точку А и через центр данного круга О прямую линию; проводимъ, через точку О $MN \perp AO$; $AM = AN$ есть центр искомой окружности.

118. Изъ точки О опускаемъ $OM \perp AB$; KM будетъ разстоянью наименѣе удаленной точки М; нужно доказать, что $KM < ZN$, разстоянью какой-либо другой точки N; и въ самомъ дѣлѣ, $OM < ON$, какъ перпендикуляръ меньше наклонной; отсюда следуетъ, что $OK + KM < OZ + ZN$, вѣд. $KM < ZN$.



зад. 118



зад. 119

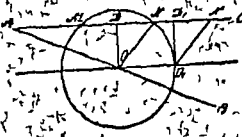
119. Данная хорда АВ; центръ круга О; пусть искомая хорда BN составлять съ данной $\angle BDN$ и дѣлится ею пополамъ; въ точку D; проведемъ черезъ точку D диаметръ; онъ будетъ $\perp MN$; въ диаметрѣ \perp къ хордамъ въ ихъ срединѣ; проведемъ, кромѣ того, $KZ \parallel MN$; тогда $\angle BEZ = \angle BDN$ и диаметръ перпендикуляренъ

и длину пополам, в точке F эту линию KZ, отсюда от построение; в произвольной точке E проводим хорду KZ, длиннее углом из данной хорды AB и проводим $OR \perp KZ$, где D будет пересечение искомой хорды с AB; через D проводим $MN \parallel KZ$.

120. Данную точку A соединяем с центром круга O, там проводим $MN \perp OA$; MN есть искомая хорда.



зад. 120.

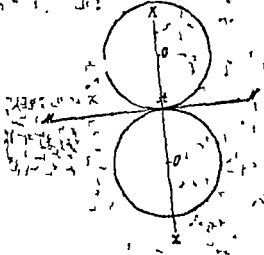


зад. 121.

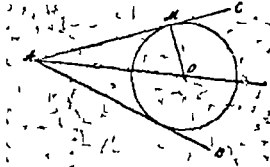
121. Пусть искомая окружность построена; $\angle BAC$ — дано; кроме того дано положение точки и длина хорды MN; из точки опускаем $OD \perp MN$; соединяем O и N; ON есть радиус искомой окружности; отсюда следует построение; из данной точки O проводим $OD \perp AC$. от точки D пресечения откладываем DN; соединяем O и N и получаем ON, радиус искомой окружности.

122. В произвольном месте стороны AC (см. черт.) откладываем $N_1D_1 = \frac{MN}{2}$; потом из точки N_1 радиусом, равным данному, пересекать перпендикуляр D_1O_1 в точке; через точку O_1 проводим $OO_1 \parallel AC$ находим точку O центра искомого круга; радиус $ON = O_1N_1$, т. е. данному.

123. Через точку A (данную) данной прямой MN проводим $KZ \perp MN$; откладываем данным радиусом от точки A, AO_1 , получаем два искомого центра.



зад. 123.

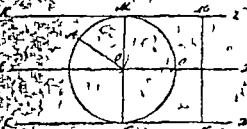


зад. 124.


124. AO есть биссектриса данного угла BAC ; значит, центр O этой окружности лежит на пересечении биссектрисы с OM — с OM в данной точке M .

125. Этот вопрос решается в теории.

126. Центр искомой окружности лежит на линии $EF \parallel CD$, проходящей по средине между данными KZ и CD , и, кроме того, в равном расстоянии от данной точки A , равному радиусу OM ; итак, чтобы найти искомый центр, надо провести $M_1N_1 \perp CD$ через средину M, N , т. е. точку O_1 , провести $EF \parallel KZ$ и из точки A описать круг, равный O_1M_1 , пересечь линию EF . O есть центр искомой окружности, т. к. $OA = OM = ON$.




зад 126



зад 127

127. В произвольной точке B_1 данной прямой MN проводим линию K_1Z_1 под данным углом Z_1B_1N к данной прямой MN ; из центра O данной окружности опускаем $OA_1 \perp K_1Z_1$ и через точку пересечения A проводим $KZ \parallel K_1Z_1$; KZ есть искомая касательная.

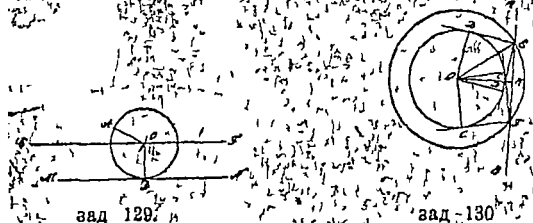
128. Строим где-нибудь в данном круге (на черт. больше чем) хорду MN данной длины, проводим $OE \perp MN$ и радиусом OE описываем окружность; потом из данной точки A проводим две касательны AB и AC к этой окружности, AB и AC — искомого свойства, т. к. BD и CF равны MN , так хорды равно-удаленны от центра; обозначив длину данной хорды через «а»,



Зад 128

данного радиуса (данной окружности) через «г»; в случае, если $\angle < 2g$ (данная хорда меньше диаметра) имеем, как показали, два решения; если $a = 2g$ (хорда равна диаметру) одно решение, если же $\angle > 2g$, то ни одного решения, т. к. хорда никогда не может быть больше диаметра.

129. Искомый центр O лежит на линии EE' MN (длина MN — задана) и проведенной в расстоянии OD равном данному радиусу OD MN и кроме того, на пересечении с дугой, проведенной из той же точки A данным радиусом.



зад 129.

зад 130.

130. Строим прямоугольный \triangle один катет которого равен радиусу данного круга OD , а другой равен длине касательной DE ; гипотенуза этого \triangle на OE будет служить радиус окружности, геометрического места точек, из которых касательная к данной окружности равна данной длине DE ; на пересечении этой окружности с данной прямой AB находим две точки E и F искомые (два решения), два решения будут в том случае, когда $OE > OK$ (перпендик. к AB); одно, решение, когда $OE = OK$; и ни одного, когда $OE < OK$, так как в этом не будет сечения E и F .

131. Сначала строим $\triangle ABD$, в котором даны $\angle A$ и катет BD , т. е. высота искомого $\triangle ABC$; чтобы найти искомый, до изв. точки A радиусом, равным другой высоте AE проведем окружность, и из точки B к ней касательную BC .



зад 131

зад 132

132. Строим в произвольных местах данных окружностей хорды данной длины KZ и KZ_1 ; находим их расстояния от центров; это будет соответственно OE и O_1E_1 и радиусы равными этим перпендикулярам, описываем две concentric окружности, к которым потом проводим общую касательную AB , которая и будет искомым сечением; доказать легко.

133. Из данных точек A и B описываются окружности радиусами равными, соответственным, перпендикулярам из этих точек на искомую прямую; потому из этих окружностей проведем 4 общие касательных, которые будут искомыми прямыми.



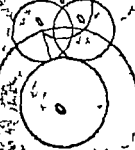
зад. 133.



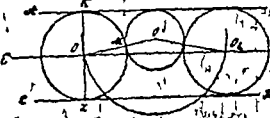
зад. 134.

134. Через центр данной окружности O и через данную точку касания M проводим прямую, на которой должен лежать центр искомой окружности, кроме того соединим две данные точки A и M и из середины прямой AM возведем $EK \perp AM$; в пересечении с OO_1 находим искомый центр O_1 ; заметим, что $O_1A = O_1M$.

135. Радиус искомой окружности равен половине расстояния между AB и CD , т. е. радиус равен $\frac{KZ}{2} = O_1Z_1$; центр, следовательно, лежит на средней линии EF ; чтобы найти его, надо из центра данной окружности O провести дугу радиусом, равным сумме радиусов данной и искомой окружности, $(OO_1 = OM + O_1M)$ и в пересечении со средней линией EF найдем два искомого центра.



зад. 136.



зад. 135.

136. Пусть O будет центр данной окружности, r — ее радиус, A — данная точка и r_1 — радиус искомой окружности. Требуется определить центр O_1 этой последней. Могут быть три главных случая: точка A может быть вне круга r , на окружности r или в круге r . Во все эти 3 случая соответственно отвечают тому условию, что $OA > r$, $OA = r$, $OA < r$, и каждый из них подразделяется, в свою очередь, на 3 других, как показывает следующая таблица:

1-й случай: $OA > r$, и $1^{\circ} r' < r$, $2^{\circ} r' = r$, $3^{\circ} r' > r$.

2-й случай: $OA = r$, и $1^{\circ} r' < r$, $2^{\circ} r' = r$, $3^{\circ} r' > r$.

3-й случай: $OA < r$, и $1^{\circ} r' < r$, $2^{\circ} r' = r$, $3^{\circ} r' > r$.

1-й случай: $OA > r$, и $1^{\circ} r' < r$. Так как точка A вне той окружности, r' не может приходиться внутри окружности. Сверх того, окружность r не может быть внутренней по отношению к окружности r' , вследствие того, что $r > r'$, поэтому обе окружности будут касаться извне. Изъ точки O , как изъ центра радиусомъ $r + r'$ опишемъ окружность; центръ касательнаго къ ней радиуса r долженъ находиться на этой окружности; но онъ долженъ быть же на расстоянии r' отъ точки A . Поэтому, если изъ точки A провести радиусомъ r' другую окружность, которая пересѣчетъ первую, получатся вообще двѣ точки O' и O'' , которыя могутъ быть центрами круговъ, отвѣчающихъ заданію.

Расстояние центровъ обѣихъ вспомогательныхъ окружностей $r + r'$ и r' есть OA , сумма ихъ радиусовъ $r + 2r'$, ихъ разность

Но такъ какъ предполагалось, что $OA > r$, то для этого случая получатся, стало быть, два рѣшенія или только одно или ни одного, смотря по тому, будетъ ли

$$OA < r + 2r' \text{ или } OA = r + 2r' \text{ или } OA > r + 2r'.$$

1-й случай: $OA > r$ и $2^{\circ} r' = r$. Такъ какъ точка A вне окружности, а радиусы r и r' равны, то обѣ окружности не могутъ быть одна внутри другой; слѣд., онѣ будутъ касательными извне; радиусомъ одной изъ вспомогательныхъ окружностей будетъ $r + r$ другой r ; сумма же ихъ радиусовъ составитъ $3r$. Построение, естественное съ предшествующимъ, приводитъ тоже къ двумъ рѣшеніямъ, къ одному или ни къ одному, смотря по тому, будетъ ли

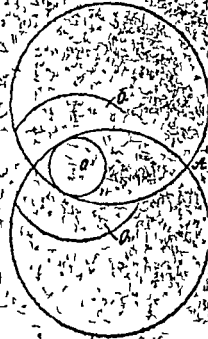
$$OA < 3r \text{ или } OA = 3r \text{ или } OA > 3r.$$

1-й случай: $OA > r$ и $3^{\circ} r' > r$. Окружности r и r' могутъ принимать положенія, сходныя съ тѣми, какія онѣ занимали въ ихъ предшествующихъ случаяхъ. Стало быть и тутъ получатся рѣшенія, одно или ни одного, смотря по тому, будетъ ли

$$OA < r + 2r' \text{ или } OA = r + 2r' \text{ или } OA > r + 2r'.$$

Но такъ какъ $r' > r$, то окружность r' можетъ вдобавокъ охватывать окружность r . Тогда расстояние центровъ окружностей будетъ $r' - r$. Поэтому описываютъ окружность изъ точки O , в

центра (1-й случай, 1°), радиусом r' — r , изъ точки А какъ
 центра, радиусомъ r описываютъ дру-
 гую окружность, которая пересѣчетъ пер-
 вые въ двухъ точкахъ O' и O'' . Эти точ-
 ки будутъ центрами двухъ окружностей r'
 касающихся окружности, Радиусы цент-
 ровъ обѣихъ вспомогательныхъ окружностей
 отъ $OА$ на сумму ихъ радиусовъ будетъ:
 $r' + r = 2r' - r$; а ихъ разность $r' - (r' -$
 $r) = r$.



Пусть $OA > r$. Поэтому будутъ двѣ
 окружности, обходящая окружность r или
 два или ни одной, смотря по тому, бу-
 детъ ли:

$$r' < OA < 2r' - r, \text{ или } OA = 2r' - r, \text{ или } OA > 2r' - r.$$

Такимъ образомъ, задача допускаетъ въ настоящемъ случаѣ
 3° 2° 1° или ни одного рѣшенія; 4 рѣшенія будутъ въ томъ слу-
 чаѣ, когда $OA < 2r' - r$, ибо изъ этого вырожденія и подобно полу-
 чаетсяъ еще $OA < r + 2r'$; 3 рѣшенія, когда $OA = 2r' - r$, ибо изъ это-
 го же равенства получаетсяъ еще $OA < r + 2r'$. На томъ же основа-
 нии получаютъ два рѣшенія, когда OA заключается между $2r' - r$
 и $r + 2r'$, одно рѣшеніе, когда $OA = r + 2r'$, и ни одного, когда
 $OA > r + 2r'$.

2-й случай: $OA = r$ и $r' < r$, или $r' = r$, или $r' > r$. Такъ какъ
 точка А приходится и на окружности r и на окружности r' , то она
 будетъ точкою ихъ касанія; слѣд., искомый центръ O' находится на
 OA и по обѣ стороны точки А въ разстоянн равномъ r' .

Поэтому берутъ, во-первыхъ, на продолженн OA длину $AO' =$
 r' изъ точки O' какъ изъ центра, — радиусомъ r' описываютъ ок-
 ружность, которая во всѣхъ 3-хъ случаяхъ будетъ внѣ окружности
 r . Во вторыхъ, по направленн AO откладываютъ длину $AO'' = r'$
 и изъ точки O'' , какъ изъ центра, радиусомъ r описываютъ окруж-
 ность, которая будетъ облечена окружностью r , если $r' < r$, или же
 заключать окружность r , если $r' > r$. Но если $r' = r$, то обѣ окруж-
 ности совпадаютъ, и не получаетсяъ никакого рѣшенія.


3-й случай: $OA < r$ и 1° $r' < r$. Такъ какъ точка А
 находится въ кругѣ r , то окружность r' облечается окружностью r .
 Расстояние центровъ окружностей r и r' будетъ $r - r'$. Изъ точки
 O какъ изъ центра радиусомъ $r - r'$ опишемъ окружность, а

изъ точки A , какъ изъ центра, радиусомъ r поищемъ другую окружность, которая пересечетъ первую въ P и O' . Эти точки будутъ центрами обѣихъ окружностей r , облученныхъ окружностей. Расстояние обѣихъ вспомогательныхъ окружностей есть OA , сумма ихъ радиусовъ будетъ $r + r = 2r$, а ихъ разность $(r - r) = 0$ или $r - (r - r) = 2r - r$, смотря по тому, будетъ ли $r < r$ или $r > r - r$. Но $OA < r$. Поэтому получится решение, одно решение, или же не будетъ ни одного, смотря по тому, будетъ ли

$$OA > r - 2r, \text{ или } 2r - r, \text{ или } OA = r - 2r, \text{ или } 2r - r, \text{ или } OA < r - 2r, \text{ или } 2r - r.$$

3-й случай: $OA < r$ и $2r = r$. 3-й случай: $OA < r$ и $3r > r$. Задача очевидно, невозможна въ обоихъ этихъ случаяхъ: если точка A находится внутри окружности r , то послѣдняя должна обнять окружность r , поэтому нужно, чтобы r было $< r$, а этого нѣтъ.

137. Проводимъ $CD \parallel AB$ на расстоянии даннаго радиуса R и изъ даннаго центра O проводимъ дугу радиусомъ $R + r = OO'$. OO' и пересѣкаемъ прямую CD въ двухъ точкахъ O' и O'' изъ которыхъ центрахъ.

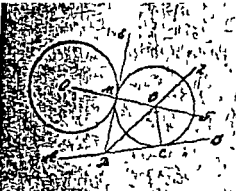


зад. 137.

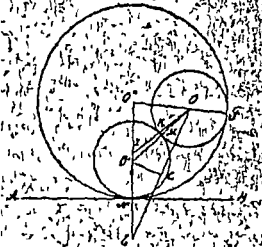
зад. 138.

138. Въ произвольныхъ мѣстахъ на сторонахъ BA и CA даннаго $\angle A$ строимъ прямоугольныя Δ -ки, KZO' и $NQ'M$, катеты которыхъ KZ и MN равны половинамъ данныхъ хордъ, а гипотенузы $O'Z$ и $O''N$ равны данному радиусу; искомый центръ долженъ лежать на линияхъ GP и QQ' параллельныхъ соответственно сторонамъ AC и AB , т. е. это будетъ пресѣчене ихъ O , даннымъ радиусомъ $O'Z = O''N$ описываемъ изъ точки O окружность RS и BM — даннымъ хордамъ.

139. Пусть O — центр данной окружности, O' — искомой, AB — прямая. Соединим O и M (данную точку касания), получим OM . Проведем $OE \perp AB$ в E . На OE найдем точку F , такую, что $OF = OM$. Проведем $ED \perp OE$ в D . Проведем DF и продолжим ее до пересечения с AB в O' . Тогда O' — искомый центр.



зад. 139.

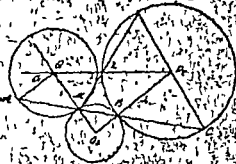


зад. 140.

140. В данной точке N строим перпендикуляр $NB \perp OM$ к радиусу OM данной окружности; тогда искомый центр лежит на перпендикуляре CO' к OE в C — середине OE , т. к. $O'O = O'E = \text{радиус}$ данной и искомой окружности; с другой стороны, проведем $NZ \perp AB$ и, равное MO , соединим Z и O и возведем $KO' \perp ZO$ в K — середине ZO , получим другой центр O' на пересечении CO' и AB ; 2 решения: 1-е — внешнее касание, 2-е — внутреннее.

141. Пусть искомая окружность O_1 касается AB в M и к окружности O_2 . Точка касания M и точка касания O_2 лежат на одной прямой O_1M и O_2B . Прямая O_1O_2 известна и потому задача сводится к определению положения точки B .

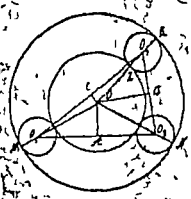
Проведем прямую AB через M и B и проведем O_2B и определим точку B . Выведем следствие из со-
 $\angle O_1MA = \angle O_2MB$, как вертикальные,
 $\angle O_1MB = \angle MBO_2$, ибо $\triangle MO_2B$ — равнобедренный, $\angle MBO_2 =$



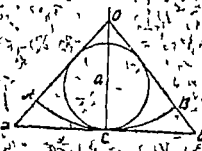
$\angle O_1BC$ и $\angle O_2BC = O_2CB$, ибо $\triangle O_2BC$ — равнобедренный. Этих равенств следует, что $\angle O_1MA = \angle O_2CB$ и, след., $O_1M \parallel O_2C$. Последнее следствие указывает, что для решения задачи надо вести $O_1C \parallel O_1M$, точку M соединить с C , полученную точку соединить с O_2 ; прямая O_1M и O_2B определяют точку O_3 . Чтобы доказать, что окружность проведенная из центра O_3 радиусом O_3M будет исконая, докажем, что $O_3M = O_3B$. Из чертежа видно $\angle O_1MA = \angle O_3MB$, $\angle O_2BC = \angle O_3BM$; $\angle O_1MA = \angle O_2CB$ и $\angle O_2CB = \angle O_3CB$. Из этих равенств выходит, что $\angle O_3MB = \angle O_3B$ потому $MO_3 = BO_3$. Это значит, что окружность радиуса O_3M идет через точки M и B и касается окружностей O_1 и O_2 .

Продолжив O_2C и соединив полученную точку D с M пересечении окружности O_2 и прямой DM находим новую точку. Если продолжим прямую O_2Z до пересечения в точку Q с прямой O_1M , то Q будет центр новой окружности, которая касается в точке M и имеет внутреннее касание, а к окружности O_2 касается в точке Z . Задача имеет два решения соответственно внутреннему и внешнему касанию окружностей, и всегда возможно. Когда точка M есть точка касания общей касательной к кругам O_1 и O_2 , радиусы O_1M и O_2B выходят параллельными, тогда получается только одно решение.

142. O_1, O_2, O_3 суть центры трех данных окружностей. O центр искомой; $OO_1 = OO_2 = OO_3$ и поэтому искомый центр находится на пересечении перпендикуляров OA, OB, OC к диаметрам A, B, C прямых O_1O_2, O_2O_3, O_3O_1 ; это случай внешнего касания; если же мы из найденного центра O опишем окружность радиусом $OO_3 + O_3K = OZ + ZK = OZ + 2O_3Z$, то получим случай внутреннего касания.



зад. 142.

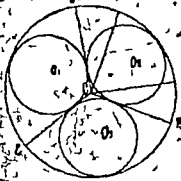


зад. 143.

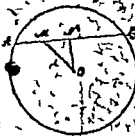
143. Разделим дугу AB пополам в точке C и проведем касательную в этой точке DE ; продолжим OA и OB до пересечения с DE в точках A' и B' .

143. Тогда задача приводится к вписыванию окружности в $\triangle ABC$, что уже известно.

144. Проводим три радиуса OA, OB, OC образующие три сектора с углами при точке O , теперь задача сводится к вписыванию в каждый сектор окружности, см. 143.



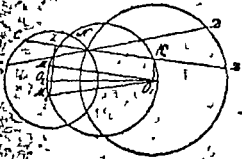
зад. 144



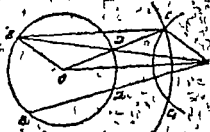
зад. 145

145. Через точку M проходит хорда AB ; согласно условию $MA = a$; преобразуем это равенство: $(NB + MN) - (NA - NM) = NB + MN - NA + NM = a$, а т. к. $NB = NA$, то $2MN = a$, откуда получим $MN = \frac{a}{2}$; итак, $\triangle MNO$ легко построить по катету $MN = \frac{a}{2}$ и по гипотенузе MO ; построивши его, продолжим MN в обе стороны до пересечения с окружностью, и получим искомую хорду AB .

146. Из данных центров O_1 и O_2 опускаем перпендикуляры O_1K и O_2Z на искомую дугу CD , затем из O_1 проводим $O_1M \parallel CD$; тогда получим прямоугольный $\triangle O_1O_2M$, в котором гипотенуза $= O_1O_2$, а катет $O_1M = KZ = \frac{CD}{2}$ (половина данной длины); этот $\triangle O_1O_2M$ легко построить; надо только из середины линии O_1O_2 описать окружность радиусом $\frac{O_1O_2}{2}$; но тогда получаются два \triangle -ка O_1O_2M и $O_1O_2M_1$; теперь через данную точку N проведем CD и $C_1D_1 \parallel O_1M$ и O_1M_1 получим два искомого положения дуги, удовлетворяющая условию.



зад. 146



зад. 147

147. Дана точка A провести окружность AB так, чтобы $AD = DB$; соединим O с A ; из O радиусом $2OD$ проведем дугу, пересечем ее дугой, проведенной из A радиусом OD ; пересечении найдем точку C ; через C проведем $CB \parallel AO$ найдем точку B ; соединим теперь B с A , получим искомую хорду AB , в которой $AD = DB$; доказательство вытекает из того, что фигура $ABCO$ есть параллелограмм. Задача возможна только тогда, когда $\angle AOC < 90^\circ$ или когда $\angle AOC = 90^\circ$; в первом случае, когда $\angle AOC < 90^\circ$, имеем два решения: AB и $A'B'$ соответствующих пересечениям дуг C и C' ; во втором случае, когда $\angle AOC = 90^\circ$, имеем только одно решение, т.е. искомая окружность проходит через центр.

148. Требуется доказать, что $K \circ B = K \circ A$; $\triangle KBO, K \circ A, O$ — равнобедренные, и, поэтому, $\angle KBO_2 = \angle O_2KB = \angle O_1K$ (KO_1 вертикальные) $= \angle KAO_1$, следовательно $\angle BO_2K = \angle AO_1K$, а потому $AK = KB$.

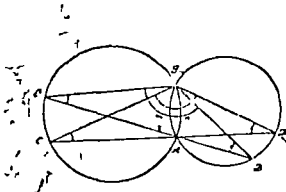


зад 148.

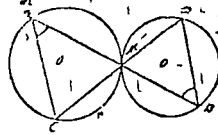
зад 148а.

148а. $AB = CD$ по условию, и обе проходят через данную внутри круга точку M ; доказать, что $MB = MC$ и $MA = MD$; проведём OM , потом $OE \perp AB$, $OF \perp CD$; тогда $OE = OF$, как расстояния от центра равных хорд; $EB = FC$, (1) $EA = FD$; $\triangle OME = \triangle OMF$ (общая гипотенуза OM и катеты OE и OF , равны отсюда имеем: $ME = MF$; прибавляя это равенство к (1) и считая от второго почленно, получим искомыми равенства $EB + ME = FC + MF$ или $MB = MC$; $EA - ME = FD - MF$ или $MA = MD$.

148b. Доказать, что $\angle CBD = \angle C_1BD$; из \triangle -ов CBD, C_1BD , имеем: $\angle CBD = 2d - (\angle BDC + \angle DCB)$; $\angle C_1BD = 2d - (\angle BD_1C_1 + \angle D_1C_1B)$. Но, т.к. $\angle BDC = \angle BD_1C_1$, $\angle DCB = \angle D_1C_1B$ (каждые опирающиеся на одну и ту же дугу BmA и B_1mA_1 , то отсюда следует, что $\angle BDC + \angle DCB = \angle BD_1C_1 + \angle D_1C_1B$, а $\angle CBD = \angle C_1BD$.



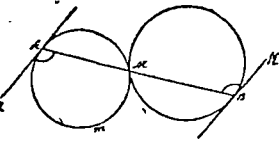
зад. 148b.



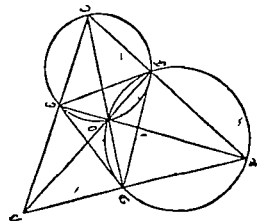
зад. 149.

149. Доказать, что $AC \parallel BD$; на основании № 148 $\overset{\frown}{CnM} = \overset{\frown}{MnD}$; и $\angle CAM = \angle DBM$; т. к. накрест-лежащие углы (внутренне) равны, то $AC \parallel BD$.

150. На основании задачи № 148, $\overset{\frown}{BnM} = \overset{\frown}{MnA}$, и $\angle ZAB = \overset{\frown}{КВА}$, как углы одного измерения; а если внутренние накрест-лежащие углы равны, то $AZ \parallel BK$.



зад. 150

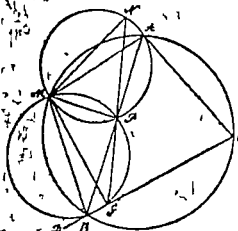


зад. 151.

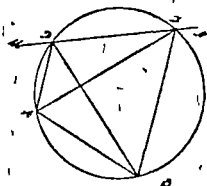
151. В треугольнике ABE проведены высоты AE, BF и CD , основания которых D, E, F соединены прямыми линиями. Так как $\angle OEC = \angle OFC = d$, то $\angle OEC + \angle OFC = 2d$, почему $\angle EOF + \angle ECF = 2d(4-2) - 2d = 2d$, следовательно, около четырехугольника $FOEC$ можно описать окружность. Точно также можно описать окружность около четырехугольника $ADOF$. Мы видим, что $\angle OCE = \angle OFE$, $\angle OFD = \angle OAD$, так как они опираются на одни и те же дуги, кроме того $\angle OAD$ и $\angle OCE$ равны, так как стороны их взаимно перпендикулярны, почему $\angle OFD = \angle OFE$, т. е. OF будет биссектрисой $\angle DFE$.

152. Предположим, что около $\triangle ABC$ описана окружность и из произвольной ее точки M опущены перпендикуляры MN, MP, MG . Требуется доказать, что MPG прямая. Так как в $\square \triangle PMN$ $\angle MNA + \angle APM = 2d$, то около него можно описать окружность см. геом. Кис. § 107, 2^о). Около $\square BMPG$ также можно описать

окружность, т. е. $\angle BGM = \angle BPM = d$. Проведем прямые MA , NP и PG , заметим $\angle MBD + \angle MBC = 2d$ и $\angle MBG = \angle MAN$. Так как треугольники BMG и AMN прямоугольны, то, следовательно, $\angle BMG = \angle AMN$. Но $\angle AMN = \angle APN$ и $\angle BMG = \angle BPG$, как опирающиеся на одну и ту же дугу (см. Кн. геом. § 151, 1°), откуда $\angle APN = \angle BPG$, и следовательно NPQ прямая.



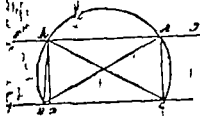
зад. 152.



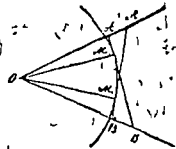
зад. 153

153. Для того, чтобы найти на бесконечной прямой MN такую точку D , из которой отрезок AB был бы виден под углом α , строим на AB дугу, вмещающую угол α (см. геом. Кн. § 165). Дуга эта пересечет прямую MN в двух точках D и D' , которые и будут искомыми точками, так как $\angle ADB = \angle AD'B = \alpha$.

154. На произвольной прямой откладываем часть BC , равную данному основанию, а затем на BC описываем дугу, вмещающую данный $\angle A$. Но нам известно, что всякая точка этой дуги удовлетворяет вопросу, т. е. треугольников по данному основанию и данному углу, ему противолежащему, можно построить бесчисленное множество, потому что всякая точка этой дуги, соединенная с точками B и C , дает требуемый треугольник, в котором $\angle BAC$ противолежащий основанию BC , равен данному углу, как опирающийся на дугу, вмещающую данный угол. Так как вопрос ограничен еще тем условием, что искомый треугольник должен иметь высоту, равную данной высоте, то мы должны на расстоянии AD , равном данной высоте, от прямой BC провести линию $EF \parallel BC$, которая проходит через окружность, как сдвигающаяся пересечет ее в двух точках A и A' , которые соединив с точками B и C , получим 2 треугольника ABC и $A'BC$, удовлетворяющие требуемым условиям; следовательно они есть искомые.



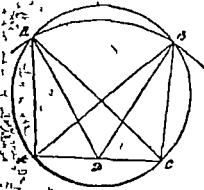
зад. 154.



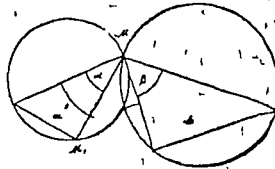
зад. 155.

155. Положим, что данъ секторъ AOB , въ которомъ требуется провести касательную AB данной длины. Задача сводится къ решению зад. 154, такъ какъ здѣсь требуется построить $\triangle AOB$, въ которомъ дано основание AB , высота OM и уголъ при вершинѣ AOB .

156. Черезъ точки A и C прямой AC проводимъ окружность, вписанную данный уголъ ABC и изъ D середины линіи AC радиусъ BD , равнымъ радиусу, описываемъ окружность, которая пересѣчетъ первую окружность въ двухъ точкахъ. Соединяя эти двѣ точки съ A и C , получимъ два искомыя треугольника ABC и ABC' .



зад. 156.

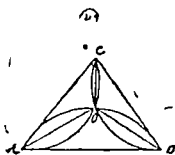


зад. 157.

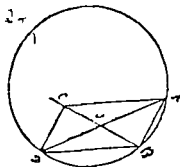
157. На прямой a строимъ дугу, вмѣщающую уголъ a , и на прямой b дугу, вмѣщающую уголъ B . Точки M и M' пересѣченія этихъ двухъ дугъ будутъ искомыми. Если окружности пересѣются, то будутъ 2 рѣшенія; если коснутся—одно, и если не коснутся и не пересѣются, то ни одного.

158. Предположимъ, что задача рѣшена. Пусть O будетъ искомая точка. $\angle AOB + \angle AOC + \angle BOC = 4d$, а такъ какъ, $\angle AOB$, $\angle AOC$ и $\angle BOC$ должны быть равны, то отсюда слѣдуетъ, что каждый изъ этихъ угловъ долженъ равняться $\frac{4}{3}$ прямого угла. Поэтому достаточно описать на каждой изъ сторонъ треугольника сегменты, вмѣщающіе $\frac{4}{3}$ прямого угла. Задача будетъ невозможна, если одинъ изъ угловъ треугольника больше $\frac{4}{3}$ прямого угла, ибо

тогда все 3 сегмента пересекнутся в точке O' вне $\triangle ABC$, а одна из углов оба вместе с остальными.



зад 158



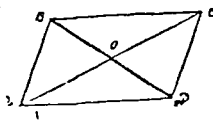
зад 159

159. Предположим, что искомый \triangle будет $\triangle ABC$, в нем даны $\angle CAB$, высота AE и медиана AF . Продолжив медиану равное расстояние до точки D и соединив полученную точку с концами основания C и B , получим параллелограмм $ABDC$. В $\triangle ABD$ сторона $AD = 2AF$, а $\angle ABD = 2d - \angle CAB$. Настроим окружность, вписывающую $\angle ABD$, а из A описываем дугу радиусом, равным высоте AE , в которой через точку проводим касательную FB , и, отложив $CF = FB$, получим искомый $\triangle ABC$. В самом деле $AF =$ данной медиане и $AE =$ данной высоте, а $\angle CAB =$ данному углу.

160. Положим, что $\triangle ABC$, в котором дано основание BC , $\angle ABC$ и $\angle BDC$ построен. Мы замечаем, что задача была решена, если бы было определено положение точки D . Соединив E , середину BC с D , видим, что $DE \parallel AB$, кроме того точка D лежит в пересечении линии DE с окружностью, проведенной через 3 точки BDC , т. е. вписывающей данный $\angle BDC$. Из этого вытекает, что для того, чтобы построить \triangle по данным 3 элементам, должно построить $\angle ABC$, равный данному, через точку E середину основания BC проводим линию $DE \parallel AB$ и на ней строим окружность, вписывающую данный угол $\angle BDC$. Пересечение этой окружности с прямой ED соединяем с точкой C и получаем ее до пересечения со стороны AB $\triangle ABC$. Полученный $\triangle ABC$ будет искомым.



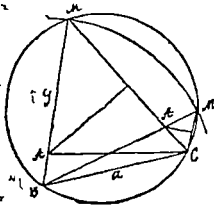
зад 160,



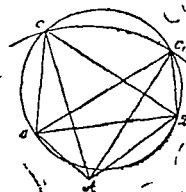
зад 161

161. Въ параллелограммѣ $ABCD$ даны диагональ AC , диагональ BD и $\angle BAD$. $\triangle ABD$, въ которомъ даны основанія ED , EF при вершинѣ BAD и медиана $AO (=1/2 AC)$, проведенная къ основанію, мы умѣемъ построить (см. рѣш. зад. 156). Проведя за D $BC \parallel AD$ и $DC \parallel AB$, получимъ искомый параллелограммъ.

162 Пусть $\triangle ABC$ будетъ искомый. Чтобы принять во вниманіе данную сумму боковыхъ сторонъ, продолжимъ BA и отложимъ $AS = S$; проведя MC , получимъ вспомогательный $\triangle BMC$. Если мы построимъ этотъ \triangle , то затѣмъ легко построить и $\triangle ABC$. Построеніе $\triangle BMC$ сводится къ нахожденію точки M . Замѣтивъ, что $\triangle BMC$ равнобедренный ($BM = BC$) и слѣдов., $\angle M = 1/2 \angle A$ (т. е. $\angle M + \angle C = \angle A$), мы видимъ, что M должна быть удовлетворяема условіямъ: 1) она удалена отъ B на разстояніе S , 2) изъ нея видна конечная прямая BC видна подъ угломъ равнымъ $1/2 \angle A$. Отбросивъ 2-е условіе, мы получимъ безчисленное множество точекъ M , лежащихъ на окружности, описанной изъ B радиусомъ равнымъ S . Отбросивъ 1-е условіе, мы получимъ также безчисленное множество точекъ M , лежащихъ на дугѣ сегмента, построеннаго на BC и вмѣщающаго $\angle = 1/2 \angle A$. Такимъ образомъ нахожденіе точки M сводится къ построенію двухъ геометрическихъ мѣстъ, изъ которыхъ каждое мы построимъ умѣемъ. Задача окажется невозможной, если эти геометрическія мѣста не будутъ имѣть общихъ точекъ; задача будетъ имѣть одно или два рѣшенія, смотря по тому, касаются ли или же пересѣкаются эти мѣста.



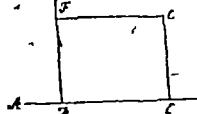
зад. 162



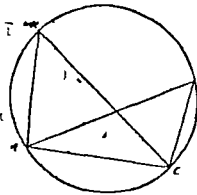
зад. 163

163. Даны диагонали AC и BD , стороны AB и AD и $\angle BCD$. Строимъ $\triangle ABD$, въ которомъ даны 3 стороны AB , BD и AD , затемъ на диагонали BD строимъ сегментъ, вмѣщающій данный уголъ $\angle C$, и изъ A радиусомъ, равнымъ диагонали AC , описываемъ дугу. Точка C пересѣченія этой дуги съ сегментомъ и будетъ четвертой вершиной искомага четырехугольника $ABCD$.

164. Предположим, что задача решена, т. е. что линия будет прямой, при чем $DE = \text{данной длины}$. Проведем CF тогда $CF = DE$ и $\perp BD$. Почему окружность, описанная из C радиусом, равным $CF = DE$, будет касательна к BD . Отсюда следует построение, а именно: из точки C радиусом, равным данной длине, описываем дугу, а из точки B к ней касающую, на которую из точки A опускаем перпендикуляр AE . Эта линия AE будет искома.



зад. 164



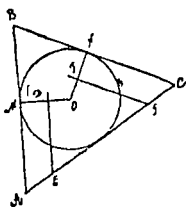
зад. 165

165. Даны 2 угла a и b . В данный круг вписываем $\triangle ABC$, равный данному $\angle a$, затем продолжаем его стороны пересечения с окружностью в точки A и C , которые соединим прямой. Прямая AC будет одной стороной треугольника. Тогда C вершину $\triangle ACB$, второй данному $\angle b$, и соединим, наконец, B с A $\triangle ABC$ и будет искома.

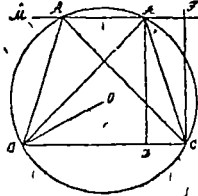
166. Даны $\angle a$ и $\angle b$. Проводим к данному кругу касательную AC и на ней при какой нибудь точке E строим $\angle A$ равный данному $\angle a$, отрезаем на сторону DE перпендикуляр CD , продолжаем его до пересечения с окружностью в точке M , наконец, через точку M проводим касательную AB . Тогда AB перпендикулярна к MO и ED тоже перпендикулярна к M . AB и ED параллельны, почему $\angle BAC = \angle DEG$. Точно так же строим $\angle ACB$, равный другому данному $\angle b$. Продолжим стороны AB и BC до пересечения в точке B , найдем искомый $\triangle ABC$.

167. Чтобы решить эту задачу, вписываем в окружность данного радиуса $OB = R$ $\angle BAC$, равный данному, и соединяем B и C прямой, затем где нибудь на BC восстанавливаем перпендикуляр $CF = h$, и проводим $FM \parallel BC$. Точки пересечения

предъявить третьи вершины A и A' двух равных треугольников ABC и $A'BC$.

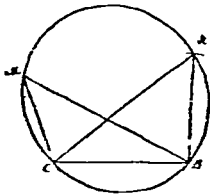


зад. 166.

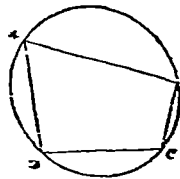


зад. 167.

168. Пусть даны $\angle BAC$ и $AB + BC = S$. Для решения этой задачи впишем в данный круг угол BMC , равный данному углу. Хорда BC будет равна одной из сторон искомого треугольника. Затем из B радиусом, равным $S - BC$, опишем дугу, которая пересечет окружность в точке A . Точка A будет третьей вершиной искомого треугольника ABC .



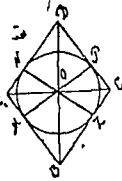
зад. 168



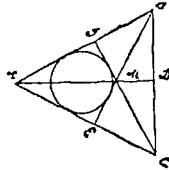
зад. 169.

169. Дана сторона AB и углы C и D . Так как во всяком вписанном четырехугольнике сумма противоположных углов $= 2d$, то $\angle A = 2d - \angle C$ и $\angle B = 2d - \angle D$, поэтому, чтобы вписать в данный круг требуемый четырехугольник, проводим в круг хорду AB , равную данной, а затем на ней при точках A и B строим углы, равные $2d - \angle C$ и $2d - \angle D$, пересечение сторон которых с окружностью определяют две другие вершины C и D искомого четырехугольника $ABCD$.

170. Так как в каждом ромбе треугольники AOB , BOC , COD и AOD равны, то и высоты их OZ , OM , ON и OP равны, почему окружность, вписанная радиусом $OZ = OM = ON = OP$, касается всех сторон ромба.



зад. 170



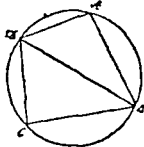
зад 171

171. Если в данномъ равностороннемъ $\triangle ABC$ проведемъ 3 высоты AD, BE, CF , то онъ раздѣлится ими на 3 равные четырехугольника $AFMC, BDMF$ и $CEMD$, т. к. въ нихъ стороны $AE = AF = BF = BD = DC = CE$, какъ половины равныхъ сторонъ, углы $\angle BAC = \angle ABC = \angle BCA$ и углы $\angle MFA = \angle MFB = \angle MDB = \angle MDC = \angle MEC = \angle MEA = d$. Такъ какъ, въ равностороннемъ треугольникѣ высоты вмѣстѣ съ тѣмъ суть биссектрисами и медианами, а мы знаемъ, что 3 медианы треугольника пересекаются въ одной точкѣ, которая отсѣкаетъ отъ каждой медианы третью часть, считая отъ соответствующей стороны, то $MF = MD = ME$. Мы видимъ, что въ четырехугольникѣ $AFME$ сумма $AE + FM = AF + EM$, слѣдовательно можно въ него вписать окружность (см. геом. Кис. § 172, 2°). Точно также мы можемъ вписать окружность въ два остальныхъ четырехугольника. Отсюда слѣдуетъ, что точки касанія этихъ окружностей съ прямыми AD, BE, CF находятся на равномъ разстоянн отъ центра M и потому окружности эти касаются въ этихъ точкахъ. Итакъ, чтобы рѣшить эту задачу, проводимъ 3 высоты и въ образовавшися 3 четырехугольника вписываемъ три равные круга, (см. геом. Кисел. 182, 2°).

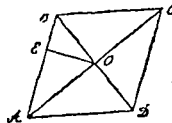
172. Даны стороны AB, BC и AD и діагональ DB . Положимъ, что задача рѣшена, т. е. что четырехугольникъ $ABCD$ будетъ искомымъ. $\triangle ABD$, въ которомъ извѣстны 3 стороны, мы можемъ построить. Въ $\triangle BCD$ даны стороны DB и BC и $\angle C = 2d - A$ (см. Кис. геом. § 170, 1°), поэтому, чтобы построить $\triangle BDC$, мы должны на прямой DB построить сегментъ, вмѣщающій данны $\angle C$ (см. геом. Кис. § 165). Описавъ изъ точки B дугу радиусомъ, равнымъ BC , точку C пересѣченія этой дуги съ дугой сегмента соединимъ съ точкой D . Полученный четырехугольникъ $ABCD$ будетъ искомымъ.

173. Діагонали BD и AC составляють биссектрисы угловъ ромба, стало быть, центръ вписаннаго круга находится въ точкѣ O пересѣченія этихъ діагоналей. Слѣдовательно, перпендикуляръ OE

AB будет радиусом вписанного круга. Въ прямоугольномъ \triangle
 BO известны гипотенуза AB и соответственная высота OE , по-
 тому можно построить этотъ треугольникъ, послѣ этого легко до-
 строить ромбъ, ибо его полудиagonали будутъ известны.

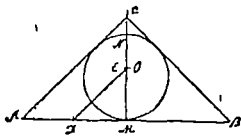


зад. 172.

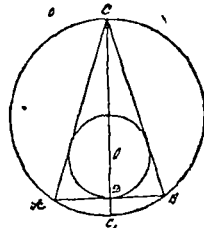


зад. 173.

174 Черезъ какую-нибудь точку M данной окружности про-
 водимъ диаметръ MN и къ нему касательную AB . Затѣмъ при ка-
 кой нибудь точкѣ D строимъ $\angle EDM = 45^\circ$, на сторону DE опу-
 скаяемъ изъ центра O перпендикуляръ OF , чрезъ точку F проводимъ
 касательную AC и при точкѣ C строимъ прямой $\angle ACB$. Продол-
 живъ сторону CB этого угла до пересѣченія ея въ точкѣ B съ
 прямою AB , получимъ $\triangle ABC$.



зад. 174.

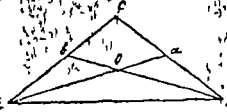


зад. 175.

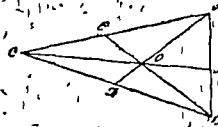
175. Предположимъ, что задача рѣшена. Пусть ABC будетъ
 искомый треугольникъ. Разсматривая фигуру, видно, что для полу-
 ченія $\triangle ABC$ достаточно возставить въ серединѣ прямой AB , равной
 данному основанію, перпендикуляръ $DO = r$, радиусу вписаннаго
 круга, описать этотъ кругъ и провести къ нему касательныя чрезъ
 точки A и B .

176. Положимъ, что искомый $\triangle ABC$ построенъ и пусть O
 будетъ точка пересѣченія его двухъ данныхъ медіанъ Aa и Bb .
 Мы знаемъ, что точка пересѣченія 3 медіанъ треугольника нахо-
 дится на $\frac{1}{3}$ каждой изъ нихъ, считая отъ соответственной стороны,
 чему $AO = \frac{2}{3}Aa$ и $BO = \frac{2}{3}Bb$, слѣдовательно, мы можемъ постро-

дуг $\triangle AOB$, зная 3 его стороны; направление сторон AC и BC определятся точками c и a , которые найдем, продолжив AO на расстояние $Oa = \frac{1}{2}AO$ и BO на расстояние $Ob = \frac{1}{2}BO$.



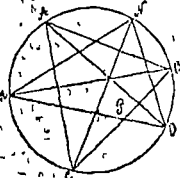
зад. 176.



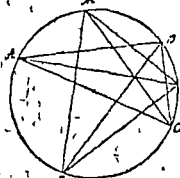
зад. 177.

177. Предположим, что $\triangle ABC$ искомый и O точка пересечения его трех медиан AD , BE и CF . В треугольнике COB нам известны две его стороны и медиана, проведенная к третьей стороне, а именно: $CO = \frac{2}{3}CF$, $OB = \frac{2}{3}BE$ и $OD = \frac{1}{3}AD$; следовательно мы можем построить этот треугольник (см. зад. 99) тогда определится сторона CB искомага треугольника и направление медианы AD , длина которой известна. Соединяя конец ее A с вершинами углов C и B , найдем искомый треугольник ABC .

178. Предположим, что задача решена, и что вписанъ въ окружность такой $\triangle MNO$, биссектрисы котораго AO , BM и CN при продолженіи, встрѣчаютъ окружность въ данныхъ точкахъ A , B и C . Соединимъ точки A , B , C . Т. е. AO есть биссектриса $\angle O$ и вслѣдствіе того $\angle O$ ею дѣлится пополамъ, а мы знаемъ, что равные вписанные углы опираются на равныя дуги, то дуга $AM =$ дугъ AN . Точно также дуга $OB =$ дугъ BN и дуга $MC =$ дугъ CO . Разсмотримъ теперь углы APC и APB . $\angle APC =$ полусуммѣ $AM + MC + BO$, а $\angle APB =$ полусуммѣ $AN + NB + CO$, следовательно, $\angle APC = \angle APB$, т. е. $AO \perp BC$. Такимъ же образомъ докажемъ, что $BM \perp AC$ и $CN \perp AB$. Отсюда слѣдуетъ, что для того, чтобы вписать требуемый \triangle , соединяемъ данныя точки A , B и C и въ полученномъ $\triangle ABC$ проводимъ высоты, пересѣчія которыхъ съ окружностью опредѣляютъ вершины искомага треугольника MNO .



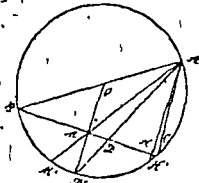
зад. 178.



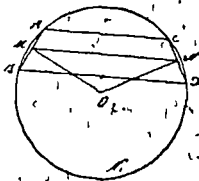
зад. 179.

179. Положимъ, что задача рѣшена и что вписанъ въ окружность такой $\triangle MNO$, высоты котораго NA , MC и OB при продолженіи встрѣчаютъ окружность въ данныхъ точкахъ A, B, C . Соединимъ точки A, B и C . Т. к. $AN \perp OM$ и $OB \perp MN$, то $\angle ANM = \angle MOB$, но $\angle ANM = \angle ACM$ (см. геом. Кн. § 156, 1°) и $\angle MOB = \angle MCB$, следовательно, $\angle ACM = \angle MCB$, т. е. MC есть биссектрисой $\angle ACB$. Точно также докажемъ, что BO есть биссектриса $\angle ABC$ и AN есть биссектриса $\angle CAB$. Отсюда, слѣдующее построение: соединивъ точки A, B и C , получимъ $\triangle ABC$, затемъ проведемъ биссектрисы угловъ и продолжимъ ихъ до пересѣченія съ окружностью въ точкахъ M, N и O . Соединивъ точки M, N и O прямыми, получимъ искомый треугольникъ.

180. Предположимъ, что задача рѣшена, что $\triangle ABC$ искомый, и что точки M, D, H суть точками пересѣченія медианы AM , биссектрисы AD и высоты AH съ описаннымъ кругомъ, центра O . Прямая OM , соединяющая центръ O съ серединою хорды BC , перпендикулярна къ этой хордѣ, т. е. будетъ $\parallel AH$; эта же прямая дѣлитъ дугу BC въ точкѣ D' на 2 равныя части. Откуда слѣдуетъ построение: чрезъ 3 данныя точки M, D, H , проводимъ окружность, затемъ проводимъ радиусъ OD' и хорду $AH' \parallel OD'$. Хорда AM' пересѣкаетъ OD' въ точкѣ M , чрезъ которую проводимъ хорду BC , перпендикулярную къ OD' или AH' .



зад. 180



зад. 181

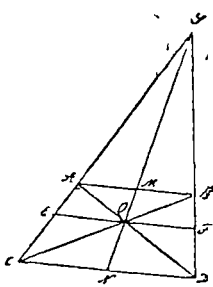
181. Положимъ, что задача рѣшена, и пусть AC и BD будутъ искомыя параллельныя линии. Проводимъ AB и CD , получаемъ трапецію $ABCD$, въ которой прямая MN , соединяющая середины сторонъ AB и CD , $= \frac{AC+BD}{2}$ или $= \frac{1}{2}$. Следовательно, точка N находится на окружностъ, описанной изъ точки M , какъ изъ центра, радиусомъ $\frac{1}{2}$. Кроме того, хорды AB и CD равны, какъ стягива-

юция равны дуги; следовательно, они одинаково удалены от центра, и точка N находится также на окружности, описанной из центра O радиусом OM. Точка N будет тогда определена. Если теперь провести MN, а через точки A и B—линии AC и BD, параллельные этой прямой, то получатся искомыми хорды.

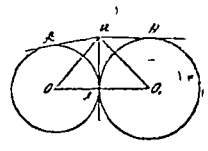
Примечание. Дуги, описанные радиусами MN и OM, пересекаются во второй точке N', и задача допускает два решения; но если придать MN наибольшее значение, которое очевидно будет $MO+ON$, то задача дает лишь одно решение, и параллельные линии AC и BD находятся в равном расстоянии от центра, а равно $4OM$; задача была бы невозможна, при $l > 4OM$. При $l = AB$ или $\frac{l}{2} = AM$, параллельная линия AC сводится к точке, и задача уже невозможна. Итак, вопрос возможен лишь при $AB < l < 4OM$, или в крайнем случае при $l = 4OM$.

189. Продолжая в трапеции ABCD не параллельные стороны до пересечения в точке S и проведем диагонали AD и BC, которых точка пересечения будет O. Проведем через O прямую EF || AB, получим подобные треугольники AEO и ACD и подобные треугольники BOF и BCD, почему $\frac{EO}{CD} = \frac{AE}{AC} = \frac{BF}{BD} = \frac{OF}{CD}$, откуда $\frac{EO}{CD} = \frac{OF}{CD}$, почему $EO = OF$. Но мы знаем, что прямые (SC, SN, SD), исходящие из одной точки (S) и пересекаемые рядом параллельных прямых (AB, EF, CD), разбиваются ими на пропорциональные части, поэтому $\frac{AM}{MB} = \frac{EO}{OF} = \frac{CN}{ND}$, откуда $AM = MB$ и $CN = ND$. Таким образом прямая SO, соединяющая точку пересечения непараллельных сторон трапеции S с точкой пересечения ее диагоналей O, делит параллельные стороны AB и CD в точках M и N пополам.

190. Дана касательная AMB к 2 окружностям O и O'. Требуется доказать, что $2ON : AB = 2NO' : AB$. Соединив O с O' и проведем общую касательную MN, видим, что $\angle AMO = \angle OMN$ и $\angle NMO' = \angle MO'N$, почему $\angle AMO + \angle NMO' = \angle OMN + \angle MO'N = 90^\circ$, следовательно, $\triangle OMO'$ прямоугольный. Но $MN \perp OO'$, почему $ON : MN = MN : NO'$ или $2ON : 2MN = 2MN : 2NO'$ или так как $MN = AM = MB$, $2ON : AB = 2NO' : AB$, что и требовалось доказать.

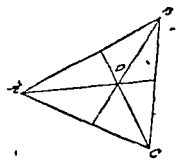


зад 189

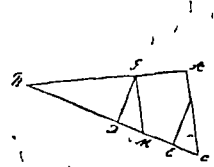


зад 190

191. Пусть стороны треугольника будут $BC=a$, $AC=b$, $AB=c$: отрезки медиан AO , BO и CO будут соответственно a' , b' , c' . Имеем $m_a = \frac{1}{2} \sqrt{2b^2 + 2c^2 - a^2}$, почему $\frac{2}{3} m_a = a' = \frac{1}{3} \sqrt{2b^2 + 2c^2 - a^2}$, откуда $3a'^2 = 2b'^2 + 2c'^2 - a^2$. Точно также получим $3b'^2 = 2a'^2 + 2c'^2 - b^2$ и $3c'^2 = 2a'^2 + 2b'^2 - c^2$. Складывая эти три равенства получим: $a^2 + b^2 + c^2 = 3(a'^2 + b'^2 + c'^2)$.



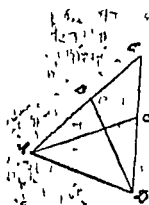
зад 191




зад 192.

192 Проведем $GM \parallel AC$; найдем, что прямоугольные треугольники DGM и EFC , у которых $DG=EF$ и $\angle DMG = \angle ECF$, равны, почему $DM=EC$. Кроме того мы имеем $BD:DG = DG \cdot EC \cdot DM$, но $DM=EC$, почему $BD:DG = DG \cdot EC$, что и требовалось доказать

193. Проводим BC , BD , AC и AD . Из равенства $EA \cdot EB = ED \cdot EC$ получается $\frac{EA}{ED} = \frac{EC}{EB}$ Δ -ки $\triangle AEC$ и $\triangle BED$ подобны, так как у них по равному углу между пропорциональными сторонами, а \angle -ы EAC и EDE равны; потому, если на линии BC описать сегмент, вмещающий $\angle EAC$, то дуга этого сегмента пройдет также через точку D . Стало быть, все четыре точки A, B, C, D находятся на одной окружности



зад. 193.



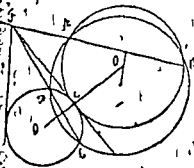
зад. 194.

194. Пусть кругъ, проведенный, чрезъ A и B и имѣющій центръ въ C , пересѣкаетъ кругъ O въ точкахъ G и H . Пусть хорда EF встрѣчаетъ AB въ точкѣ N ; проведемъ прямую GK и докажемъ, что она пройдетъ чрезъ N . Если прямая GK пересѣкаетъ кругъ O въ точкѣ H' , а кругъ D въ H'' , то на основаніи § 218 и 219, для круга O имѣемъ: $GK \cdot H'K = EK \cdot FK$, а для круга D получимъ: $GK \cdot H''K$. Прямая $H'K$ и $H''K$ считаются по прямой GK , поэтому точки H' и H'' пересѣченія круговъ O и D съ GK сливаются между собой, и, слѣдовательно, составляютъ также общую ихъ точку пересѣченія, находящуюся на свѣвающей GK .

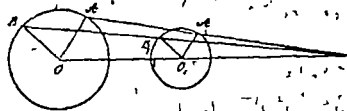
Слѣдствіе. Касательная KZ , проведенная изъ общей точки K пересѣченія, хорды круговъ, въ кругу O будетъ въ той же точкѣ Z касательною и къ кругу, проходящему чрезъ A и B и касательному съ ZK въ точкѣ Z . Въ самомъ дѣлѣ $KZ^2 = KG \cdot KH'$ по $KG \cdot KH = AK \cdot BK$, слѣдовательно, $KZ^2 = AK \cdot BK$, а точки Z , A и B принадлежатъ кругу, проходящему чрезъ A , B и касательному съ ZK въ точкѣ Z .

195. Пусть A и B двѣ данныя точки и O центръ даннаго круга. Положимъ, что задача рѣшена, и пусть O' означаетъ центръ искомаго круга, касающагося O въ точкѣ C . Этотъ центръ O' лежитъ на перпендикулярѣ, возстановленномъ изъ середины AB и на прямой OCO' проходящей чрезъ точку C ; поэтому рѣшеніе задачи сводится на опредѣленіе точки C . Но проведенная чрезъ точку C касательная къ кругу O , будетъ касательною и къ искомому кругу, откуда видимъ, что она пересѣчетъ AB въ точкѣ F пересѣченія AB съ хордою ED , полученною отъ сѣченія какого нибудь круга, проходящаго чрезъ A и B , съ кругомъ O . Слѣдовательно, для рѣшенія задачи, беремъ на перпендикулярѣ, возстановленномъ изъ середины AB , какую нибудь точку, чтобы кругъ, описанный изъ нея какъ центра, пересѣкъ данный кругъ O въ точкахъ E и D ; изъ точки

пересечении AB с ED проводим касательные FC и FC' к кру
 O и O' через 2 точки A и B и каждую из C, C' проводим ок
 жности, которые и будут искомыми. Задача имеет 2 р ш ения.
 Для точки A и B равно отстоять от центра O , то прямые AB и
 будут параллельны, и для р ш ения достаточно будет провести
 к кру O касательные параллельные AB и через их точки ка-
 шия и точки A и B провести кру ги. Задача будет невозможна,
 и одна данная точка будет в н е кру га, а другая внутри его.



зад. 195.



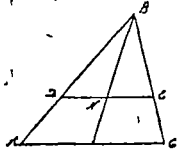
зад. 196.

196. Пусть OO' будут линия центров и радиус $OA \parallel O_1A_1$,
 $OB \parallel O_1B_1$. Проведа линию AA' и зат м продолжив ее до пере-
 сечения с OO' , в т очке C , докажем, что линия BB' , при продол-
 жении ея, пересечет линию центров в той же т очке C . Для до-
 казательства соединим B и B' с C и докажем, что линия BC и
 $B'C$ сливаются. В $\triangle AOC$ и A_1O_1C сторона $AO \parallel A_1O_1$, сл д о-
 вательно, эти треугольники подобны (см. геом. Кис. § 178), почему
 $OC : O'C = OA : O_1A_1$. Т. к. $OA = OB$ и $O_1A_1 = O_1B_1$, то будем
 иметь $OC : O'C = OB : O'B'$, и вследствие равенства $\angle BOC$ и B_1O_1C ,
 выводим, что $\triangle BOC$ и $B'O_1C$ подобны, т. е. что $\angle BCO = \angle B_1CO$,
 и следовательно, линия BC сливается с $B'C$. Итак, мы видим,
 что продолжение линии BB' , пересечет линию центров в т очке C .

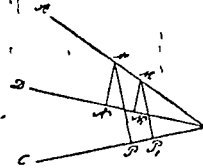
197. Пусть BM будет медиана относительно стороны AC и
 линия $DE \parallel AC$. Требуется доказать, что $DN = EN$. Мы знаем, что
 прямые, исходящие из одной точки и перес к аемые рядом парал -
 лельных пр ямых, раз с каются ими на пропорциональные части и
 сами делят эти параллельные на пропорциональные части (см. Ге-
 метр. Кис. § 194), следовательно $AM : MC = DN : NE$, а т. к. $AM =$
 MC , то и $DN = NE$, что и требовалось доказать.

198. Даны прямые AB, DB и CB , исходящие из одной т оч-
 ки B и точка M , движущаяся по прямой AB . Требуется доказать,
 что $MN : MP = M_1N_1 : M_1P_1$. Из подобных треугольников MNB

и M_1N_1B (см. геом. Кис. § 178) имеем $MB : M_1B = MN : M_1N_1$ точно также из подобных треугольников MPB и M_1P_1B имеем $MB : M_1B = MP : M_1P_1$, следовательно, $MN : M_1N_1 = MP : M_1P_1$ и $MN : MP = M_1N_1 : M_1P_1$, что и требовалось доказать.

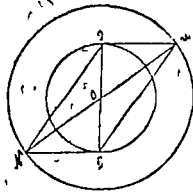


зад. 197.

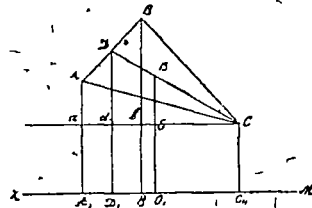


зад. 198.

199. Проведем диаметр MN и соединим N с E и F ; мы получим параллелограмм $MENF$ (так как $MO = ON$ и $EO = OF$) а потому $2EM^2 + 2MF^2 = EF^2 + MN^2$, откуда $EM^2 + MF^2 = \frac{1}{2}(EF^2 + MN^2) = \text{const.}$



зад. 199.

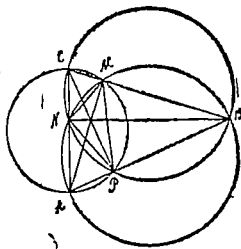


зад. 200.

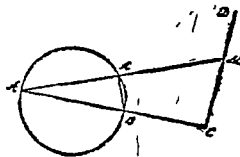
200. Пусть будут AA' , BB' и CC' перпендикуляры, опущенные из вершин треугольника ABC , на прямую ZM , D — середина стороны AB и O — точка, делящая прямую DC в отношении $1 : 2$. Проведа Sa параллельно прямой ZM , находим $OE : Dd = 2 : 3$ или $OE = \frac{2}{3}Dd = \frac{2}{3}(DD' - dD')$. Но $2DD' = AA' + BB'$, следовательно $OO' = \frac{AA' + BB'}{3} = \frac{2}{3}dD' + EO = \frac{AA' + BB' + CC'}{3}$

201. Предположим, что в данном $\triangle ABC$ проведены высоты AM , BN и CP . Соединив M, N и P прямыми, получим $\triangle ANP$, BPM и CMN ; требуется доказать, что эти треугольники подобны \triangle -ку ABC . Докажем, например, что $\triangle ABC$ и BPM подобны. В этих треугольниках $\angle ABC$ общий, поэтому если докажем, что $\angle ACB = \angle MPB$, то $\triangle ABC$ и BPM будут подобны. Опишем окружности на AC , CB и AB , к на диаметрах; точки

N и P будут лежать на этих окружностях, т. вершины правых углов, опирающихся на диаметры AC , CB и AB . Из прямоугольных $\triangle ACM$ и CPB имеем равенство $\angle ACM + \angle CAM = \angle CPM + \angle MPB$, но $\angle CAM = \angle CPM$, т. углы, опирающиеся на одну и ту же дугу CM , следовательно, имеем $\angle ACM + \angle CAM = \angle CAM + \angle MPB$, почему $\angle ACM = \angle MPB$ и $\angle ACB = \angle MPB$, что требовалось доказать. Докажем точно также, что $\angle NRA = \angle ACB$, следовательно, $\angle MPB = \angle NRA$. Вычитая это равенство из равенства $\angle APN + \angle NPC = \angle CPM$ т. е. что прямая CP будет биссектрисой $\angle NPM$. Срав. рѣш. 151.



зад 201

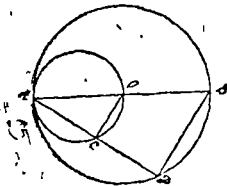


зад 202.

202. Треугольники $AA'B$ и AMC подобны, т. к. угол MAC общий, $\angle ACM = 90^\circ$ и $\angle AA'B = 90^\circ$, как опирающийся на диаметр. Из подобия этих треугольников имеем: $AM : AB = AC : AA'$, откуда $AM \cdot AA' = AB \cdot AC = \text{const}$.

203. Проведя через данную точку A в данной окружности центра O диаметр AB и какуюнибудь хорду AD , из центра O опустим перпендикуляр на хорду AD (см. черт. зад. 204). Из подобия треугольников ABD и AOC имеем: $AB : AO = AD : AC$; но $AB = 2AO$, следовательно, $2AO : AO = AD : AC$, откуда $AD = 2AC$, т. е. хорда AD делится в точке C пополам. Так как $\angle ACO = 90^\circ$, то, следовательно, точка C лежит на окружности, описанной на AO , как на диаметре. Это же рассуждение относится ко всякой хорде, проведенной через точку A . Отсюда следует, что всякая точка C новой окружности будет серединой некоторой хорды AD , т. к. $\angle ACO = 90^\circ$ и, следовательно, $OC \perp AD$ и $AC = CD$, почему эта окружность и будет искомым геометрическим местом точек.

204. Въ данной окружности через данную точку А проводимъ диаметръ АВ и какую нибудь хорду АД, которые въ точкахъ О, О дѣлятся въ отношеніи $m : n$ и $AC : CD = m : n$. Изъ подобія треугольниковъ имѣемъ $OC \parallel BD$ и $\angle ACO = \angle ADB$, а т. к. $\angle ADB = 90^\circ$, то и $\angle ACO = 90^\circ$, почему точка С точно также, какъ и другія точки дѣляція хорды, проходяція черезъ А, въ отношеніи $m : n$ лежить на окружности, опирающейя на AO , какъ на диаметрѣ. И такъ, эта окружность и есть геометрическое мѣсто точекъ, дѣляющихъ всѣ хорды, проведенныя изъ одной и той же точки окружности и въ одномъ и томъ же направленіи.



зад. 203. 204.

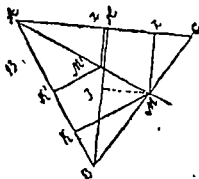


зад 205.

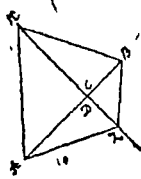
205. Если допустимъ, что М будетъ какая либо точка искомаго мѣста, то $\frac{MK}{M'Z} = \frac{m}{n}$. Проводимъ АМ и на этой прямой возьмемъ какую либо точку М, потомъ проведемъ линію M_1K_1 и $M'_1Z'_1$ соответственныя перпендикулярныя къ АВ и АС. Изъ подобныхъ треугольниковъ АМК и $A_1M_1K_1$ имѣемъ $\frac{MK}{M_1K_1} = \frac{AM}{A_1M_1}$. Изъ подобныхъ треугольниковъ АМЗ и $A_1M_1Z'_1$ имѣемъ: $\frac{MZ}{M_1Z'_1} = \frac{AM}{A_1M_1}$, почему $\frac{MK}{M_1K_1} = \frac{MZ}{M_1Z'_1}$, откуда $\frac{MK}{MZ} = \frac{M_1K_1}{M_1Z'_1} = \frac{m}{n}$. Такимъ образомъ, искомое мѣсто будетъ прямая АМ. Чтобы найти на ней точку, возьмемъ $AB = AC$ затѣмъ проведемъ къ АС перпендикуляръ ВН и раздѣлимъ ВН на два такіе отрѣзка, чтобы $\frac{BZ}{ZN} = \frac{m}{n}$. Прямая ZN, проведенная параллельно АС, опредѣлитъ на ВС точку М, относящуюся къ этому геометрическому мѣсту, ибо $MZ = ZN$, а т. к. треугольники ВJM и ВKM равны (уголъ В = С = ВМД), то $MK = BJ$.

206. Положимъ, что К и Z—двѣ изъ точекъ искомаго геометрическаго мѣста: соединимъ ихъ съ данными точками А и В, и

яке съ серединой D , отръзка AB . Имѣемъ (смъ геом. Кисел. § 213) $KA^2 + KB^2 = 2(AD^2 + KD^2)$ и $ZA^2 + ZB^2 = 2(AD^2 + ZD^2)$, (ибо KD , ZD — медианы $\triangle KAB$ и ZAB); по условию $KA^2 + KB^2 = ZA^2 + ZB^2 = \text{const.}$, т. е. точки K и Z лежатъ въ равномъ разстояніи отъ D ; такимъ образомъ, искомое геометрическое мѣсто есть окружность, центръ которой находится въ серединѣ отръзка между данными точками.



зад. 205.



зад. 207

207. Пусть точки A и B — данныя, а K и Z — двѣ изъ точекъ искомого геометрическаго мѣста. Опущенная изъ K и Z на прямую AB перпендикуляры KC и ZD , изъ прямоугольныхъ треугольниковъ CAK , CBK , DAZ и DBZ будемъ имѣть: $KA^2 = AC^2 + KC^2$; $KB^2 = CB^2 + KC^2$; $ZA^2 = AD^2 + ZD^2$; $ZB^2 = DB^2 + ZD^2$; по условию $KA^2 + KB^2 = ZA^2 + ZB^2 = \text{const.}$, или $AC^2 - CB^2 = AD^2 - DB^2 = \text{const.}$ отсюда $(AC + CB)(AC - CB) = (AD + DB)(AD - DB) = AB$. $(AC - CB) = AB / (AD + DB)$ или $AC - CB = AD - DB$; складывая полученное равенство съ равенствомъ $AC + CB = AD + DB$, найдемъ: $AC = AD$, т. е. точка D совпадаетъ съ точкой C и точки K и Z лежатъ на одномъ и томъ же перпендикулярѣ къ AB ; этотъ перпендикуляръ и будетъ искомымъ геометрическимъ мѣстомъ.

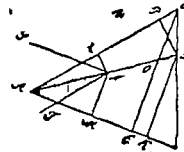
212. Внутри угла ABC дана точка M ; требуется провести прямую DC такъ, чтобы $DM : DC = m : n$. Проведа произвольную прямую MN и раздѣливъ ее на n равныхъ частей, откладываемъ на продолженіи ея отръзокъ MP , равный m частямъ, а затѣмъ проводимъ чрезъ точку P прямую $PD \parallel BC$. Соединяя точку D пересѣченія прямой PD и стороны угла AB съ точкой M , получимъ искомую линію CD . Дѣйствительно, т. к. треугольники MPD и CMN подобны (ибо у нихъ углы равны), то $DM : MC = PM : MN = m : n$.

213. Пусть искомымъ \triangle будетъ ABC . На сторонѣ BC опредѣляемъ точку D такъ, чтобы разстоянія ея DR и DP отъ двухъ другихъ сторонъ AB и AC относились какъ $m : n$, т. е. $DR : DP = m : n$. Для этого поступаемъ такъ: произвольную прямую XJ дѣ-

Возьмем въ точкѣ Z такъ, чтобы $XZ : ZJ = m : n$, затѣмъ проводимъ прямую FN параллельно AC на разстоянн ZJ отъ нея и прямую $JN \parallel AB$ на разстоянн XZ отъ нея такъ, что $MN : ZN = m : n$. Прямая NOD , на которой находится и точка D , будетъ геометрическимъ мѣстомъ точекъ, изъ которыхъ перпендикуляры опущенныя на двѣ стороны AB и AC , относятся, какъ $m : n$. Точно также найдемъ SE геометрическое мѣсто точекъ, изъ которыхъ опущенныя перпендикуляры на двѣ стороны AC и BC , относятся какъ $n : p$. Точка пересѣченія O этихъ двухъ геометрическихъ мѣстъ будетъ искомою.

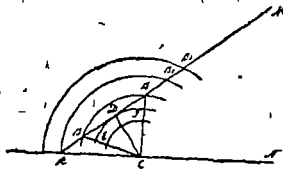


зад. 212.

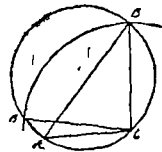


зад. 213.

214. Положимъ, что требуется построить $\triangle ABC$, въ которомъ дана сторона AC , $\angle BAC$ и отношеніе $AC : BC = m : n$. Чтобы рѣшить задачу, строимъ $\angle MAN$, = данному углу, на сторонѣ его AM откладываемъ часть AC , = данной сторонѣ, ватѣмъ изъ C радиусомъ $= AC \cdot \frac{m}{n}$, описываемъ дугу, пересѣченіе которой съ AM другою стороною $\angle MAN$ опредѣлитъ третью вершину треугольнииа. Рѣшеніе будетъ два, когда BC будетъ $> DC$ и $< AC$, одно, когда $BC = DC$ или же $BC > AC$, и ни одного, когда $BC < DC$.



зад. 214

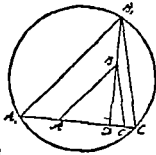


зад. 215.

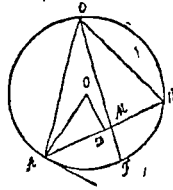
215. Положимъ, что требуется построить $\triangle ABC$, въ которомъ даны сторона AC , $\angle ABC$ и отношеніе $AC : BC = m : n$. Чтобы рѣшить эту задачу опишемъ на сторонѣ AC дугу, выѣмшающую $\angle ABC$, затѣмъ изъ C радиусомъ, равнымъ $AC \cdot \frac{n}{m}$, опишемъ дугу, пересѣ-

чение которой съ первой дугой опредѣлить В третью вершину искомаго $\triangle ABC$. Здѣсь можетъ быть два рѣшенія (когда $BC < \text{диаметра}$ круга, описаннаго около $\triangle ABC$ и $> AC$), одно рѣшеніе (когда $BC = \text{диаметру}$ круга, описаннаго около $\triangle ABC$, или $BC < AC$) и ни одного рѣшенія (когда $BC > \text{диаметра}$ круга, описаннаго около $\triangle ABC$).

216. На прямой $A'C'$ отъ произвольной точки D откладываемъ отрезки $A'D$ и $C'D$, которые бы находились между собою въ отношеніи $m:n$. Затѣмъ въ точкѣ D возстановляемъ перпендикуляръ DB' до пересѣченія его съ окружностью, проходящею чрезъ A' и C' , и вмѣщающей $\angle A'B'C' = \angle ABC$. Такимъ образомъ получимъ $\triangle A'B'C'$. На высотѣ DB' отъ точки D откладываемъ отрезокъ DB , равный данной высотѣ, и чрезъ точку B проводимъ $BA \parallel B'A'$ и $BC \parallel B'C'$. $\triangle ABC$ будетъ искомымъ: Въ самомъ дѣлѣ, $\angle ABC = \angle A'B'C'$, $A'D : AD = B'D : BD = C'D : CD$, откуда $A'D.C'D = AD : CD = m : n$.



зад 216

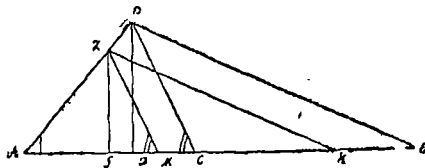


зад 217.

217. Описываемъ на B окружность, вмѣщающую данный $\angle ABC$, для чего при концѣ прямой AB строимъ $\angle BAE$, равный данному углу; изъ середины прямой AB возстановляемъ перпендикуляръ DO и изъ точки A перпендикуляръ къ AE . Пересѣченіе O этихъ двухъ перпендикуляровъ принимаемъ за центръ и радиусомъ OA описываемъ окружность. Всякій уголъ, вписанный въ сегментъ ACB , будетъ равенъ данному углу. Такъ какъ биссектриса $\angle ABC$ дѣлитъ дугу AFB на равныя части, то, раздѣливъ дугу AFB въ F пополамъ и проведя FM до пересѣченія съ окружностью въ точкѣ S , найдемъ третью вершину S треугольника ABC .

218. Такъ какъ даны 2 угла треугольника, то его видъ извѣстенъ, и потому построимъ какой нибудь $\triangle ABC$, подобный искомому; затѣмъ измѣряемъ сумму его высоты BD и основанія AC . Если построеніе сдѣлано такъ удачно, что $BD + AC = S$, то $\triangle ABC$

будет искомым. Но вообще этого не случится, и сумма $BD + AC$ будет равна прямой S' , а не S . Чтобы переделать $\triangle ABC$ в искомый, надо его умножить на $S : S'$; тогда и высота BD и основание AC умножатся на $S : S'$, сумма $BD + AC$ умножится на то же число и будет равна $S' \frac{S}{S'} = S$. Для этого не должно намёрять во сколько раз S' больше или меньше S , а нужно отложить $AE = S$ и $AK = S$, провести $KZ \parallel BE$ и затём $ZM \parallel BC$. Тогда $\triangle AZM$ будет искомым. В самом деле из $\triangle AZM, ABC, AZK$ и AB имём; 1) $AB : AZ = S' : S$ и 2) $AB \cdot AZ = BD : ZG = AC : AM$. Из пропорции находим (2) $AB \cdot AZ = (BD + AC) \cdot (ZG + AM)$ или $AB : AZ = S' : (ZG + AM)$. Сравнивая последнюю пропорцию съ (1) видим, что $ZG + AM = S$, что и требовалось доказать.



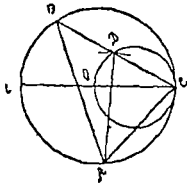
зад 218

219. Предположим, что требуется построить равнобедренный треугольник ABC , в котором дан угол B при вершинѣ и сумма $AC + BD$ (см. чертежъ 32 въ § 32 геом. Кисел.). Такъ какъ искомый треугольникъ равнобедренный и известны углы A и C , то рѣшение этой задачи приводится къ зад 218

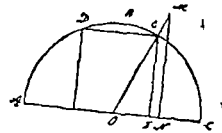
220. Мы знаемъ, что биссектрисса внутренняго угла треугольника пересѣкаетъ противоположную сторону въ такой точкѣ, которой разстоянн отъ концовъ этой стороны пропорциональны двумъ другимъ сторонамъ треугольника, поэтому, раздѣливъ основание въ данномъ отношенн, найдемъ на основании точку, чрезъ которую проходитъ биссектрисса угла при вершинѣ, и тогда задача сводится къ рѣшенн задачи 217

221. Положимъ, что требуется вписать въ данную окружность $\triangle ABC$, въ которомъ дано основание AC и медiana AD , относительно стороны BC . Чтобы рѣшить эту задачу, изъ произвольной точки A опишемъ дугу, радиусомъ, равнымъ AC , искомага треугольника ABC . Затёмъ, чрезъ точку C проводя диаметр CE , на радиусѣ CO

Възявъ на диаметръ описываемъ окружность и наконецъ изъ A радиусомъ, равнымъ данной медианѣ, описываемъ дугу, пересѣчение которой съ только что описанной окружностью опредѣляетъ среднюю сторону BC искомага треугольника ABC . Проведа прямую чрезъ C и D до пересѣченія съ окружностью въ точкѣ B , получимъ третью вершину Δ -ка ABC .



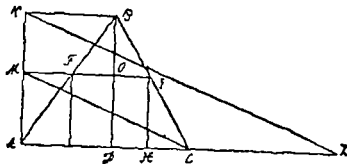
зад 221



зад 222

222 Пусть искомы квадратъ будетъ $DEFG$, точка O будетъ средина хорды AC , такъ что $AO=OC$. Изъ произвольной точки N хорды AC возстанавливается къ ней перпендикуляръ NM , равный $2ON$. Точка пересѣченія OM съ дугой будетъ одной вершиной квадрата. Проведа $ED \parallel AC$, $EF \parallel MN$ и $DG \parallel EF$, получимъ искомый квадратъ.

223 Предположимъ, что задача рѣшена и искомый квадратъ $FEGH$ вписанъ въ данный ΔABC . Разсматривая фигуру, замѣчаемъ, что сторона FG искомага квадрата параллельна сторонѣ AC даннаго треугольника, и потому достаточно знать одну изъ точекъ этой стороны FG , напримѣръ точку O ея пересѣченія съ высотой

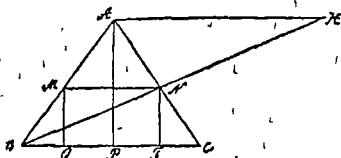


зад 223

BD . Но если означимъ сторону искомага квадрата чрезъ x и положимъ $BD=h$, то будемъ имѣть $BO=h-x$, а треугольнички ABC и FBG дадутъ пропорцію. $AC : FG = BD : BO$ или $b : x = h : (h-x)$, и отсюда $x = \frac{bh}{b+h}$. Это выраженіе показываетъ что сторона ис-

когого квадрата есть четвертая пропорциональная къ тремъ длинамъ: b , h и $b+h$. Следовательно, задача можетъ имѣть одно, два или 3 рѣшенія, смотря потому, будетъ ли данный треугольникъ ABC равносторонній, равнобедренный или разносторонній. Построеніе достаточно поясняется чертежомъ.

224. Предположимъ, что задача рѣшена, а именно въ данномъ $\triangle ABC$ вписанъ искомый прямоугольникъ $MNFQ$, у котораго $MN : NF = m : n$. Изъ вершины A данного треугольника ABC опускаемъ $\perp AP$ на BC , тогда изъ подобныхъ треугольниковъ APC и NFC имѣемъ $AP : NF = AC : NC$. Затѣмъ чрезъ точку A проводимъ $AH \parallel BC$, которая по положенію, $\parallel MN$, и точку B соединяемъ съ точкою N прямою BN , которую продолжаемъ до пересѣченія съ прямою AH въ точкѣ H , тогда изъ подобныхъ треугольниковъ BAH и BMN имѣемъ: $AB : BM = AH : MN$. Такъ какъ $MN \parallel BC$, а мы знаемъ, что стороны угла параллельными дѣлятся на пропорціональ-

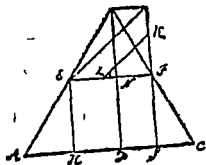


зад. 224.

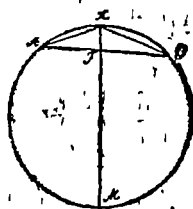
ныя части, то на основаніи этого имѣемъ $AB : BM = AC : CN$. Сравнивая эту пропорцію съ первою, получаемъ $AP : NF = AB : BM$; сравнивая, наконецъ, эту пропорцію со второю, получаемъ $AP : NF = AH : MN$. Такъ какъ MN и NF суть стороны искомага прямоугольника, то $AH : AP = m : n$. Это показываетъ, что для построенія искомага прямоугольника въ данномъ треугольникѣ ABC должно изъ вершины A провести высоту AP и прямою $AH \parallel BC$, на которой отсѣкаемъ часть AH такъ, чтобы $\frac{AH}{AP} = \frac{m}{n}$. Затѣмъ соединяемъ точку B съ точкою N прямою BN , которая пересѣчетъ сторону AC въ точкѣ N . Если мы изъ этой точки N опустимъ $\perp NF$ на BC и проведемъ $NM \parallel BC$, то эти прямыя суть стороны искомага вписаннаго прямоугольника $MNFQ$ и находятся въ отношеніи $m : n$. Въ самомъ дѣлѣ, изъ подобныхъ $\triangle BAP$ и BMQ имѣемъ: $BA : BM = AP : MQ$; изъ подобныхъ $\triangle BAH$ и BMN имѣ-

еть: $BA : BM = AN : MN$, почему $AP : MQ = AN : MN$. Но $AN : AP = m : n$, следовательно и $MN : MQ = m : n$ а такъ какъ $MQ = NF$, то и $MN : NF = m : n$, что и требовалось доказать.

225. Предположимъ, что задача рѣшена и что около даннаго квадрата $EFGH$ описанъ треугольникъ ABC , подобный данному треугольнику $A'B'C'$. Опустимъ перпендикуляры BD и $B'D'$ на основаніи AC и $A'C'$ и обозначимъ: $BN = x$, $AC = y$, $EF = m$, $A'C' = l$, $B'D' = h'$. Изъ подобія треугольниковъ EBF и $A'B'C'$ имѣемъ: $EF : AC = BN : BD$ или $m : y = x : (x + m)$, а изъ подобія треугольниковъ ABC и $A'B'C'$ получимъ $(x + m) : y = h' : b'$. Рѣшивъ эти уравненія, найдемъ; $x = \frac{mh'}{b'}$. Теперь постараемся построить x , для чего на продолженіи FG отложимъ $FK = h' = FZ = b'$; ватѣмъ проведемъ KZ и $EJ \parallel ZK$ и найдемъ, что $JF = x$, такъ какъ $JF : EF = FK : FZ$ или $JF : m = h' : b'$, откуда $JF = \frac{mh'}{b'} = x$. Затѣмъ по BF , $JF = BN$ и $\angle EBF = \angle A'B'C'$ строимъ $\triangle EBF$ и, продолживъ BE , BF и FG , получимъ искомый $\triangle ABC$.



зад. 225.

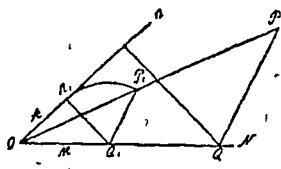


зад. 226.

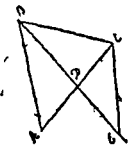
226. Пусть искомою точкою будетъ X , такъ что $AX : XB = m : n$. Тогда, соединивъ X съ точкою M серединою дуги AMB , найдемъ, что $\angle AXM = \angle MXB$, а потому (см. геом. Кис. § 198) $\frac{AX}{XB} = \frac{AM}{MB}$. По предыдущему равно $\frac{m}{n}$, следовательно $\frac{AM}{MB} = \frac{m}{n}$. Откуда заключаемъ, что X лежитъ на прямой, которой известны двѣ точки. M середина дуги AMB и F , дѣлящая AB въ отношеніи $\frac{m}{n}$.

227. Продолживъ прямую MN и AB до пересѣченія въ точкѣ O и соединимъ прямою точки O и P , возобновимъ къ прямой AB

в какой-нибудь точке R' перпендикуляр R'Q' и наконец, PQ || P'Q' и QR || Q'R'. Точка O будет искомою. Действительно $\triangle OPQ \sim \triangle OP'Q'$, поэтому $PQ : P'Q' = OQ : OQ'$; треугольники ORQ и OR'Q' также подобны, почему $RQ : R'Q' = OQ : OQ'$. Из этих двух пропорций имеем: $PQ : P'Q' = RQ : R'Q'$, но $P'Q' = R'Q'$, следовательно $PQ = RQ$, что и требовалось доказать.



зад. 227.

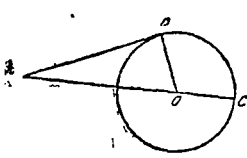


зад. 228.

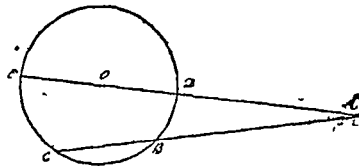
228. Даны две стороны АВ и ВС и биссектриса ВD. Продолжим ВD и проведем ЕС || АВ; получим равнобедренный треугольник. Так как $\angle DEC = \angle ABD$ и $\angle ABD = \angle DBC$, то $\angle DEC = \angle DBC$ и, следовательно, треугольник ВСЕ равнобедренный, почему $BC = EC$. Из подобия треугольников АВD и EDС имеем $\frac{AB}{ED} = \frac{BD}{DC}$, но $EC = BC$, следовательно $\frac{AB}{BC} = \frac{BD}{DC}$, откуда $DE = \frac{BC \cdot BD}{AB}$. Построим DE, как четвертую пропорциональную найдем, что $BE = BD + DE$. Таким образом, построив равнобедренный треугольник ВСЕ, по EB и $BC = EC$, и отложив на BE отрезок DE , проводим DC и, удвоив $\angle DBC$, проводим DC и удвоив $\angle DBC$, проводим AB , которой и определится искомый $\triangle ABC$.

229. Из условия задачи имеем: $\frac{x}{m} = \frac{a^2}{b^2}$, откуда $x = \frac{a^2 \cdot m}{b^2}$. Или приняв $\frac{a^2}{b^2} = n, x = \frac{n \cdot m}{b}$. Строим сперва n . Для этого на произвольной прямой (см. геом. Кис. § 203, 2^о чер. 17) откладываем часть $AB = b$ и на ней опишем полуокружность. Затем из точки А опишем дугу радиусом, равным $AD = a$, наконец, из точки D опустим перпендикуляр DC на АВ. Отрезок AC будет равен n . Найдя n , легко найти x (см. геом. Кис. § 196).

230. Предположим, что точка А будет искомая, так что $AC \parallel 2AB$. Изъ прямоугольнаго \triangle -на АВО имѣемъ $AO^2 = AB^2 + OB^2$, $AO + OC = 2AB$ или $AO^2 = AB^2 + r^2$ и $AO + r = 2AB$. Рѣшая эти равенныя, найдемъ $AO = \frac{5}{3}r$. Построивъ АО, отложимъ на сѣкущей ея величину отъ центра О, точка А будетъ искомая.



зад 230.



зад 231.

231. Пусть ABC искомая сѣкущая, такъ что $\frac{AB}{CB} = \frac{m}{n}$ откуда $AB = \frac{CB \cdot m}{n}$. Взявъ сѣкущую ADOE, проходящую черезъ центръ и означивъ AD чрезъ d, OD или OE чрезъ r, найдемъ $\frac{d+2r}{AC} = \frac{AB}{d}$ или $\frac{d+2r}{CB+AB} = \frac{d+2r}{CB + \frac{CB \cdot m}{n}} = \frac{n}{d}$; отсюда $\frac{n(d+2r)}{CB(m+n)} = \frac{CB \cdot m}{nd}$ откуда $CB^2(m+n)m = n^2d(d+2r)$, а

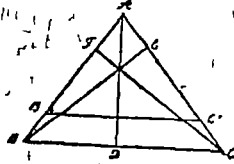
$$CB = \sqrt{\frac{n^2 d(d+2r)}{(m+n) \cdot m}} = n \sqrt{\frac{d(d+2r)}{(m+n)m}}$$

232. Пусть $\triangle ABC$ искомый. Обозначимъ чрезъ a, b, c его 3 стороны, а чрезъ a', b', c, три соответственныя высоты. Изъ подобныхъ $\triangle BCF$ и BAD имѣемъ. $\frac{a}{c} = \frac{c'}{a'}$, откуда $ab' = bb' = cc'$... (1) Для каждого изъ этихъ отношеній на a'b', выходитъ, что $\frac{a}{b'} = \frac{b}{a'} = \frac{cc'}{a'b'} = \frac{c}{a'b'}$, или $\frac{a}{b'} = \frac{b}{a'} = \frac{c}{a'b'}$. Равенство этихъ отношеній показываетъ, что если построить $\triangle AB'C'$, у котораго сторонами будутъ $AC' = b'$, $B'C' = a'$, $AB' = \frac{a'b'}{c'}$, этотъ треугольникъ будетъ подобенъ \triangle -ку ABC, и если припомнить, что въ подобныхъ треугольникахъ высоты, соответственныя сходственнымъ сторонамъ,

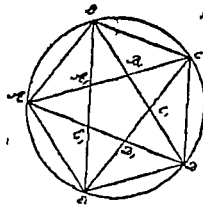
будут' оходственные прямы, то достаточно для получения $\triangle ABC$, взять на высоту, идущей из вершины А, длину $AD = a'$ и провести чрез' D линию BC, параллельную $B'C'$.

Примѣчаніе. Дабы задача была возможна, необходимо, чтобы можно было построить $\triangle A'B'C'$. Поэтому, если мы допустимъ, что $a' > b' > c'$, откуда $a' < \frac{a'b'}{c'}$, то условие возможности будетъ слѣдующее: $\frac{a'b'}{c'} < a' + b'$; ибо какая либо сторона, $\frac{a'b'}{c'}$, будетъ меньше суммы двухъ остальныхъ, полагая, впрочемъ, что она больше ихъ равенности.

Треугольникъ $AB'C'$ построить легко, потому что a' и b' даны, третья же сторона AB' есть 4-я пропорциональная къ известнымъ величинамъ a' , b' и c'



зад. 232.



зад 245

245. Проведемъ въ правильномъ пятиугольникѣ ABCDE диагонали, требуется доказать, что образовавшійся пятиугольникъ $A'B'C'D'E'$ правильный. Мы знаемъ, что около правильного пятиугольника можно провести окружность (см. геом. Кис § 228, 1^о) слѣдовательно, $\angle ABE = \angle EBD = \angle DBC = \angle BCA = \angle ACE = \angle ECD =$ и т. д., какъ вписанные углы, опирающиеся на равныя дуги, почему равнобедренные треугольники $AA'B$, $BB'C$, $CC'D$ и т. д., имѣюща равныя основанія и равныя углы при основаніи, равны, а вслѣдствіе ихъ равенства и треугольники $AE'A'$, $A'BV'$, $B'CC'$ и т. д. равны, т. е. $A'B' = B'C' = C'D' = D'E' = E'A'$ Но углы въ пятиугольникѣ $A'B'C'D'E'$ равны между собою, ибо $\angle AA'B = \angle E'A'B'$ какъ углы накрестъ лежаще, слѣдовательно пятиугольникъ $A'B'C'D'E'$ будетъ правильнымъ

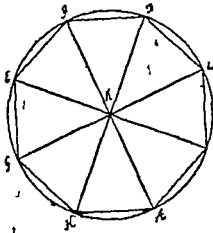
246. Равнобедренные треугольники AOB и DOC равны, почему $\angle OAB = \angle OCD$, а т. к. $\angle OCl + \angle OCE = 2d$, то слѣдовател

и $\angle OAB + \angle OCE = 2d$, и около четырехугольника $OAEC$ можно описать окружность.

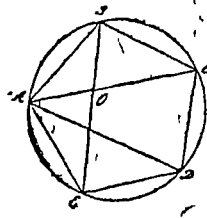
247. (1°) Изъ центра круга K проведемъ радиусы ко всѣмъ вершинамъ; тогда многоугольникъ раздѣлится на равные равнобедренные треугольники ибо они имѣютъ по 3 равныя стороны. Изъ равенства равнобедренныхъ треугольниковъ слѣдуетъ, что всѣ углы, прилежащія къ сторонамъ многоугольника, равны между собою, поэтому и сумма каждыхъ двухъ угловъ или углы многоугольника будутъ равны между собой.

(2°) Въ равноугольномъ вписанномъ многоугольникѣ стороны черезъ одну равны между собой

(4°) Въ равностороннемъ описанномъ многоугольникѣ углы чрезъ одинъ равны между собой, напримѣръ, $\angle B = \angle M$, потому что $BC = ZM$. Если же число сторонъ нечетное, то всѣ углы равны между собой.



зад 247



зад. 248.

248 -Опишемъ окружность вокругъ многоугольника. $\angle BOC = \angle OBC$, т. к. измѣрене ихъ одинаково, слѣдовательно, $\triangle BOC$ равнобедренный и $BC = OC$. Съ другой стороны $\triangle AOB$ и BAC , какъ равноугольные подобны, и потому $\frac{AB}{AC} = \frac{AO}{BC}$ стало быть $BC^2 = AC \cdot AO$ или $CO^2 = AC \cdot AO$, ибо $CO = BC$. Слѣдовательно прямая AOC раздѣлена, въ точкѣ O въ среднемъ и крайнемъ отношеніи.

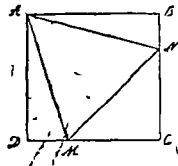
249 См. геом Кисел § 243.

250 См геом Кисел § 243.

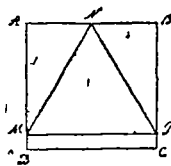
251 Чтобы срѣзать отъ даннаго квадрата углы такъ, чтобы образовался правильный 8-угольникъ, проводимъ диагонали въ данномъ квадратѣ, затѣмъ изъ пересѣченія диагоналей опускаемъ пер-

перпендикуляръ на одну изъ его сторонъ и радиусомъ, равнымъ этому перпендикуляру вписываемъ въ него кругъ. Черезъ точки пересѣченія этой окружности съ диагоналями даннаго квадрата проводимъ касательныя къ окружности, тогда и получимъ правильный восьмиугольникъ.

252. а) Предположимъ, что равносторонний $\triangle ANM$ вписанъ въ квадратъ $ABCD$. Такъ какъ въ прямоугольныхъ треугольникахъ ADM и ABN стороны $AB=AD$ и $AN=AM$, то слѣдовательно, эти треугольники равны, почему $\angle DAM = \angle BAN$, а такъ какъ $\angle MAN = 60^\circ$, то $\angle DAM + \angle BAN = 30^\circ$ или $2\angle DAM = 30^\circ$, откуда $\angle DAM = 15^\circ$. Отсюда слѣдуетъ построене. Для того, чтобы вписать равносторонний треугольникъ въ квадратъ, должно при одной изъ вершинъ квадрата на двухъ его сторонахъ построить углы $\angle DAM$ и $\angle BAN$ равные 15° , а затѣмъ провести прямыя AM , AN и MN . Треугольникъ AMN будетъ искомымъ.



зад 25 а



зад. 252б.

б) Положимъ, что равносторонний $\triangle MNP$ вписанъ въ квадратъ $ABCD$. Въ прямоугольныхъ $\triangle ANM$ и $\triangle BNP$ стороны $AN=NB$ и $NM=NP$, слѣдовательно, и самые треугольники равны, почему $\angle ANM = \angle BNP$, а такъ какъ $\angle MNP = 60^\circ$, то $\angle ANM + \angle BNP = 180^\circ - 60^\circ = 120^\circ = 2\angle ANM$ или $\angle ANM = 60^\circ = \angle BNP$. Отсюда построене: При точкѣ N середина стороны AB строимъ два угла $\angle ANM$ и $\angle BNP$, равные 60° , а затѣмъ соединяя точки N , M , P прямыми, получимъ искомый $\triangle NMP$.

254. а) Строимъ такой равнобедренный треугольникъ, чтобы основаніе его было равно большей части боковой стороны, раздѣленной въ крайнемъ и среднемъ отношеніи (см. геом. Кис. § 236), а затѣмъ уголъ, противолежащій основанію дѣлимъ пополамъ.


б) Строимъ уголъ, опирающійся на хорду, равную радиусу, а затѣмъ дѣлимъ его пополамъ. См. рѣшен. зад. 67.

с) На прямой AB при точке N строим $\angle ANC = 30^\circ$ и за-
даём угол CNB дѣлимъ пополамъ.

д) Уголъ въ 72° половина угла правильного десятиугольника,
поэтому строимъ правильный десятиугольникъ (см. геом. Кн. § 236),
затѣмъ дѣлимъ одинъ изъ его угловъ пополамъ.

255. Докажемъ, что если дуга $AD = \text{дуга } CD$, то $\angle AMB$;
 $\angle CND = CN : AM = r : R$. Положимъ, что $\angle AMB = m^\circ$ и $\angle CND =$
 n° , тогда дуга $AB = \frac{2\pi R m}{360}$, а дуга $CD = \frac{2\pi r n}{360}$, но изъ условий за-
дачи имѣемъ $\frac{2\pi R m}{360} = \frac{2\pi r n}{360}$, почему $Rm = rn$ или $R : r = n : m$.

$\frac{\angle CND}{\angle ANB}$, что и требовалось доказать.



зад. 255.

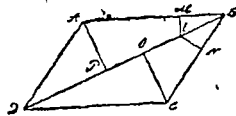
261 Изъ точки E на діагонали BD параллелограмма $ABCD$
опустимъ два перпендикуляра EM и EN на прилежащія стороны
 AB и BC ; требуется доказать, что $\frac{AB}{BC} = \frac{ON}{OM}$. Для этого опустимъ

перпендикуляры AP и CO на діагональ BD . Изъ подобія треуголь-
никовъ ABP и EBM будемъ имѣть $\frac{AB}{EB} = \frac{AP}{EM}$. Изъ подобія тре-

угольниковъ BEO и VEN будемъ имѣть: $\frac{BE}{EN} = \frac{BO}{ON}$. Раздѣливъ пер-

вую пропорцію на вторую, получимъ: $\frac{AB}{BC} = \frac{AB \cdot EN}{OC \cdot EM}$, но $AP = OC$

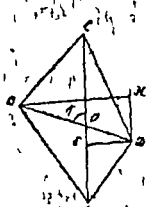
(какъ высоты двухъ равныхъ $\triangle ABD$ и BCE), следовательно,
 $\frac{AB}{BC} = \frac{EN}{EM}$, что и требовалось доказать.



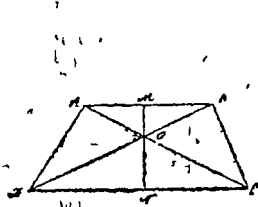
зад 261

262. Дана трапеция $ABCD$, в которой $BC \parallel AD$ и E середина AB . Из точки E опустим $\perp EF$ на CD и проведем прямую $EG \parallel BC$ до пересечения с CD в точке G ; опустим перпендикуляр DK на BC . Треугольники EFG и CDK подобны и потому $\frac{EG}{CD} = \frac{EF}{DK}$ или $EG \cdot DK = CD \cdot EF$, где $EG \cdot DK =$ площадь трапеции $ABCD$.

263. Положим, что в двух четырехугольниках $ABCD$ и $A'B'C'D'$ диагонали $AC = A'C'$, $BD = B'D'$ и $\angle BOC = \angle B'O'C'$. Проведем $DE \perp AC$, $DH \parallel AC$ и $BH \perp DH$, и точно также $D'E' \perp A'C'$ и $B'H' \perp D'H'$. Будем иметь: площадь $ABCD = \text{пл. } \triangle ABC + \text{пл. } \triangle ACD = \frac{1}{2} AC(BK + DE)$, или так как $DE = KH = \frac{1}{2} AC \cdot BH$. Таким же точно образом находим, что $\text{пл. } A'B'C'D' = \frac{1}{2} A'C' \cdot B'H'$. Из равенства прямоугольных треугольников BDH и $B'D'H'$, в которых $BD = B'D'$ и $\angle BDH = \angle B'D'H' = \angle BOK = \angle B'O'K' = \angle B'D'H'$, имеем, что $BH = B'H'$, следовательно, площадь четырехугольника $ABCD =$ площ. четырехугольн. $A'B'C'D'$ что и требовалось.



зад. 263.



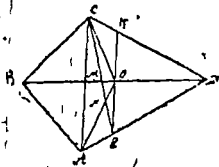
зад. 264.

264. Дана трапеция $ABCD$. Проведем высоту MN . Пусть $AB = x$, $MO = k$, $NO = z$, $DC = v$, тогда будем иметь $\frac{xy}{2} = \frac{1}{2} p^2$, $\frac{zv}{2} = \frac{1}{2} q^2$ и (из подобия $\triangle ABO$ и $\triangle ODC$) $xz = uv$. Площ. трапеции $ABCD = \frac{1}{2}(x+v)(y+z) = \frac{1}{2}(xy + yv + xz + zv) = \frac{1}{2}(xy + zv) + uv = \frac{1}{2} p^2 + \frac{1}{2} q^2 + uv$. Но $p^2 q^2 = \frac{xyzv}{4} = \frac{y^2 v^2}{4}$, почему $2pq = uv$, следовательно, площадь трапеции $ABCD = p^2 + q^2 + 2pq = (p+q)^2$, что и требовалось доказать.

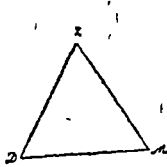
265. Пусть AB будет сторона правильного вписанного треугольника в круге O . Проведем касательные CA и CB к кругу и равнодлина CD до пересечения в точке D ; OC

пересечь AB в точке E . Угол $\angle DOA = \angle DAO$ и $\angle DAC = \angle DCA$ следовательно, $OD = AD = CD$ и $CE = \frac{1}{2}CD = \frac{1}{2}OC$, поэтому площадь $\triangle AOE = \frac{1}{4}$ площади $\triangle AOC$. Умножив обе части на 12 найдем, что площадь правильного вписанного 6-тиугольника $= \frac{3}{4}$ площ. правильного описан. 6-тиугольника.

266. Дань $\square ABCD$, въ которомъ чрезъ точку O — средину диагонали BD проведена прямая $KE \parallel CA$. Требуется доказать, что площадь $\square ABCE =$ площ. $\triangle CDE$. Соединимъ точку O съ A и C , тогда площ. $ABO =$ площ. AOD и площ. $BCO =$ площ. COD , почему площ. $ABO +$ площ. $BCO =$ площ. $AOD +$ пл. COD или площ. $ABCO =$ пл. $AOCD$. Это последнее равенство можемъ написать такъ: пл. $ABCN +$ пл. $NCO =$ пл. $ANE +$ пл. $ENOC$. Дальше мы видимъ, что $\triangle AOE$ и $\triangle COE$ равновелики, (см. геом. Квс. § 277, 1^о), следовательно и $\triangle ANE$ и $\triangle NCO$ тоже равновелики, почему предыдущее равенство не нарушится, если мы его напишемъ такъ: пл. $ABCN +$ $+ ANE =$ пл. $NCO +$ пл. $ENOC$, тогда мы видимъ, что пл. $ABCE =$ $=$ пл. CDE , что и требовалось доказать.



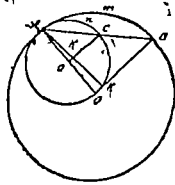
зад. 266.



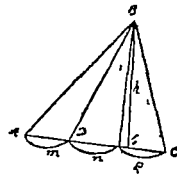
зад. 267.

267. Предположимъ, что стороны $\triangle DZM =$ медианъ $\triangle ABC$. Продолжимъ медиану AE до пересѣченія съ линіей BK , параллельною OC , тогда $\triangle BEK = \triangle OEC$, такъ какъ $BE = EC$ и углы соответственно равны; почему $\triangle BEK + \triangle BEO = \triangle OEC + \triangle BEO$ или $\triangle OBK = \triangle OBC$. Такимъ же образомъ докажемъ, что $\triangle FBO = \triangle ABC$ и $\triangle AON = \triangle AOC$. Но $\triangle OBK$, $\triangle FBO$ и $\triangle AON$ равны, такъ какъ стороны ихъ равны $\frac{2}{3}$ каждой изъ медианъ $\triangle ABC$, следовательно $\triangle ABC = 3 \triangle OBK$. Рассматривая треугольники DZM и OBK , мы видимъ, что стороны ихъ пропорціональны, такъ какъ $BK = \frac{2}{3}OC = \frac{2}{3}ZD$, $OB = \frac{2}{3}BH = \frac{2}{3}ZM$, $OK = \frac{2}{3}AE = \frac{2}{3}DM$, почему эти треугольники подобны, вследствие чего $\triangle DZM : \triangle OBK = ZM^2 : OB^2 = ZM^2 : (\frac{2}{3}ZM)^2 = 9 : 4$ или $\triangle DZM : 3 \triangle OBK = 3 : 4$, или $\triangle DZM : \triangle ABC = 3 : 4$, что и требовалось доказать.

268. Такъ какъ окружность O_1 есть, какъ известно, геометрическое мѣсто серединъ всѣхъ хордъ, исходящихъ изъ точки A , то C есть середина хорды AB , и $AC=CB$; слѣд., $\frac{OA}{O_1A} = \frac{OB}{O_1C} = \frac{AB}{AC} = 2$, и $\triangle ACO_1$ подобенъ $\triangle ABO$; на основании § 299. Геом. Кисселева имѣемъ, что площадь сегмента $Amb = [\frac{1}{2}R(S-AC)] = \frac{1}{2}OB \cdot (AmB - AK)$, а площадь сегмента $AnC = \frac{1}{2}O_1C \cdot (AnC - AK_1)$; такъ $\triangle ACO_1$ подобенъ $\triangle ABO$, то $\angle AO_1C = \angle AOB$ и AmB : $AnC = OB$: $O_1C = 2$: 1 , и AK : $AK_1 = 2$: 1 ; слѣд., площ. сегмента Amb : площ. сегмента $AnC = \frac{1}{2}OB \cdot (AmB - AK) : \frac{1}{2}O_1C \cdot (AnC - AK_1) = \frac{1}{2} \cdot 2 \cdot O_1C \cdot (2 \cdot AmC - 2AK_1) : \frac{1}{2}O_1C \cdot (AnC - AK_1) = 4$: 1 .



зад. 268.



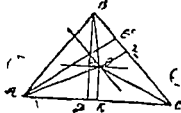
зад. 275.

275. По условію $ABD : DBE : EBC = m : n : p$; такъ какъ площади \triangle -овъ, имѣющихъ одну и ту же высоту, въ данномъ случаѣ h , относятся, какъ основанія, то $ABD : DBE : EBC = AD : DE : EC$ и такимъ образомъ мы имѣемъ $AD : DE : EC = m : n : p$, т. е. для нахождения исконыхъ линій BD , BE , надо раздѣлить основаніе \triangle -ка ABC , т. е. линію AC въ отношеніи $m : n : p$.

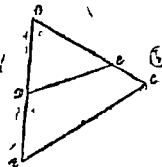
276. Такъ какъ $\triangle AOC \sim \triangle BOC \sim \triangle BOA$, то $\triangle ABC \sim 3\triangle AOC$; \triangle -ки ABC и AOC имѣютъ общее основаніе AC , а потому $BD : OK = 3 : 1$, и $OK = \frac{BD}{3}$; точно также, находимъ, что $\frac{AE}{OZ} = 3 : 1$, и $OZ = \frac{AE}{3}$; слѣдовательно, искомая точка O находится на пересѣченіи двухъ параллельныхъ линій, проходящихъ въ разстояніи, $OK = \frac{BD}{3}$ и $OZ = \frac{AE}{3}$ отъ сторонъ AC и BC .

277. Эти 2 №№ 276, 277 по ошибкѣ перемѣщены. $\triangle DBE$ (точка D дана, а E надо найти) $= \frac{1}{2}\triangle ABC$; слѣд., такъ, \triangle -ки ABC и DBE имѣютъ общій уголъ B , то $\frac{\triangle ABC}{\triangle DBE} = \frac{AB \cdot BC}{BD \cdot BE} = \frac{2}{1}$; отсюда

имеем $AB \cdot BC = 2BD \cdot BE$, и $BE : BC = AB^2 : 2BD$, т. е. исконая BE есть четвертая пропорциональная къ линиямъ BC , AB , $2BD$ и ее легко построить.

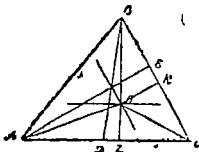


зад. 276.

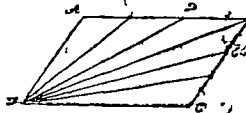


зад. 277.

278. $\triangle AOC : \triangle BOC : \triangle BOA = 2 : 3 : 4$; на основании произвольныхъ пропорцій пишемъ $(\triangle AOC + \triangle BOC + \triangle BOA) : \triangle AOC = (2+3+4) : 2$, или $\triangle ABC : \triangle AOC = 9 : 2$; т. к. \triangle -и ABC и AOC имѣютъ общую сторону AC , то имѣетъ право писать: $BD : OZ = 9 : 2$, и $OZ = 2/9 BD$; точно такъ же, изъ рассмотрѣнныя \triangle -овъ ABC и BOC , находимъ $OK = 3/9 AE = 1/3 AE$; слѣдов., исконая точка O находится на пересѣченіи двухъ параллельныхъ линий, проведенныхъ въ разстояніи $OZ = 2/9 BD$ и $OK = 1/3 AE$ отъ стороны AC и BC .



зад. 278.

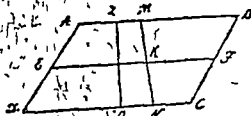


зад. 279.

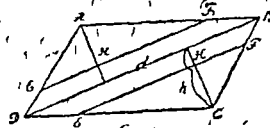
279. Раздѣлимъ сперва параллелограмъ диагональю, проходящею черезъ данную вершину, на два равныхъ треугольника и каждый изъ послѣднихъ раздѣлимъ на три равновеликія части. Для этого достаточно раздѣлить ихъ основанія на три равныя части и точки дѣленія соединить съ вершиной D . Всѣ шесть полученныхъ такимъ образомъ \triangle -овъ будутъ равновеликіи; въ самомъ дѣлѣ, каждый изъ \triangle -овъ, составляющихъ $\triangle ABD$, равенъ $1/3$ послѣдняго, такъ какъ, обладая одинаковою съ нимъ высотой, имѣетъ основаніе $= 1/3 AB$; точно также каждый изъ \triangle -овъ, составляющихъ $\triangle DBC$ равенъ $1/3$ послѣдняго; но такъ какъ \triangle -и DBC и $DA B$ равны, то и всѣ 6 малыхъ \triangle -овъ равновеликіи. Поэтому, соединяя ихъ попарно, находимъ искомыя три равновеликія части параллелограмма.

280. Проведем среднюю линию EF; пусть исконая линия MN делит параллелограмм ABCD на части: AMND, MBCN, относящиеся как m : n; имеем: $AMND : MBCN = m : n = \frac{(AM + DN)}{2}$

ZO: $\frac{(MB + NC)}{2}$ ZO = EK : KF = m : n; отсюда заключаем, что для нахождения искомой точки K, надо среднюю линию EF делить в отношении m : n и провести через нее MN.



зад. 280.



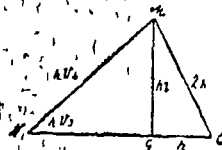
зад. 281.

281. Пусть делящая линия суть EF и E₁F₁. в таком случае $\triangle CEF = \frac{1}{3} \square ABCD$ или $\triangle CEF = \frac{2}{3} \triangle CDB$, т. к. диагональ делит параллелограмм на два равных \triangle -ка. В таком случае $\frac{EF \cdot CH}{2} =$

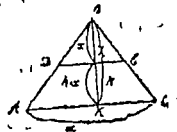
$= \frac{2}{3} \cdot \frac{d \cdot h}{2}$ или EF : CH = $\frac{2}{3} d : h$; кроме того, CH : h = EF : d. Изъ

этих двух соотношений находим $CH = h \sqrt{\frac{2}{3}} = \frac{1}{3} h \sqrt{6}$. CH

легко найти графически, построив сперва прямоугольный GCM; у которого катет GC = h, а гипотенуза CM = 2h тогда другой катет GM = h/3; построив затѣмъ прямоугольный $\triangle GMN$, оба катета которого равны h/3, видимъ, что гипотенуза MN = h/6. Итакъ отложивъ по перпендикулярамъ, опущеннымъ изъ вершинъ A и C на диагональ DB, отрезки AN' = CN' = $\frac{1}{3} h \sqrt{6}$, получимъ точки N', N, чрезъ которыя проходятъ искомыя прямыя.



зад. 281.

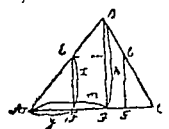


зад. 282.

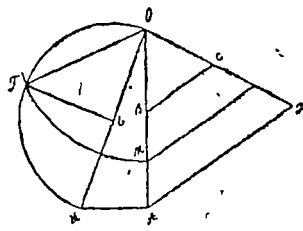
282. Пусть $\triangle ABC \sim \triangle DBE \sim \triangle DBC$; $\square ADEC$; в таком случае имеем: $\frac{a \cdot h}{2} : \frac{BE \cdot x}{2} = \frac{DE \cdot x}{2} : \frac{(DE+a)(h-x)}{2}$. Откуда $a \cdot h(DE+a)(h-x) = DE^2 \cdot x^2$; кроме того, $a : DE = h : x$, и $DE = \frac{a \cdot x}{h}$; исключив DE , получим $a \cdot h \left(\frac{a \cdot x}{h} + a \right) (h-x) = \frac{a^2 x^2}{h^2} \cdot x^2$, или $h^2 - x^2 = \frac{x^4}{h^2}$, что приводит к решению биквадратного уравнения и даёт $x = h \sqrt{\frac{\sqrt{5}-1}{2}}$; если мы это напишем: $x = \sqrt{h \cdot \left(h \frac{\sqrt{5}-1}{2} \right)}$, то увидим, что $BZ = x$ есть третья пропорциональная между $BK = h$ и $h \frac{\sqrt{5}-1}{2}$ — сторонами десятиугольника в круге, радиус которого h .

283. Пусть EF и $E'F'$ искомыми линии; в таком случае, $\triangle AEF \sim \triangle ABC$ или $\frac{xy}{2} = \frac{a \cdot h}{3 \cdot 2}$, или $xy = \frac{a \cdot h}{3}$; кроме того, имеем: $h : x = AD : y$, или: $h : x = m : y$; исключив x получим: $y \cdot \frac{hy}{m} = \frac{a \cdot h}{3}$ или $y^2 = \frac{a}{3} \cdot m$; y , т. е. отрезок AF легко найти, как среднюю пропорциональную к $\frac{a}{3}$ и m , т. е. к $\frac{AC}{3}$ и AD ; точно также можно найти отрезок F_1C .

284. $\frac{\pi R^2}{2} = \pi r^2$ или $\frac{R^2}{2} = r^2$, откуда $r = \frac{R}{\sqrt{2}} = \frac{R\sqrt{2}}{2}$, т. е. радиус r равен половине стороны квадрата, вписанного в круг радиуса R .



зад. 283.



зад. 284.

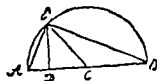
285. Предположим, что прямая MN делит трапецию ABCD пополам, т. е. что площадь MBCN: площ. ABCD = 1 : 2. Продолжим непараллельные стороны до взаимного пересечения в точке O, возьмем за неизвестную величину расстояние конца M искомого диаметра MN до вершины треугольника O и определим MO. Так как $\triangle OBC$, $\triangle OMN$ и $\triangle OAD$ подобны, то пл. $\frac{\triangle OAD}{\triangle OBC} = \frac{OA^2}{OB^2}$ и $\frac{\text{пл. } \triangle OMN}{\text{пл. } \triangle OBC} = \frac{OM^2}{OB^2}$. Из этих пропорций имеем $\frac{\text{пл. } \triangle OAD - \text{пл. } \triangle OBC}{\text{пл. } \triangle OBC} = \frac{OA^2 - OB^2}{OB^2}$ или $\frac{\text{пл. } ABCD}{\text{пл. } \triangle OBC} = \frac{OM^2 - OB^2}{OB^2}$. Разделим одну порцию на другую, получим $\frac{\text{пл. } ABCD}{\text{пл. } MBCN} = \frac{OA^2 - OB^2}{OM^2 - OB^2}$ или $\frac{OA^2 - OB^2}{OM^2 - OB^2} = 2$, откуда $OM = \sqrt{\frac{1}{2}(OA^2 + OB^2)} = \sqrt{\frac{1}{2}m^2}$, где $m^2 = OA^2 + OB^2$. Чтобы построить OM, восстанавливаем $\perp AN = OB$; получим $ON = m$, затем из точки E середины ON восстанавливаем $\perp EF$ до пересечения ее с окружностью, которой $2r = ON$, и получаем $OF = OM$. Из точки O радиусом OF опишем дугу до пересечения ее с АО в точке M, затем, правая $MN \parallel AD$; получим искомого диаметра.

287. Положим, что AMNC данный квадрат, которого площадь для краткости означим чрез k^2 . Проведем AN, и взяв B, так чтобы $\triangle ABN = \triangle ANM$, найдем, что $2AB^2 = AC^2 = k^2$; откуда $AB^2 = \frac{k^2}{2}$. Далее, приняв B' за середину AB и проведя $BD \perp AC$, за-

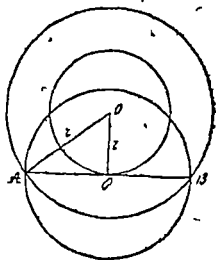
метим, что $2B'A^2 = DA^2 = \frac{k^2}{2} = \frac{k^2}{4}$, откуда $B'A^2 = \frac{k^2}{8}$. Взяв на продолжении BD часть $DF = DB' = B'A$, получим, что $FA^2 = DF^2 + DA^2 = \frac{k^2}{8} + \frac{k^2}{4} = \frac{3}{8}k^2$.

288. Пусть будет S данная сумма и q^2 данный квадрат. Надъ AB = s описываем полуокружность и восстанавливаем перпендикуляр ED = q, тогда AD и DB будут сторонами искомого прямоугольника, потому что $AD \cdot BD = ED^2 = q^2$. Пусть будет d — данная разность, q^2 — данный квадрат. Проведем прямую AB и восстановив к ней $\perp DE = q$, берем $DC = \frac{d}{2}$ и описываем из центра C радиусом CE, полуокружность, тогда AD и DB будут стороны

искомого прямоугольника. Въ самомъ дѣлѣ, имѣемъ $AD \cdot BD = DE^2 = x^2 = q^2$ и кроме того $DB = AD = AC + DC = AD = 2DC = d$.



зад. 288



зад. 289.

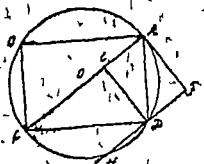
289. Обозначимъ радиусъ искомого круга чрезъ x , тогда площадь его πx^2 должна быть $=\pi r^2 - \pi r_1^2$, т. е. равности между площадью большого круга радиуса r и меньшаго радиуса r_1 ; сокращая равенство $\pi x^2 = \pi r^2 - \pi r_1^2$ на π , получимъ, что $x^2 = r^2 - r_1^2$, откуда $x = \sqrt{r^2 - r_1^2}$. Зная x , мы можемъ построить искомый кругъ. Но, проведя какую нибудь касательную къ меньшему концентрическому кругу, мы видимъ, что $AO'^2 = AO^2 - OO'^2$, $AO_1^2 = r^2 - r_1^2$, откуда $AO' = \sqrt{r^2 - r_1^2}$, но и $x = \sqrt{r^2 - r_1^2}$, следовательно, AO' и есть радиусъ искомого круга. Дѣйствительно, $AO_1^2 = r^2 - r_1^2$, умножая на π , получимъ $\pi AO_1^2 = \pi r^2 - \pi r_1^2$, и такъ, чтобы рѣшить эту задачу стоитъ только провести касательную къ меньшему концентрическому кругу до пересѣченія ея съ большимъ кругомъ въ A и B , тогда AB будетъ диаметръ искомого круга, ибо $AO' = \frac{AB}{2}$.

291. Данъ Δ , котораго основаніе b и высота h ; требуется превратить его въ равновеликій равносторонній. Предположимъ, что основаніе искомого Δ будетъ x , а высота y , то по условію $\frac{xy}{2} = \frac{bh}{2}$ или $xy = bh$, и $y = \frac{1}{2}x\sqrt{3}$ или $x = \frac{2y}{\sqrt{3}} = \frac{2}{3}y\sqrt{3}$, следовательно, $xy = \frac{2}{3}y^2\sqrt{3}$, а такъ какъ $xy = bh$, то $\frac{2y^2}{\sqrt{3}} = bh$ или $h : y = y : \frac{b}{2}\sqrt{3}$ (гдѣ $\frac{b}{2}\sqrt{3}$ есть высота равносторонняго Δ на съ основаніемъ b). Итакъ, высота искомого Δ = средней геометрической

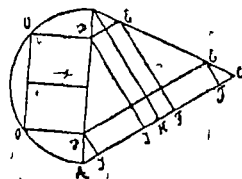
между высотой данного Δ и высотой равностороннего Δ , коего основание b . Основание x искомого Δ находимъ изъ выражения $xu = bh$ или $x : b = h : u$. т. е. x есть 4-я пропорциональная обѣихъ высотъ и основанія даннаго Δ -ка.

292. Положимъ, что задача рѣшена и что въ данный кругъ вписанъ прямоугольникъ ABCD, площадь котораго m^2 . Для рѣшенія задачи мы должны найти сторону AD или сторону DC или высоту DE. Пусть $DE = x$, тогда пл. ABCD = 2пл. ACD = $2 \cdot \frac{1}{2} AC \cdot DE = d \cdot x$. Но пл. ABCD = m^2 , почему $d \cdot x = m^2$, откуда $x = \frac{m^2}{d}$.

Итакъ, x найдемъ, какъ 4-ю пропорциональную. Чтобы построить искомый прямоугольникъ, проведемъ въ данномъ кругѣ диаметръ AC, возставимъ $\perp AF$ и отложимъ на немъ x . Затѣмъ проведемъ $FH \parallel AC$, получимъ точку D. Соединивъ D съ A и C и проведя $AB \parallel DC$ и сторону BC находимъ прямоугольникъ.



зад. 292.



зад. 293.

293. Пусть JDEF будетъ прямоугольникъ, равновеликий данному квадрату m^2 , изъ подобныхъ $\Delta \Delta ADJ$ и ΔBH выводимъ, что $\frac{DJ}{BH} = \frac{AD}{AB}$. изъ подобныхъ $\Delta \Delta DBE$ и ΔABC имѣемъ также $\frac{DE}{AC} = \frac{BD}{AB}$. Помножая почленно оба равенства находимъ $\frac{DJ \cdot DE}{BH \cdot AC} =$

$$= \frac{AD \cdot BD}{AB^2} \text{ или } \frac{m^2}{BH \cdot AC} = \frac{AD \cdot BD}{AB^2}, \text{ или же } AD \cdot BD = \frac{m^2 AB^2}{BH \cdot AC}.$$

Принимая $AD \cdot BD = x^2$ и $BH \cdot AC = l^2$, находимъ, $x^2 = \frac{m^2 \cdot AB^2}{l^2}$.

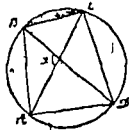
откуда $x = \frac{m \cdot AB}{l}$. Незавѣстное x определить легко, ибо это четвертая пропорциональная къ прямымъ l , m и AB . Описываютъ на AB , какъ на диаметрѣ, полуокружность AOB , затѣмъ на разстоянїи x отъ AB проводятъ къ второй линїи параллельную, которая опредѣ-

леть точку O пересечением своимъ съ полуокружностью OAB . Изъ этой точки O опускаютъ на линию $AB \perp OD$; наконецъ чрезъ точку D проводятъ линию DE , параллельную AC , и перпендикуляръ EF .

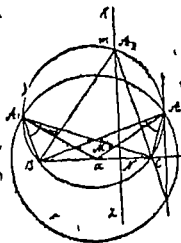
Примѣчаніе. Обыкновенно бываютъ два рѣшенія: $JDEF$ и $J'D'E'F'$, ибо $x^2 = OD^2 = O'D'^2 = AD \cdot BD = AD' \cdot BD'$, но если $x = \frac{AB}{2}$, то получается только одно рѣшеніе; наконецъ, задача стано-

вится невозможною при $x > \frac{AB}{2}$.

367. Сначала строимъ $\triangle ABC$ по тремъ сторонамъ: AB, BC, AC ; описываемъ около \triangle -ка ABC окружность, затѣмъ изъ точки B проводимъ BD подъ даннымъ угломъ α къ AC , находимъ, такъ образ. точку D и получаемъ искомый $\square ABCD$.



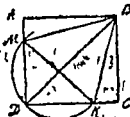
зад. 367.



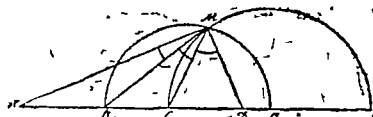
зад. 368.

368. Строимъ на данной сторонѣ BC сегментъ BmC , вмѣщающій данный $\angle A$; затѣмъ, т. к. $AB^2 + AC^2 = K^2$, то находимъ: $AM^2 = K^2 - \frac{a^2}{4}$ (см. геом. Киселева § 212), откуда $AM = \sqrt{K^2 - \frac{a^2}{4}}$, алгебраическимъ методомъ находимъ AM и описываемъ окружность изъ точки M радиусомъ AM ; въ пересѣченіи двѣ точки A и A_1 ; два рѣшенія; точно также поступаемъ въ случаѣ, если дано $A_2B^2 + A_2C^2 = K^2$; или же преобразуя: $A_2B^2 = A_2N^2 + BN^2$, $A_2C^2 = A_2N^2 + CN^2$, откуда $A_2B^2 - A_2C^2 = A_2N^2 + BN^2 - A_2N^2 - CN^2 = (BN + CN)(BN - CN) = K^2$ откуда получаемъ: $BN - CN = \frac{K^2}{a}$ и $BN + CN = a$; найди отсюда BN и CN , построимъ въ точкѣ N $KZ \perp BC$ (KZ геометрич. мѣсто точекъ, разность квадратовъ расстояній которыхъ отъ B и C равно K^2), находимъ A_2 и $\triangle A_2BC$ гайдентъ.

369. Пусть данъ равностор. $\triangle MBK$; описать квадрат $ABCD$, т. е. $\triangle ABM \cong \triangle BCK$ (гипот. $BM \cong BK$, и $AB \cong BC$), то $AM \cong CK$, и $AD \cong AM \cong DC \cong CK$, откуда $MD \cong BK$; т. е. $\angle D = d$, то точку D легко найти, описавъ на MK , какъ на диаметръ, полуокружность и проведя $BD \perp MK$, найдемъ въ пересѣченіи D ; теперь, чрезъ D , и M , или K проведемъ линіи, и изъ B опускаемъ на нихъ перпендикуляры BA , BC , находимъ искомый квадратъ.



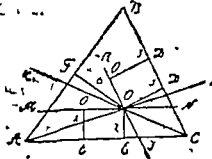
зад. 369.



зад. 370.

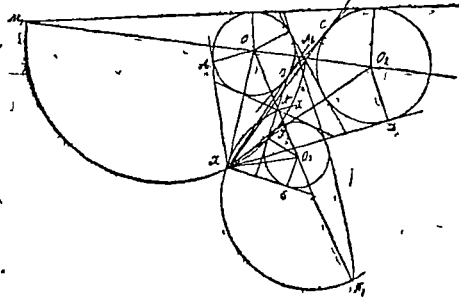
370. Пусть M искомая точка; въ такомъ случаѣ, на основаніи § 199 геом. Киселева, изъ $\triangle AMC$ имѣемъ: $MA : MC = AB : BC$ и на основаніи § 200 (тамъ же) имѣемъ, что M лежитъ на окружности, описанной на BB_1 , какъ на диаметръ, точно также, изъ $\triangle BMD$ имѣемъ: $MB : MD = BC : CD$, и точка M на основаніи § 200 лежитъ на окружности, построенной на CC_1 , какъ на диаметръ; точка пересѣченія есть искомая M .

371. Выбираемъ произвольную единицу измѣренія, и строимъ на сторонахъ CA и CB перпендикуляры O_1E_1 и O_1D_1 , соответственно равные 2 и 3 произвольно выбраннымъ единицамъ, проводимъ линіи MN и RS соответственно параллельныя сторонамъ AC и CB въ разстояніяхъ 2 и 3; чрезъ ихъ пересѣченіе O проводимъ SK ; точно также находимъ AZ , разстоянія которой отъ сторонъ AC и AB отнесены, какъ 2 : 6; въ пересѣченіи SK и AZ находимъ искомую точку O .



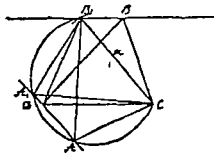
373. Пусть X будетъ искомая точка; въ такомъ случаѣ $\angle AXC = \angle CXD = \angle FXE$; $\angle AXO_1 = \angle DXO_2$ и $\triangle AXO_1$ подобенъ $\triangle XO_2D$, откуда слѣдуетъ, что $\frac{XO_2}{XO_1} = \frac{O_2D}{O_1A} = \frac{R_2}{R_1}$; на основаніи § 200

геом. Ииселева, точка X должна лежать на окружности, построенной на MM_1 , какъ на диаметръ; точно также найдемъ, что точка X должна лежать на окружности, построенной на NN_1 , какъ на диаметръ; искомая точка находится на пересеченіи этихъ двухъ геометрическихъ мѣстъ; два рѣшенія X и X_1 .

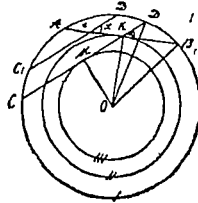


зад. 372.

374. Пусть данъ $\triangle DBC$; сначала преобразуемъ его въ $\triangle DB_1C$ съ основаніемъ $B_1C = a$; для этого, чрезъ B проводимъ линію $\parallel DC$, и изъ точки C радиусомъ $B_1C = a$ дѣлаемъ засѣчку и соединяемъ B_1 съ D ; затѣмъ на B_1C строимъ сегментъ, вмѣщающій $\angle A$, и чрезъ D проводимъ линію параллельную B_1C ; получаемъ двѣ точки A и A_1 ; два рѣшенія.



зад. 374.



зад. 375.

375. Проводимъ сначала двѣ концентрическія окружности радиусами OM и OK , опредѣляемыми изъ \triangle -овъ OMD и OKB ; чрезъ данную внутри круга точку e проводимъ AB касательную ко II-му кругу; затѣмъ проводимъ въ произвольномъ мѣстѣ $C'D'$ подъ угломъ α къ AB , и параллельно $C'D'$ проводимъ CD , касательную къ III-му кругу; AB и CD искомыя хорды,

1-е *Примечаніе*. Пусть $ABCD$ будетъ какая нибудь трапеція, въ которой прямая EE' соединяетъ середины непараллельныхъ сторонъ, а GD' есть отрѣзокъ, захватываемый на линіи EE' діагоналями трапеціи. Какъ извѣстно имѣемъ: $EE' = \frac{1}{2}(AB + CD)$ или $EG + GD' + D'E' = \frac{1}{2}(AB + CD)$. Но $EG = D'E' = \frac{1}{2}CD$, следовательно, $EG + D'E' = CD$; и потому, подставивъ CD вмѣсто $EG + D'E'$ и потомъ перенося CD во вторую часть равенства, находимъ: $GD' = \frac{1}{2}(AB - CD)$, т. е. отрѣзокъ, захватываемый діагоналями трапеціи на прямой, соединяющей середины ея непараллельныхъ, равенъ полуразности ея основаній.

2-е *Примечаніе*. Если возставить перпендикуляръ къ среднѣ линіи DC' и продолжить его до A' , до пересѣченія съ BD , потомъ провести $A'C'$, то повидимому треугольникъ $A'BC'$ отвѣчаетъ другому рѣшенію, ибо въ треугольникѣ $D'AC'$, какъ въ равнобедренномъ, уголъ $BA'C' =$ данному $\angle A$; $BC' = BC$ и $BA' + A'C' = BD = AB + AC$. Стало быть, треугольникъ $BA'C'$ отвѣчаетъ вопросу. Но $\triangle BA'C' = \triangle BAC$, ибо $A = A'$, $BC' = BC$ и $A'BC' = ACB$, ибо $ACB = 2d - D - BC'D$, а также DVC' или $A'BC' = 2d - D - BC'D$; стало быть, въ сущности есть только одно рѣшеніе.